

Школьный этап Всероссийской олимпиады школьников 2022 – 2023 учебный год
Искусство (МХК) 11 класс
Комплект заданий для учеников 11 класса
Задания выполняются в течение 120 минут

Номер задания	Максимальные баллы	Набранные баллы
1	9	
2	29	
3	35	
4	15	
5	12	
Общий балл	100	

Уважаемый участник олимпиады!

Вам предстоит выполнить теоретические (письменные) задания.

Время выполнения заданий теоретического тура **4 академических часа (180 минут)**.

Выполнение теоретических (письменных) заданий целесообразно организовать следующим образом:

– не спеша, внимательно прочитайте задание и определите наиболее верный и полный ответ;

– отвечая на теоретический вопрос, обдумайте и сформулируйте конкретный ответ только на поставленный вопрос;

– если Вы отвечаете на задание, связанное с заполнением таблицы или схемы, не старайтесь детализировать информацию, вписывайте только те сведения или данные, которые указаны в вопросе;

– напишите букву (цифру), соответствующую выбранному Вами ответу (в случае использования заданий с выбором ответа из предложенных);

– особое внимание обратите на задания, в выполнении которых требуется выразить Ваше мнение с учетом анализа ситуации или поставленной проблемы. Внимательно и вдумчиво определите смысл вопроса и логику ответа (последовательность и точность изложения). Отвечая на вопрос, предлагайте свой вариант решения проблемы, при этом ответ должен быть кратким, но содержать необходимую информацию;

– после выполнения всех предложенных заданий еще раз удостоверьтесь в правильности выбранных Вами ответов и решений.

– если потребуется корректировка выбранного Вами варианта ответа, то неправильный вариант ответа зачеркните крестиком и рядом напишите новый.

Задание теоретического тура считается выполненным, если Вы вовремя сдаете его членам жюри.

Максимальная оценка за задания теоретического тура – 100 баллов.

**Школьный этап Всероссийской олимпиады школьников 2022 – 2023 учебный год
Искусство (МХК) 11 класс**

Задание 1.

Определите **ЛИШНЕЕ** в ряду.

Кратко поясните свой выбор.

Заполните таблицу.

1. Венера, Аврора, Фрейя, Диана.
2. Рокотов, Шубин, Левицкий, Боровиковский.
3. «Антоний и Клеопатра», «Гаргантюа и Пантагрюэль», «Король Лир», «Отелло».

Номер ряда	Лишнее слово/имя/название	Краткое обоснование выбора
1.	Фрейя 1	не древнегреческая богиня 2
2.	Шубин 1	не живописец 2
3.	«Антоний и Клеопатра» 0	в отличие от других содержит египетский сюжет 0

Оценочные баллы: максимальный – 9 баллов; фактический – 6 баллов.

Подписи членов жюри: _____


Задание 2.

Рассмотрите внимательно три изображения.

Заполните таблицу и укажите:

1. Названия произведений.
2. Авторы произведений, если они известны.
3. К какой стране, эпохе / стилю / направлению относятся произведения.
4. Время их создания.


1.

	Название произведения искусства
	Автор
	К какой стране, эпохе / стилю / направлению относится
	Время создания произведения

Загажи P
Возрождение; Италия
XVI век 0


Школьный этап Всероссийской олимпиады школьников 2022 – 2023 учебный год
Искусство (МХК) 11 класс

2.

	Название произведения искусства
	Автор
	К какой стране, эпохе / стилю / направлению относится
	Время создания произведения

модернизм 2
XX век 1

3.

	Название произведения искусства
	Автор
	К какой стране, эпохе / стилю / направлению относится
	Время создания произведения

Оценочные баллы: максимальный – 29 баллов; фактический – 3 баллов.

Подписи членов жюри: _____

Задание 3.

Рассмотрите репродукцию картины.

1. **Напишите** название картины.
2. **Напишите** полное имя художника – автора картины.
3. **Напишите**, художником какой страны являлся автор картины.
4. **Укажите** дату и время создания произведения.
5. **Опишите** общую композицию картины.
6. **Назовите** наиболее значимые детали, их значение в композиции картины.
7. **Определите** общее настроение картины.
8. **Укажите** три известные Вам работы этого же художника.



Школьный этап Всероссийской олимпиады школьников 2022 – 2023 учебный год
Искусство (МХК) 11 класс

1.	
2.	Франциско Гойя
3.	
4.	
5.	<p>Общая композиция картины</p> <p>Композиция картины - диагональная. Движение происходит с левого верхнего угла и правому нижнему. Это направление подчеркивает и расположение дороги. Все фигуры связаны между собой: один человек держит другого за плечо, а третий опирается на трость. Также присутствует элемент пейзажа: долины какого-то поселения, холмы, деревья. Композиция динамична; во-первых, это подтверждается движением изображенных мужчин: есть ощущение, что всеяд за первым упадут все герои; во-вторых, диагональное расположение линии композиции говорит о её неустойчивости. На $\frac{1}{3}$ картины и в её центре расположились две фигуры мужчин, они прописаны автором более детально и занимают важное место в композиции.</p> <p style="text-align: right;">5</p>
6.	<p>Наиболее значимые детали, их значение в композиции картины</p> <p>Главное место в композиции занимают фигуры в-ти мужчин. Их шаги направлены и педу, но взгляд пустой. Трость в руке каждого указывает на их странствующий образ жизни. Человек, ведущий остальных упав, это однозначно указывает на возможность</p>

Школьный этап Всероссийской олимпиады школьников 2022 – 2023 учебный год
Искусство (МХК) 11 класс

	<p>выбранного историч пути. На заднем плане распо- лагается здание похожее на храм, а также крыша жилого дома. Это указывает на то, что изображенная группа людей не принята обществом, ведь мужчины уходят в другом направлении от по- селения.</p> <p style="text-align: right;">10</p>
7.	<p>Определите общее настроение картины</p> <p>Настроение картины - печальное и унылое. Смотря на произведение, кажется словно мужчины слепы, они идут в погонную ораву и идут с тростями, будто би странствуют по миру, не имея своего дома.</p> <p style="text-align: right;">3</p>
8.	<ol style="list-style-type: none">1.2.3.

Оценочные баллы: максимальный – 35 баллов; фактический – 18 баллов.

Подписи членов жюри: _____

Задание 4.

Дан ряд имен, связанных с искусством, и изображения деятелей искусства.

**Школьный этап Всероссийской олимпиады школьников 2022 – 2023 учебный год
Искусство (МХК) 11 класс**




- Объедините** имена в группы, впишите в соответствующие строки таблицы и **укажите** принцип объединения.
- Соотнесите** изображения с фамилиями деятелей искусства и результат занесите в таблицу.

1.

Левитан. Станиславский. Вознесенский. Тютчев. Шишкин. Немирович-Данченко

Имена	принцип объединения
Левитан, Шишкин 2	животисцы 1
Станиславский, Немирович - Данченко 2	композиторы 0
Вознесенский, Тютчев 2	поэты 2

2.

		
№1 –	№2 –	№3 – <i>Вознесенский</i>

Оценочные баллы: максимальный – 15 баллов; фактический – 9 баллов.

Подписи членов жюри: _____

Задание 5.

Узнайте произведение.

Даны кадры фильма и его описание.



Советский художественный фильм о великом древнерусском князе. Он был снят в 1938 году. Центральным сюжетом киноленты является разгром немецких рыцарей в битве на Чудском озере 5 апреля 1242 года.

Напишите:

- название фильма:

„Александр Невский“ 3

Школьный этап Всероссийской олимпиады школьников 2022 – 2023 учебный год
Искусство (МХК) 11 класс

2. полное имя режиссера фильма:

3. жанр кинофильма:

документальный

4. Сформулируйте две главные идеи фильма: чему он учит зрителя:

Фильм воспитывает патриотизм: на примере подвига Невского в 1242 году мы видим красоту и доблесть русского народа. Подобные фильмы формируют прививочную гордость за Отечество, учат гордиться историей.

Также фильм учит терпению и способности мужественно выносить все невзгоды.

4

Оценочные баллы: максимальный – 12 баллов; фактический – 7 баллов.

Подписи членов жюри:

Максимальная оценка за задания – 100 баллов

Председатель жюри - Брунова ВВ
Члены жюри: Славеева СЕ
Серебрянская ИР

Жюри
Славеева СЕ
Серебрянская ИР

430