

Всероссийская олимпиада школьников по географии 2022 -2023. Школьный этап. 7-8 классы
Теоретический тур

Задание 1. (10 баллов)

На каком материке расположена большая часть приведённых в овалах географических объектов? Впишите это слово в круг. Нанесите эти объекты на карту.



Ответы: Евразия 1



Задание 2 (3 балла)

Город Каргополь находится в Архангельской области, на левом берегу реки Онеги. У местных жителей есть особый говор (манера говорить отличается от жителей, например, Калининградской области и других регионов России) и существуют слова, которые употребляют только в этой местности. Так, есть слова: водожомина, зыбун, жидель, топость – как вы думаете, что означают эти слова? (это названия одного и того же природного объекта)

Ответ: Ледяные сныдь.

Задание 3 (2 балла)

Мёртвое море - это бессточное солёное озеро на Ближнем Востоке, располагающееся между Израилем, Иорданией и Палестиной. Побережье моря является самым низким участком суши на Земле. На арабском языке оно так и


Всероссийская олимпиада школьников по географии 2022 -2023. Школьный этап. 7-8 классы называется - аль-Бахр аль-Майит (Мёртвое море). Почему оно так называется? Объясните свой ответ.

Ответ: из-за огромной кол-во соли в воде в это м море

Задание 4 (5 баллов)

нету рыбы и других живыотей

Установите соответствие между каждым из положений Земли на орбите по отношению к Солнцу. Впишите дату и название положения в пустые прямоугольники:



ВСЕГО ЗА ТЕОРЕТИЧЕСКИЙ ТУР – 20 БАЛЛОВ

Тестовый тур

Выберите правильный ответ

1. Установите соответствие между описанием прибора и его изображением, впишите его название:

Прибор	
<p>1А</p>	<p>2Б</p>
<p>3Б</p>	<p>4Г</p>

А) измеряет давление; Б) измеряет температуру; В) измеряет силу ветра;
Г) показывает координаты, картирует точки маршрута, показывает высоту и пр.

2. Какое утверждение о Мировом океане верно?

- 1) наибольшую соленость имеют поверхностные воды тропических широт;
- 2) самое мощное течение Мирового океана – Гольфстрим;
- 3) средняя соленость поверхностных вод Мирового океана – 48%;
- 4) температура вод Мирового океана повышается с глубиной.

3. Какое утверждение о земной коре является верным?

Всероссийская олимпиада школьников по географии 2022 -2023. Школьный этап. 7-8 классы

1) средняя мощность земной коры составляет от 5-6 км под горами до 60-75 км под океанами;

2) самым верхним слоем земной коры на материках и океанах является осадочный;

3) строение материковой и океанической земной коры одинаково;

4) при углублении в недра Земли температура и давление падают.

4. Какое утверждение о ледниках является верным?

1) горные ледники образуются только в экваториальных широтах;

2) высота снеговой линии максимальна в высоких широтах;

3) единственные два покровных ледника на Земле – Антарктический и Гренландский;

4) в горах России горные ледники отсутствуют.

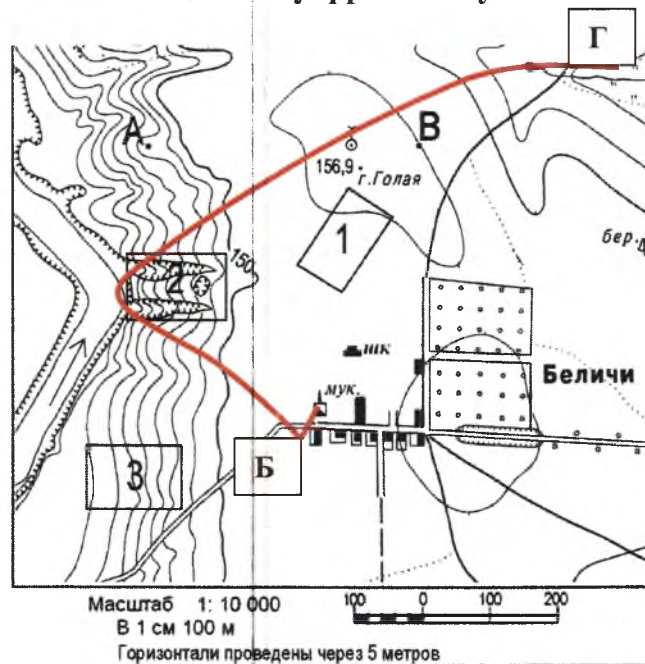
5. О чем идёт речь в определении, впишите:

осадок - вода в жидком или твёрдом состоянии, выпадающая из облаков или осаждающаяся из воздуха на земную поверхность и какие-либо предметы.

6. О каком острове идёт речь?

Это крупнейший на Земле остров. Расположен на северо-востоке Северной Америки, а потому с точки зрения физической географии относится к ней. Политически относится к Европе, поскольку вместе с окружающими меньшими островами образует одноимённую административную автономную единицу, входящую в состав Датского королевства. Омывается Атлантическим и Северным Ледовитым океанами. *о. Гренландия*

Задания 7 и 8 выполняются по данному фрагменту плана местности:



7. Укажите природные и антропогенные объекты, которые встретятся туристам на пешем маршруте по линии Б-Г, необходимо перечислить не менее 10 объектов.

8. Какой берег реки круче – левый или правый? Объясните почему:

9. Определите страну по изображению её контура:



А) Япония

Б) Филиппины

В) Куба

Г) Исландия

10. Прочтите отрывок текста из очерка Ги де Мопассана:

«Алжир превзошёл мои ожидания. Как прекрасен этот белоснежный город при ярком дневном свете! Вдоль пристани тянется громадная терраса. Над ней высятся большие европейские гостиницы и французский квартал, а ещё выше взбирается по уступам арабский город – нагромождение причудливых белых домов, прилепившихся друг к другу...»

Вопросы: А) На каком континенте расположен этот город? Б) Столицей какого государства он является?

Ответ: А) Африка; Б) Алжир

11. Выберите два верных утверждения:

- А) Джеймс Кук достиг берегов Австралии и погиб там;
- Б) Витус Беринг открыл Антарктиду;
- В) Фернан Магеллан первым совершил кругосветное плавание;
- Г) Семен Дежнев первым из европейцев побывал в Китае.

12. В рельефе Африки преобладают:

- А) равнины и плато;
- Б) низменности и впадины;
- В) горы и горные хребты;
- Г) плоскогорья и нагорья.

13. Чем, прежде всего, знаменита Куршская коса? Выбрать два правильных ответа.

- А) Только здесь в Калининградской области водится пятнистый олень
- Б) Дюнные комплексы, достигающие высоты 40-50 м
- В) Здесь проходит старая железная дорога, чей возраст превышает 200 лет
- Г) Через косу проходит миграционный путь птиц

14. Подпишите на фрагменте картосхемы страны, которые являются соседями Литовской Республики:



15. Почему в Балтийском море низкая соленость воды? Выбрать два правильных ответа.

- А) в море впадает много рек, опресняющих морскую воду;
- Б) климатические особенности (достаточное количество осадков и низкий коэффициент испарения);
- В) на дне моря много глубоких впадин, в которых накапливается соль.
- Г) из морской воды Балтийского моря добывают соль, после удаления опреснённую воду сбрасывают обратно в водоём.

БЛАНК ОТВЕТОВ

Теоретический тур

ШИФР:

Задание 1. Количество баллов – 10 (по одному баллу за каждый правильный ответ)

Ниль-7
 Атлантический-8
 Индийский-9



Черное море - 1
 П-ов. Камчатка - 2
 о. Сахалин - 3
 Тиринийский п-ов. - 4
 Скандинавский п-ов. - 5
 Балка - 6

Задание 2

Количество баллов - 3

Максимум снегов

0

Задание 3

Количество баллов - 2

из-за огромного кол-во воды в этом море между рыбой и любой другой живностью

20

Задание 4

Количество баллов – 5 (в случае даже одного случая неправильной расстановки баллы не начисляются)

лето, осень, зима, весна

00

Тестовый тур

№	Ответ	
1	A-1, B-3,	B-2, Г-4,
2	2 1	
3	2 1	
4	3 0	
5	осадок 0	
6	о. Гренландия 1	

70

География

ШИФР:

Тестовый тур

№	Ответ		
7	лес, склон, река, обрыв, обвал, гора, ровнина, фруктовая дача, населенный пункт, березовый роща		0
8	Левый берег круче, т.к. мы видим по плану местности что правый берег представляли плоско-предельно, а с левого берега идет обрыв.		0
9	Г		1
10	A) Африка	B) Алжир	20
11	AB		1
12	A		0
13	БГ		1
14	1) Мальдивы	3) Беларусь	
	2) Россия	4) * Латвия	20
15	AB		1

Обучаю в 240.

Григорьевские нтты: Семеновские ТПК Гросс

Человек нтты: Директор АН А
 Лауреат АА Ла
 Анур Ол Омур
 Кертавики СТ СМ
 Стаскино СК Стр
 Уленово НА Ур

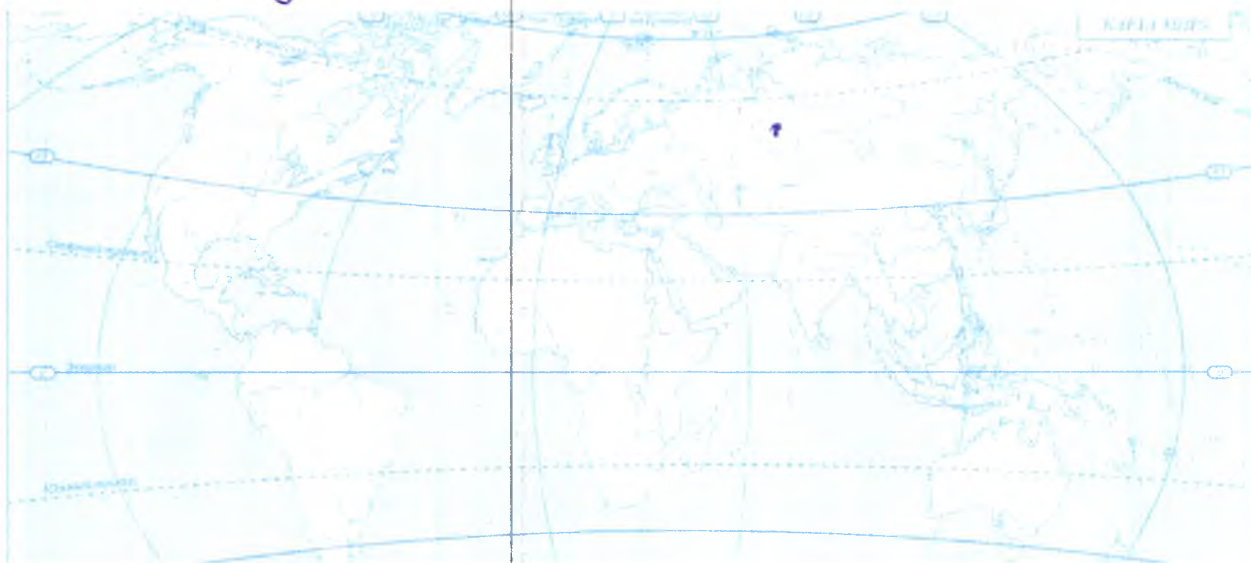
Всероссийская олимпиада школьников по географии 2022 -2023. Школьный этап. 7-8 классы
Теоретический тур

Задание 1. (10 баллов)

На каком материке расположена большая часть приведённых в овалах географических объектов? Впишите это слово в круг. Нанесите эти объекты на карту.



Ответы: Евразия



Задание 2 (3 балла)

Город Каргополь находится в Архангельской области, на левом берегу реки Онеги. У местных жителей есть особый говор (манера говорить отличается от жителей, например, Калининградской области и других регионов России) и существуют слова, которые употребляют только в этой местности. Так, есть слова: водожомина, зыбун, жидель, топость – как вы думаете, что означают эти слова? (это названия одного и того же природного объекта)

Ответ: болото

Задание 3 (2 балла)

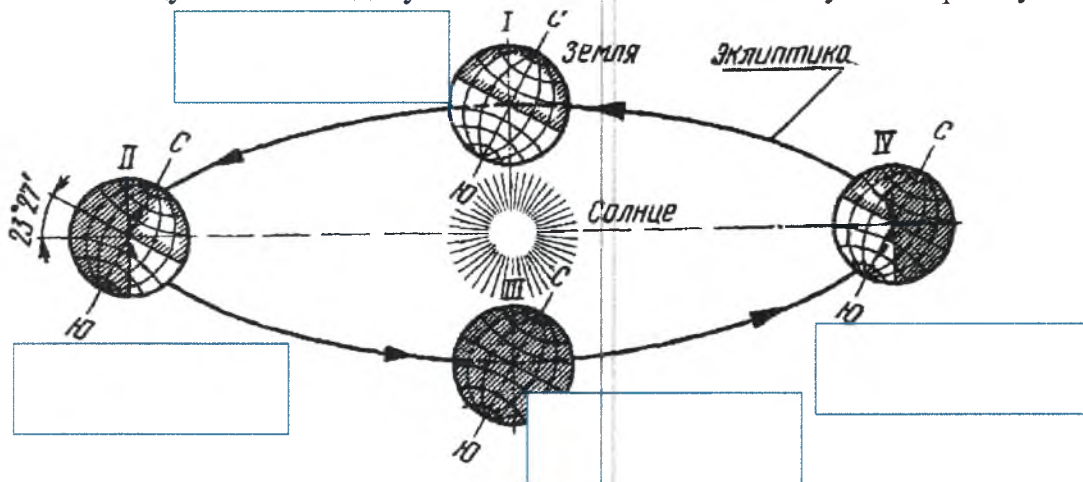
Мёртвое море - это бессточное солёное озеро на Ближнем Востоке, располагающееся между Израилем, Иорданией и Палестиной. Побережье моря является самым низким участком суши на Земле. На арабском языке оно так и

Всероссийская олимпиада школьников по географии 2022 -2023. Школьный этап. 7-8 классы называется - аль-Бахр аль-Майит (Мёртвое море). Почему оно так называется? Объясните свой ответ.

Ответ: *Мёртвое море очень солёное и в нём никто не обитает*

Задание 4 (5 баллов)

Установите соответствие между каждым из положений Земли на орбите по отношению к Солнцу. Впишите дату и название положения в пустые прямоугольники:







ВСЕГО ЗА ТЕОРЕТИЧЕСКИЙ ТУР – 20 БАЛЛОВ

Тестовый тур

Выберите правильный ответ

1. Установите соответствие между описанием прибора и его изображением, впишите его название:

Прибор	
 1 <i>А</i>	 2 <i>В</i>
 3 <i>Б</i>	 4 <i>Г</i>

А) измеряет давление; Б) измеряет температуру; В) измеряет силу ветра;
 Г) показывает координаты, картирует точки маршрута, показывает высоту и пр.

2. Какое утверждение о Мировом океане верно?

- 1) наибольшую солёность имеют поверхностные воды тропических широт;
- ② самое мощное течение Мирового океана – Гольфстрим;
- 3) средняя солёность поверхностных вод Мирового океана – 48%;
- 4) температура вод Мирового океана повышается с глубиной.

3. Какое утверждение о земной коре является верным?

Всероссийская олимпиада школьников по географии 2022 -2023. Школьный этап. 7-8 классы

1) средняя мощность земной коры составляет от 5-6 км под горами до 60-75 км под океанами;

- 2) самым верхним слоем земной коры на материках и океанах является осадочный;
- 3) строение материковой и океанической земной коры одинаково;
- 4) при углублении в недра Земли температура и давление падают.

4. Какое утверждение о ледниках является верным?

- 1) горные ледники образуются только в экваториальных широтах;
- 2) высота снеговой линии максимальна в высоких широтах;
- 3) единственные два покровных ледника на Земле – Антарктический и Гренландский;
- 4) в горах России горные ледники отсутствуют.

5. О чем идёт речь в определении, впишите:

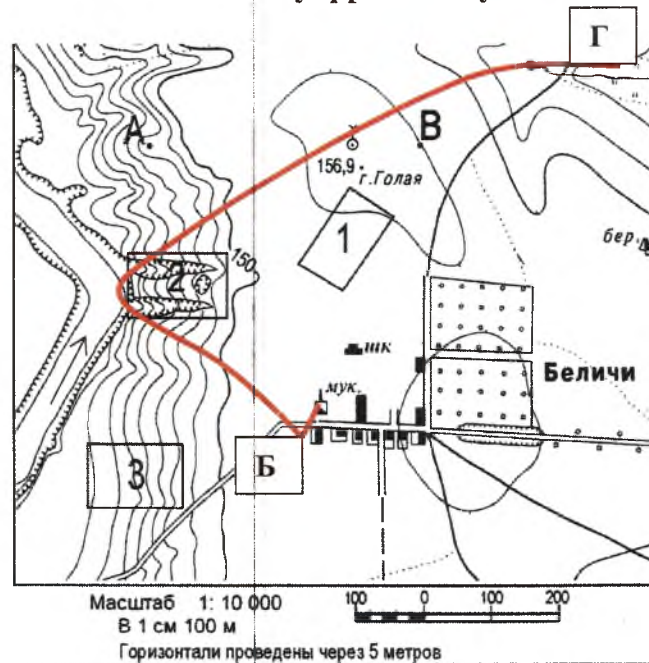
- осадок - вода в жидком или твёрдом состоянии, выпадающая из облаков или осаждающаяся из воздуха на земную поверхность и какие-либо предметы.

6. О каком острове идёт речь?

Это крупнейший на Земле остров. Расположен на северо-востоке Северной Америки, а потому с точки зрения физической географии относится к ней. Политически относится к Европе, поскольку вместе с окружающими меньшими островами образует одноимённую административную автономную единицу, входящую в состав Датского королевства. Омывается Атлантическим и Северным Ледовитым океанами.

Гренландия

Задания 7 и 8 выполняются по данному фрагменту плана местности:



7. Укажите природные и антропогенные объекты, которые встретятся туристам на пешем маршруте по линии Б-Г, необходимо перечислить не менее 10 объектов.

8. Какой берег реки круче – левый или правый? Объясните почему:

9. Определите страну по изображению её контура:



- А) Япония
- Б) Филиппины
- В) Куба
- Г) Исландия

10. Прочтите отрывок текста из очерка Ги де Мопассана:

«Алжир превзошёл мои ожидания. Как прекрасен этот белоснежный город при ярком дневном свете! Вдоль пристани тянется громадная терраса. Над ней высятся большие европейские гостиницы и французский квартал, а ещё выше взбирается по уступам арабский город – нагромождение причудливых белых домов, прилепившихся друг к другу...»

Вопросы: А) На каком континенте расположен этот город? Б) Столицей какого государства он является?

Ответ: А) _____; Б) _____

11. Выберите два верных утверждения:

- А) Джеймс Кук достиг берегов Австралии и погиб там;
- Б) Витус Беринг открыл Антарктиду;
- В) Фернан Магеллан первым совершил кругосветное плавание;
- Г) Семен Дежнев первым из европейцев побывал в Китае.

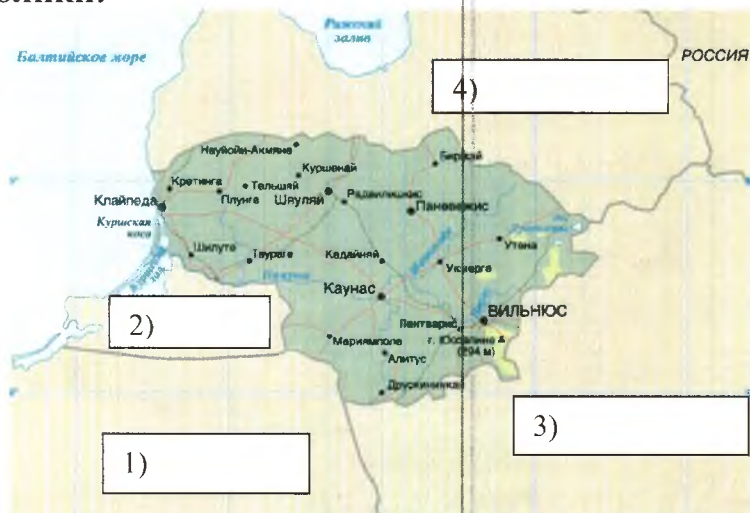
12. В рельефе Африки преобладают:

- А) равнины и плато;
- Б) низменности и впадины;
- В) горы и горные хребты;
- Г) плоскогорья и нагорья.

13. Чем, прежде всего, знаменита Куршская коса? Выбрать два правильных ответа.

- А) Только здесь в Калининградской области водится пятнистый олень
- Б) Дюнные комплексы, достигающие высоты 40-50 м
- В) Здесь проходит старая железная дорога, чей возраст превышает 200 лет
- Г) Через косу проходит миграционный путь птиц

14. Подпишите на фрагменте картосхемы страны, которые являются соседями Литовской Республики:



15. Почему в Балтийском море низкая соленость воды? Выбрать два правильных ответа.

- А) в море впадает много рек, опресняющих морскую воду;
- Б) климатические особенности (достаточное количество осадков и низкий коэффициент испарения);
- В) на дне моря много глубоких впадин, в которых накапливается соль.
- Г) из морской воды Балтийского моря добывают соль, после удаления опреснённую воду сбрасывают обратно в водоём.

БЛАНК ОТВЕТОВ

Теоретический тур

ШИФР:

Задание 1. Количество баллов – 10 (по одному баллу за каждый правильный ответ)

Евразия *10*

2- Чёрное море
3- Средиземное море
4- Каспийское море
5- Азовское море
6- Мраморское море
7- Адриатическое море
8- Дарданеллы

Задание 2

Боттом-Бомбо

35

Задание 3

Количество баллов - 2

Мертвое море - очень солёная ^{ое} и в нем не обитают животные и рыбы

20

Задание 4

Количество баллов – 5 (в случае даже одного случая неправильной расстановки баллы не начисляются)

00

Тестовый тур

№	Ответ	
1	A- , 1 B- , 3	B- , 2 Г- , 4
2	<i>2)</i>	<i>1</i>
3	<i>2)</i>	<i>1</i>
4	<i>3</i>	<i>0</i>
5	<i>осадки - дождевые, снег, туман.</i>	<i>1</i>
6	<i>Гренландия</i>	<i>1</i>

География

ШИФР:

Фамилия

Имя

Отчество

ОУ

Класс

Тестовый тур

№	Ответ		
7	порт, река, излучина, дорога, равнина, завод, излучина,	0	
8	левый - по карте видно, что противоположный берег более пологий, значит левый круче	0	
9	2) Имангуя	1	
10	A) Африка	B) Азия	2
11	B, Г	0	
12	B	0	
13	Б, Г	1	
14	1) Голландия	3) Беларусь	2,5
	2) Россия	4) Латвия	
15	A, Б	1	

Общая сумма (2,5)

Председатель жюри:

Семеновая Ю.Н.
 Турская А.Н.
 Масленко А.А.
 Ожиг О.И.
 Кернавина С.
 Степанова С.И.
 Уфимцева М.А.

Р-08-05

Всероссийская олимпиада школьников по географии 2022 -2023. Школьный этап. 7-8 классы
Теоретический тур

Задание 1. (10 баллов)

На каком материке расположена большая часть приведённых в овалах географических объектов? Впишите это слово в круг. Нанесите эти объекты на карту.



Ответы: Евразия



Задание 2 (3 балла)

Город Каргополь находится в Архангельской области, на левом берегу реки Онеги. У местных жителей есть особый говор (манера говорить отличается от жителей, например, Калининградской области и других регионов России) и существуют слова, которые употребляют только в этой местности. Так, есть слова: водожомина, зыбун, жидель, топость – как вы думаете, что означают эти слова? (это названия одного и того же природного объекта)

Ответ: _____.

Задание 3 (2 балла)

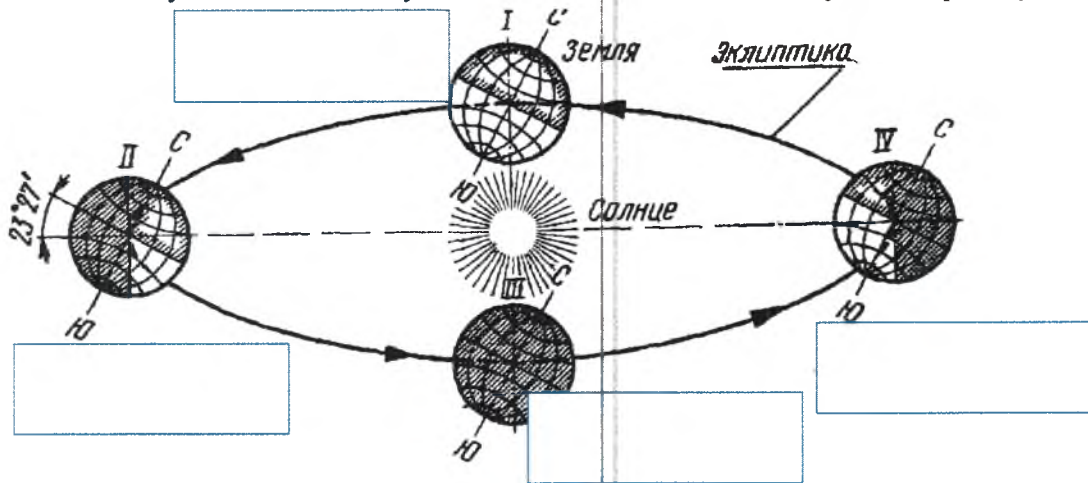
Мёртвое море - это бессточное солёное озеро на Ближнем Востоке, располагающееся между Израилем, Иорданией и Палестиной. Побережье моря является самым низким участком суши на Земле. На арабском языке оно так и

Всероссийская олимпиада школьников по географии 2022 -2023. Школьный этап. 7-8 классы
называется - аль-Бахр аль-Майит (Мёртвое море). Почему оно так называется?
Объясните свой ответ.

Ответ: _____

Задание 4 (5 баллов)

Установите соответствие между каждым из положений Земли на орбите по отношению к Солнцу. Впишите дату и название положения в пустые прямоугольники:







ВСЕГО ЗА ТЕОРЕТИЧЕСКИЙ ТУР – 20 БАЛЛОВ

Тестовый тур

Выберите правильный ответ

1. Установите соответствие между описанием прибора и его изображением, впишите его название:

Прибор	
1  а	2  в
3  б	4  г

А) измеряет давление; Б) измеряет температуру; В) измеряет силу ветра;
Г) показывает координаты, картирует точки маршрута, показывает высоту и пр.

2. Какое утверждение о Мировом океане верно?

- 1) наибольшую соленость имеют поверхностные воды тропических широт;
- 2) самое мощное течение Мирового океана – Гольфстрим;
- 3) средняя соленость поверхностных вод Мирового океана – 48‰;
- 4) температура вод Мирового океана повышается с глубиной.

3. Какое утверждение о земной коре является верным?

Всероссийская олимпиада школьников по географии 2022 -2023. Школьный этап. 7-8 классы

- 1) средняя мощность земной коры составляет от 5-6 км под горами до 60-75 км под океанами;
- 2) самым верхним слоем земной коры на материках и океанах является осадочный;
- 3) строение материковой и океанической земной коры одинаково;
- 4) при углублении в недра Земли температура и давление падают.

4. Какое утверждение о ледниках является верным?

- 1) горные ледники образуются только в экваториальных широтах;
- 2) высота снеговой линии максимальна в высоких широтах;
- 3) единственные два покровных ледника на Земле – Антарктический и Гренландский;
- 4) в горах России горные ледники отсутствуют.

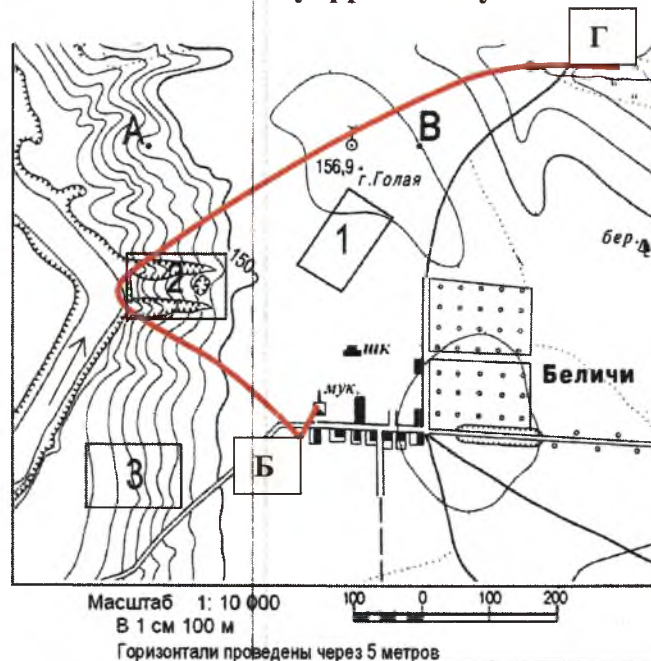
5. О чем идёт речь в определении, впишите:

Осадки - вода в жидком или твёрдом состоянии, выпадающая из облаков или осаждающаяся из воздуха на земную поверхность и какие-либо предметы.

6. О каком острове идёт речь?

Это крупнейший на Земле остров. Расположен на северо-востоке Северной Америки, а потому с точки зрения физической географии относится к ней. Политически относится к Европе, поскольку вместе с окружающими меньшими островами образует одноимённую административную автономную единицу, входящую в состав Датского королевства. Омывается Атлантическим и Северным Ледовитым океанами.

Задания 7 и 8 выполняются по данному фрагменту плана местности:



7. Укажите природные и антропогенные объекты, которые встретятся туристам на пешем маршруте по линии Б-Г, необходимо перечислить не менее 10 объектов.

8. Какой берег реки круче – левый или правый? Объясните почему:

9. Определите страну по изображению её контура:



- А) Япония
- Б) Филиппины
- В) Куба
- Г) Исландия

10. Прочтите отрывок текста из очерка Ги де Мопассана:

«Алжир превзошёл мои ожидания. Как прекрасен этот белоснежный город при ярком дневном свете! Вдоль пристани тянется громадная терраса. Над ней высятся большие европейские гостиницы и французский квартал, а ещё выше взбирается по уступам арабский город – нагромождение причудливых белых домов, прилепившихся друг к другу...»

Вопросы: А) На каком континенте расположен этот город? Б) Столицей какого государства он является?

Ответ: А) _____ ; Б) _____

11. Выберите два верных утверждения:

- ✓ А) Джеймс Кук достиг берегов Австралии и погиб там;
- Б) Витус Беринг открыл Антарктиду;
- ✓ В) Фернан Магеллан первым совершил кругосветное плавание;
- Г) Семен Дежнев первым из европейцев побывал в Китае.

12. В рельефе Африки преобладают:

- А) равнины и плато;
- Б) низменности и впадины;
- ✓ В) горы и горные хребты;
- Г) плоскогорья и нагорья.

13. Чем, прежде всего, знаменита Куршская коса? Выбрать два правильных ответа.

- А) Только здесь в Калининградской области водится пятнистый олень
- ✓ Б) Дюнные комплексы, достигающие высоты 40-50 м
- В) Здесь проходит старая железная дорога, чей возраст превышает 200 лет
- ✓ Г) Через косу проходит миграционный путь птиц

14. Подпишите на фрагменте картосхемы страны, которые являются соседями Литовской Республики:



15. Почему в Балтийском море низкая соленость воды? Выбрать два правильных ответа.

- А) в море впадает много рек, опресняющих морскую воду;
- Б) климатические особенности (достаточное количество осадков и низкий коэффициент испарения);
- В) на дне моря много глубоких впадин, в которых накапливается соль.
- Г) из морской воды Балтийского моря добывают соль, после удаления опреснённую воду сбрасывают обратно в водоём.

БЛАНК ОТВЕТОВ

Теоретический тур

ШИФР:

Задание 1. Количество баллов – 10 (по одному баллу за каждый правильный ответ)

Евразия

10



40

Задание 2

Количество баллов - 3

Золото

30

Задание 3

Количество баллов - 2

Оно так называется потому, что это море очеро саёнов, там почти нет живности.

20

Задание 4

Количество баллов – 5 (в случае даже одного случая неправильной расстановки баллы не начисляются)

Тестовый тур

№	Ответ	
1	А-1, барометр	В-2, термометр
	Б-3, барометр	Г-4, термометр
2	2	1
3	3	0
4	2	1
5	сазан	0
6	Тренландия	1

40

География

ШИФР:

Фамилия

Имя

Отчество

ОУ

Класс

Тестовый тур

№	Ответ		
7	дорога, тропа, карьер, озеро, река, палочка, здание, муш., образ, канава.		05
8	левый, т.к. там больше изгиб.		05
9	Г		1
10	A) Африка	Б) ОАЭ	1
11	AB		1
12	B		0
13	БГ		1
14	1) Польша	3) Беларусь	2
	2) Россия	4) Латвия	
15	Б		0

Председатель жюри: Светлана Ю. Юр.
 Члены жюри: Елена И. А.
 Елена А. Л.
 Ольга И. О.
 Корнавецкая СВ
 Станислав СВ
 Елена И. Ю.

(230)