

Всероссийская олимпиада школьников по географии 2022 -2023. Школьный этап. 7-8 классы
Теоретический тур

Задание 1. (10 баллов)

На каком материке расположена большая часть приведённых в овалах географических объектов? Впишите это слово в круг. Нанесите эти объекты на карту.



Ответы: Евразия



Задание 2 (3 балла)

Город Каргополь находится в Архангельской области, на левом берегу реки Онеги. У местных жителей есть особый говор (манера говорить отличается от жителей, например, Калининградской области и других регионов России) и существуют слова, которые употребляют только в этой местности. Так, есть слова: водожомина, зыбун, жидель, топость – как вы думаете, что означают эти слова? (это названия одного и того же природного объекта)

Ответ: Болото.

Задание 3 (2 балла)

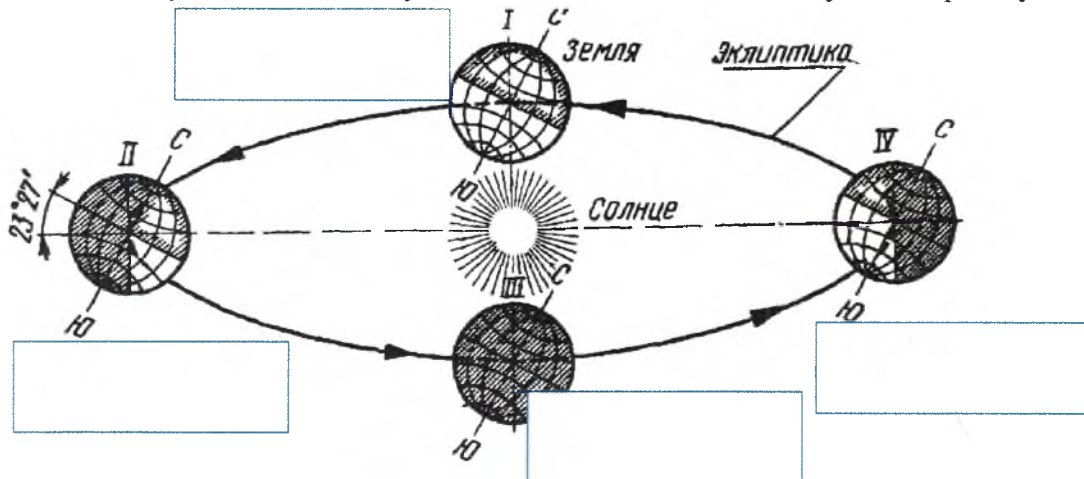
Мёртвое море - это бессточное солёное озеро на Ближнем Востоке, располагающееся между Израилем, Иорданией и Палестиной. Побережье моря является самым низким участком суши на Земле. На арабском языке оно так и

Всероссийская олимпиада школьников по географии 2022 -2023. Школьный этап. 7-8 классы называется - аль-Бахр аль-Майит (Мёртвое море). Почему оно так называется? Объясните свой ответ.

Ответ: _____

Задание 4 (5 баллов)

Установите соответствие между каждым из положений Земли на орбите по отношению к Солнцу. Впишите дату и название положения в пустые прямоугольники:







ВСЕГО ЗА ТЕОРЕТИЧЕСКИЙ ТУР – 20 БАЛЛОВ

Тестовый тур

Выберите правильный ответ

1. Установите соответствие между описанием прибора и его изображением, впишите его название:

Прибор	
<p>1 Г)</p> 	<p>2 В)</p> 
<p>3 Б)</p> 	<p>4 А)</p> 

3 А) измеряет давление; Б) измеряет температуру; 2 В) измеряет силу ветра;
 1 Г) показывает координаты, картирует точки маршрута, показывает высоту и пр.

2. Какое утверждение о Мировом океане верно?

- 1) наибольшую соленость имеют поверхностные воды тропических широт;
- 2) самое мощное течение Мирового океана – Гольфстрим;
- 3) средняя соленость поверхностных вод Мирового океана – 48%;
- 4) температура вод Мирового океана повышается с глубиной.

3. Какое утверждение о земной коре является верным?

Всероссийская олимпиада школьников по географии 2022 -2023. Школьный этап. 7-8 классы

- ① средняя мощность земной коры составляет от 5-6 км под горами до 60-75 км под океанами;
- ② самым верхним слоем земной коры на материках и океанах является осадочный;
- ③ строение материковой и океанической земной коры одинаково;
- ④ при углублении в недра Земли температура и давление падают.

4. Какое утверждение о ледниках является верным?

- 1) горные ледники образуются только в экваториальных широтах;
- ② высота снеговой линии максимальна в высоких широтах;
- 3) единственные два покровных ледника на Земле – Антарктический и Гренландский;
- ④ в горах России горные ледники отсутствуют.

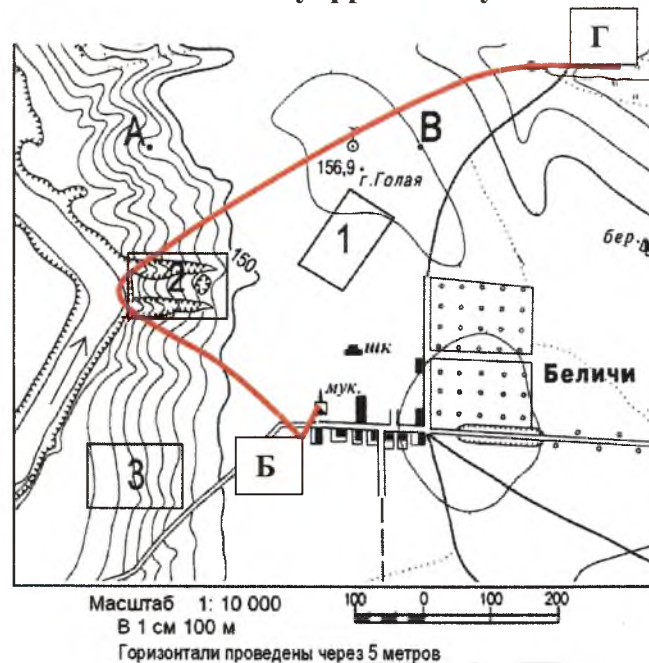
5. О чем идёт речь в определении, впишите:

Осадки - вода в жидком или твёрдом состоянии, выпадающая из облаков или осаждающаяся из воздуха на земную поверхность и какие-либо предметы.

6. О каком острове идёт речь?

Это крупнейший на Земле остров. Расположен на северо-востоке Северной Америки, а потому с точки зрения физической географии относится к ней. Политически относится к Европе, поскольку вместе с окружающими меньшими островами образует одноимённую административную автономную единицу, входящую в состав Датского королевства. Омывается Атлантическим и Северным Ледовитым океанами. *ГРИНЛАНДИЯ*

Задания 7 и 8 выполняются по данному фрагменту плана местности:



7. Укажите природные и антропогенные объекты, которые встретятся туристам на пешем маршруте по линии Б-Г, необходимо перечислить не менее 10 объектов.

8. Какой берег реки круче – левый или правый? Объясните почему:

9. Определите страну по изображению её контура:



- А) Япония
- ② Б) Филиппины
- В) Куба
- Г) Исландия

10. Прочтите отрывок текста из очерка Ги де Мопассана:

«Алжир превзошёл мои ожидания. Как прекрасен этот белоснежный город при ярком дневном свете! Вдоль пристани тянется громадная терраса. Над ней высятся большие европейские гостиницы и французский квартал, а ещё выше взбирается по уступам арабский город – нагромождение причудливых белых домов, прилепившихся друг к другу...»

Вопросы: А) На каком континенте расположен этот город? Б) Столицей какого государства он является?

Ответ: А) АФРИКА ; Б) АЛЖИРА

11. Выберите два верных утверждения:

- А) Джеймс Кук достиг берегов Австралии и погиб там;
- Б) Витус Беринг открыл Антарктиду;
- В) Фернан Магеллан первым совершил кругосветное плавание;
- Г) Семен Дежнев первым из европейцев побывал в Китае.

12. В рельефе Африки преобладают:

- А) равнины и плато;
- Б) низменности и впадины;
- В) горы и горные хребты;
- Г) плоскогорья и нагорья.

13. Чем, прежде всего, знаменита Куршская коса? Выбрать два правильных ответа.

- А) Только здесь в Калининградской области водится пятнистый олень
- Б) Дюнные комплексы, достигающие высоты 40-50 м
- В) Здесь проходит старая железная дорога, чей возраст превышает 200 лет
- Г) Через косу проходит миграционный путь птиц

14. Подпишите на фрагменте картосхемы страны, которые являются соседями Литовской Республики:



15. Почему в Балтийском море низкая соленость воды? Выбрать два правильных ответа.

- А) в море впадает много рек, опресняющих морскую воду;
- Б) климатические особенности (достаточное количество осадков и низкий коэффициент испарения);
- В) на дне моря много глубоких впадин, в которых накапливается соль.
- Г) из морской воды Балтийского моря добывают соль, после удаления опреснённую воду сбрасывают обратно в водоём.

БЛАНК ОТВЕТОВ

Теоретический тур

ШИФР:

Задание 1. Количество баллов – 10 (по одному баллу за каждый правильный ответ)

ЕВРАЗИЯ

15



Задание 2

Количество баллов - 3

Болото

15

Задание 3

Количество баллов - 2

35

Задание 4

Количество баллов – 5 (в случае даже одного случая неправильной расстановки баллы не начисляются)

05

Тестовый тур

№	Ответ
1	А-1; 15 В- , 2
18	Б-3, 18 Г- , 4
2	4)
3	2); ✓)
4	2); ✓)
5	Осажки
6	О. ГРИНЛАНДИЯ

45
05
15
15
15
15

85

Тестовый тур

№	Ответ
7	—
8	ПРАВЫЙ БЕРЕГ реки круче, так как он имеет БОЛЬШЕЕ количество заворотов реки, чем ЛЕВЫЙ
9	Б)
10	А) АФРИКА 1 Б) АЛЖИРА
11	А) ; В)
12	Б)
13	Б) ; Г)
14	1) ПОЛЬША 3) БЕЛОРУССЬ 2) РОССИЯ 4) ЛАТВИЯ
15	Б), А).

85

205

Председатель жюри: Сивенькая Т. В. Оценки
 Члены жюри: Турская Л. Л. Оценки
 Ласкин А. А. Оценки
 Озерн О. И. Оценки
 Уфимкина С. Б. Оценки
 Стаценко С. В. Оценки

Всероссийская олимпиада школьников по географии 2022 -2023. Школьный этап. 7-8 классы
Теоретический тур

Задание 1. (10 баллов)

На каком материке расположена большая часть приведённых в овалах географических объектов? Впишите это слово в круг. Нанесите эти объекты на карту.



Ответы: _____



Задание 2 (3 балла)

Город Каргополь находится в Архангельской области, на левом берегу реки Онеги. У местных жителей есть особый говор (манера говорить отличается от жителей, например, Калининградской области и других регионов России) и существуют слова, которые употребляют только в этой местности. Так, есть слова: воджомина, зыбун, жидель, топость – как вы думаете, что означают эти слова? (это названия одного и того же природного объекта)

Ответ: Песок

Задание 3 (2 балла)

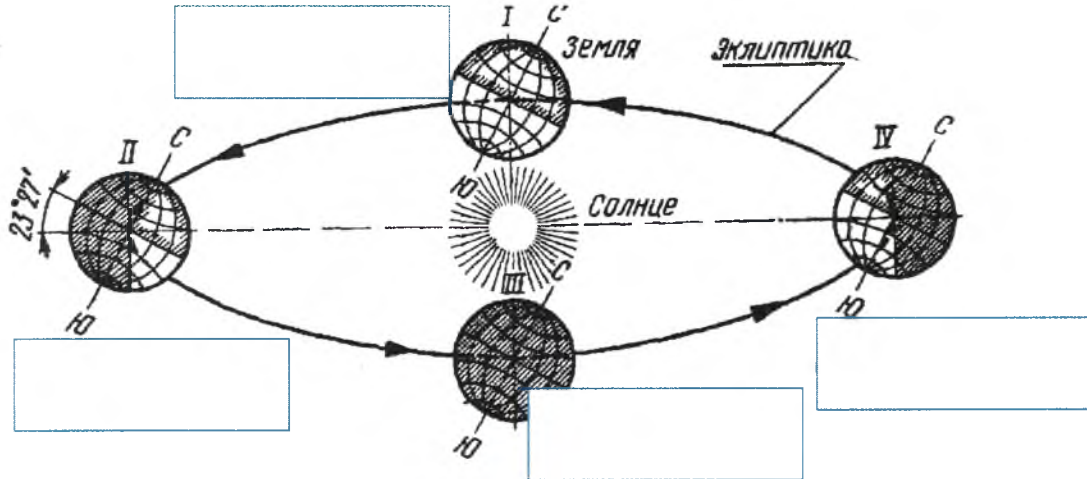
Мёртвое море - это бессточное солёное озеро на Ближнем Востоке, располагающееся между Израилем, Иорданией и Палестиной. Побережье моря является самым низким участком суши на Земле. На арабском языке оно так и

Всероссийская олимпиада школьников по географии 2022 -2023. Школьный этап. 7-8 классы называется - аль-Бахр аль-Майит (Мёртвое море). Почему оно так называется? Объясните свой ответ.

Ответ: Со так называется потому что там солёное и там не удоби рыбы.

Задание 4 (5 баллов)

Установите соответствие между каждым из положений Земли на орбите по отношению к Солнцу. Впишите дату и название положения в пустые прямоугольники:







ВСЕГО ЗА ТЕОРЕТИЧЕСКИЙ ТУР – 20 БАЛЛОВ

Тестовый тур

Выберите правильный ответ

1. Установите соответствие между описанием прибора и его изображением, впишите его название:

Прибор	
<p>1</p> 	<p>2</p> 
<p>3</p> 	<p>4</p> 

А) измеряет давление; 1 Б) измеряет температуру; ? В) измеряет силу ветра; 2
Г) показывает координаты, картирует точки маршрута, показывает высоту и пр. 4

2. Какое утверждение о Мировом океане верно?

- 1) наибольшую соленость имеют поверхностные воды тропических широт;
- 2) самое мощное течение Мирового океана – Гольфстрим;
- 3) средняя соленость поверхностных вод Мирового океана – 48‰;
- 4) температура вод Мирового океана повышается с глубиной.

3. Какое утверждение о земной коре является верным?

Всероссийская олимпиада школьников по географии 2022 -2023. Школьный этап. 7-8 классы

1) средняя мощность земной коры составляет от 5-6 км под горами до 60-75 км под океанами;

2) самым верхним слоем земной коры на материках и океанах является осадочный;

3) строение материковой и океанической земной коры одинаково;

4) при углублении в недра Земли температура и давление падают.

4. Какое утверждение о ледниках является верным?

1) горные ледники образуются только в экваториальных широтах;

2) высота снеговой линии максимальна в высоких широтах;

3) единственные два покровных ледника на Земле – Антарктический и Гренландский;

4) в горах России горные ледники отсутствуют.

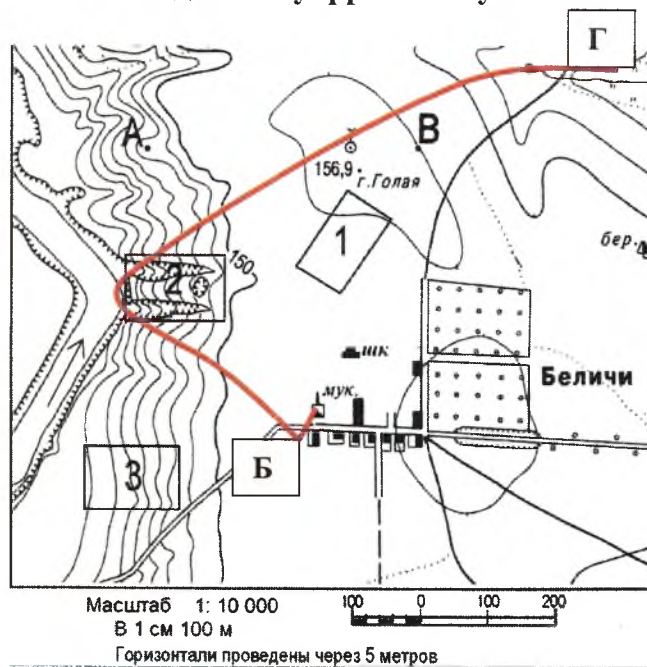
5. О чем идёт речь в определении, впишите:

Крупнейший вид в природе - вода в жидком или твёрдом состоянии, выпадающая из облаков или осаждающаяся из воздуха на земную поверхность и какие-либо предметы.

6. О каком острове идёт речь?

Это крупнейший на Земле остров. Расположен на северо-востоке Северной Америки, а потому с точки зрения физической географии относится к ней. Политически относится к Европе, поскольку вместе с окружающими меньшими островами образует одноимённую административную автономную единицу, входящую в состав Датского королевства. Омывается Атлантическим и Северным Ледовитым океанами.

Задания 7 и 8 выполняются по данному фрагменту плана местности:



7. Укажите природные и антропогенные объекты, которые встретятся туристам на пешем маршруте по линии Б-Г, необходимо перечислить не менее 10 объектов.

8. Какой берег реки круче – левый или правый? Объясните почему: *Левый потому что там больше изгибов и круче показаны на карте*

9. Определите страну по изображению её контура:



- А) Япония
- Б) Филиппины
- В) Куба
- Г) **Исландия**

10. Прочтите отрывок текста из очерка Ги де Мопассана:

«Алжир превзошёл мои ожидания. Как прекрасен этот белоснежный город при ярком дневном свете! Вдоль пристани тянется громадная терраса. Над ней высятся большие европейские гостиницы и французский квартал, а ещё выше взбирается по уступам арабский город – нагромождение причудливых белых домов, прилепившихся друг к другу...»

Вопросы: А) На каком континенте расположен этот город? Б) Столицей какого государства он является?

Ответ: А) Евразия; Б) Франция

11. Выберите два верных утверждения:

- А) Джеймс Кук достиг берегов Австралии и погиб там;
- Б) Витус Беринг открыл Антарктиду;
- В) Фернан Магеллан первым совершил кругосветное плавание;
- Г) Семен Дежнев первым из европейцев побывал в Китае.

12. В рельефе Африки преобладают:

- А) равнины и плато;
- Б) низменности и впадины;
- В) горы и горные хребты;
- Г) плоскогорья и нагорья.

13. Чем, прежде всего, знаменита Куршская коса? Выбрать два правильных ответа.

- А) Только здесь в Калининградской области водится пятнистый олень
- Б) Дюнные комплексы, достигающие высоты 40-50 м
- В) Здесь проходит старая железная дорога, чей возраст превышает 200 лет
- Г) Через косу проходит миграционный путь птиц

14. Подпишите на фрагменте картосхемы страны, которые являются соседями Литовской Республики:



15. Почему в Балтийском море низкая соленость воды? Выбрать два правильных ответа.

- А) в море впадает много рек, опресняющих морскую воду;
- Б) климатические особенности (достаточное количество осадков и низкий коэффициент испарения);
- В) на дне моря много глубоких впадин, в которых накапливается соль.
- Г) из морской воды Балтийского моря добывают соль, после удаления опреснённую воду сбрасывают обратно в водоём.

БЛАНК ОТВЕТОВ

Теоретический тур

ШИФР:

Задание 1. Количество баллов – 10 (по одному баллу за каждый правильный ответ)

Евразия



15

Задание 2

Количество баллов - 3

Песок

05

Задание 3

Количество баллов - 2

Мёртвое море так называется потому что, оно очень солёное

25

Задание 4

Количество баллов – 5 (в случае даже одного случая неправильной расстановки баллы не начисляются)

05

Тестовый тур

№	Ответ	
<i>1</i>	A-1,	B-2,
<i>1</i>	B-3,	Г-4,
2	<i>3)</i>	
3	<i>2)</i>	
4	<i>2)</i>	
5	<i>Кручение воды в природе</i>	
6	<i>Тремисидия</i>	

*0
1
1
1
0
1*

*1
1*

75

География

ШИФР:

Фамилия

Имя

Отчество

ОУ

Класс

Тестовый тур

№	Ответ	
7	Полы, равнина, г. болота, гористая местность, крутой склон, река, гористая местность, равнина, шоссе, мур.	
8	Правый берег реки круче, потому что, там больше изгибов которые показаны на карте.	
9	Г)	
10	А) Евразия	Б) Армения
11	А, В)	
12	Б)	
13	Б), Г)	
14	1) Германия	3) Украина
	2) Россия	4) Беларусь
15	А), Б)	

15
05
15
15
15
25
15

05
15
15

85
185

Председатель жюри: Сивенькая Ю. Н.
 Члены жюри: Турская Л. А.
 Лаенко А. А.
 Осипов О. И.
 Горюхаева С. Б.
 Стаценко С. Н.
 Утешкова Н. А.

Жюри