

7-7-2

I (школьный) этап всероссийской олимпиады школьников по технологии

2021-2022 учебный год

«Культура дома, дизайн и технологии» 7 класс

Теоретическая часть

Время выполнения работы – 45 минут

Задания в тестовой форме

7 + 13 = 20

Максимальное количество баллов – 25 (по одному баллу за каждый вопрос +6 баллов за творческое задание). Задание считается выполненным, если в нём не допущено ни одной ошибки. Наличие лишнего ответа также считается ошибкой.

I. Отметьте один правильный ответ.

1. Документ, в котором записан весь процесс обработки изделия с указанием технологических операций и их составных частей, материалов, конструкторской документации и технологической оснастки, называется:

- 1 а) маршрутная карта; б) операционная карта;
в) технологическая карта.

2. С какого блюда начинается обед:

- 0 а) суп или борщ; б) мороженое; в) закуска; г) компот.

3. Какое волокно является минералом?

- 1 а) джут; б) асбест; в) кенаф; г) шерсть; д) лен.

4. Способы определения готовности изделий из пресного теста и фарша (пельменей, фрикаделек):

- 1 а) бульон станет прозрачным; б) изделия всплывут на поверхность;
в) опустятся на дно кастрюли.

5. Пучок нитей, состоящих из шести тонких ниточек называется:

- 0 а) мулине; б) канва; в) пасма; г) пяльцы.

II. Отметьте два или более правильных ответов. (Задание в закрытой форме)

6. В качестве разрыхлителей теста применяют:

- 0 а) соль; б) желатин; в) дрожжи;
г) маргарин; д) пищевая сода.

7. К волокнам животного происхождения относятся:

- 1 а) шерстяные; б) льняные; в) шелковые;
г) лавсановые; д) акриловые.

8. Для чего просеивают муку перед приготовлением теста?

- 0 а) обогатить кислородом; б) убрать мусор; в) удалить жучков;
г) чтобы не было комков; д) чтобы была белая.

9. Первая помощь при отравлении:

- 0 а) вызвать врача; б) выяснить, какой продукт стал причиной отравления;
в) наложить холод на живот; г) промыть желудок;
д) дать активированный уголь; е) сделать согревающий компресс на область горла.

10. Из данного перечня надо отметить источники информации:




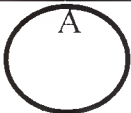
- 0 а) словарь; б) компьютер; в) телевидение;
г) изложение; д) видеокассеты; е) учебник;
ж) каталоги.

III. Закончите фразу (Задания в открытой форме)

11. Тесьма «молния» в женской одежде вшивается на левом боку.
12. Процесс создания новых фасонов одежды называется выкройкой.
13. Изменить внешний вид изделия без изменения выкройки можно с помощью _____ и _____.
14. Ряд ручных стежков, проложенных на ткани, в вышивке называется _____.
15. Ткань, которая имеет сетчатую структуру и применяется для вышивки крестом - канва.

IV. Задания на установление соответствия.

16. Установите соответствие между символом по уходу и его значением:

1. Не отжимать, сушить на вешалке	А	
2. Не выжимая, разложить на плоской поверхности	Б	
3. Возможна любая чистка	В	
4. Химчистка противопоказана	Г	

1. Б 2. А 3. Г 4. В

17. Отметьте буквой «С» санитарно-гигиенические требования, буквой «Т» правила безопасных приемов работы при обработке пищевых продуктов:

1. руки мойте с мылом;	<u>С</u>
2. проверьте исправность шнура перед включением электроприбора;	<u>Т</u>
3. наденьте фартук;	<u>С</u>
4. уберите волосы под головной убор;	<u>С</u>
5. включайте и выключайте электроприборы сухими руками	<u>Т</u>

18. Установите соответствие между видом волокна и признаком его определения.

Вид волокна	Характер горения
1. ацетат	А. сгорает полностью с образованием светло-серой золы. Запах горячей бумаги
2. хлопок	Б. горит без пламени с треском, на конце волокна образуется шарик, рассыпающийся при нажатии.
3. натуральный шелк	В. горит быстро, вне пламени не горит, на конце образуется бурый плотный шарик.

1. В 2. Б 3. А

V. Задания на установление последовательности.

19. Расставьте правильную последовательность технологических операций при раскладывании выкройки на ткани:

- а) разложить мелкие детали; б) разложить крупные детали;
в) сколоть ткань булавками; г) приколоть мелкие детали;
д) приколоть крупные детали; е) определить лицевую сторону ткани;
ж) разметить припуски на обработку; з) обвести детали по контуру.

0 1. е 2. б 3. д 4. а 5. з 6. ж 7. в 8. г

VI. Творческое задание

Предложите несколько вариантов изделий из картона для интерьера детской комнаты, зарисуйте и сделайте комментарии.

Критерии	Баллы	По факту
Предложено не менее 3-х различных вариантов	2	
Выполнены эскизы	2	
Добавлены комментарии	2	
ИТОГО	6 баллов	

0

Председатель жюри
Ишенинская Т.Н.
Члены жюри:
Рисова Н.А.
Кравцова Н.Г.
Макеев С.Н.
Мухометова З.Р.

I (школьный) этап всероссийской олимпиады школьников по технологии
2021 - 2022 учебный год

«Культура дома и декоративно-прикладное искусство»

7 класс

Практическая часть


Время выполнения работы – 45 минут

Максимальное количество баллов – 15

13

Материалы и инструменты: ножницы, клей, цветные карандаши

Задание: вырезать части голубя с листа, сложить по линиям и склеить. Готовую птицу раскрасить.

	Критерии оценивания		
	№ п/п	Критерии оценивания	Баллы
	1.	Птица вырезана по линиям	3
	2.	Ровно и по линиям склеена	3
	3.	Красиво раскрашена	4
	4.	Аккуратно выполнена	5
		ИТОГО	15 баллов