

МХК-10-02

Школьный этап Всероссийской олимпиады школьников 2021 – 2022 учебный год

Искусство (МХК) 10 класс

Школьный этап

**Всероссийской олимпиады школьников
по Искусству (мировой художественной культуре)**

2021/2022 учебного года

Комплект заданий для учеников 10 класса

Задания выполняются в течение 150 минут

Номер задания	Максимальные баллы	Время выполнения	Набранные баллы
1	9		
2	27		
3	31		
4	20		
5	53		
Общий балл	140	150 минут	

Уважаемый участник олимпиады!

Вам предстоит выполнить теоретические (письменные) и тестовые задания.

Время выполнения заданий теоретического тура **150 минут**.

Выполнение теоретических (письменных) заданий целесообразно организовать следующим образом:

– не спеша, внимательно прочитайте задание и определите наиболее верный и полный ответ;

– отвечая на теоретический вопрос, обдумайте и сформулируйте конкретный ответ только на поставленный вопрос;

– если Вы отвечаете на задание, связанное с заполнением таблицы или схемы, не старайтесь детализировать информацию, вписывайте только те сведения или данные, которые указаны в вопросе;

– особое внимание обратите на задания, в выполнении которых требуется выразить Ваше мнение с учетом анализа ситуации или поставленной проблемы. Внимательно и вдумчиво определите смысл вопроса и логику ответа (последовательность и точность изложения). Отвечая на вопрос, предлагайте свой вариант решения проблемы, при этом ответ должен быть кратким, но содержать необходимую информацию;

– после выполнения всех предложенных заданий еще раз удостоверьтесь в правильности выбранных Вами ответов и решений.

Выполнение заданий целесообразно организовать следующим образом:

– не спеша, внимательно прочитайте задание;

– напишите букву (цифру), соответствующую выбранному Вами ответу (в случае использования заданий с выбором ответа из предложенных);

– продолжайте таким образом работу до завершения выполнения заданий;

– после выполнения всех предложенных заданий еще раз удостоверьтесь в правильности ваших ответов;

– если потребуется корректировка выбранного Вами варианта ответа, то неправильный вариант ответа зачеркните крестиком и рядом напишите новый.

Задание теоретического тура считается выполненным, если Вы вовремя сдаете его членам жюри. **Максимальная оценка за задания теоретического тура – 140 баллов.**

**Школьный этап Всероссийской олимпиады школьников 2021 – 2022 учебный год
Искусство (МХК) 10 класс**

Задание 1.

Определите **ЛИШНЕЕ** в ряду.

Кратко поясните свой выбор.

Заполните таблицу.

1. Росси, Клодт, Бове, Тон.

2. «Алые паруса», «Броненосец “Потемкин”», «Александр Невский», «Иван Грозный».

3. сопрано, контральто, фальцет, меццо-сопрано.

Номер ряда	Лишнее слово/имя/название	Краткое обоснование выбора
1.	Клодт	екультиор, а остальные - архитекторы
2.		
3.	фальцет	остальные - женские певческие голоса, а фальцет - певческий прием

Оценочные баллы: максимальный – 9 баллов; фактический – 3 баллов.

Подписи членов жюри: _____

Задание 2.

Рассмотрите внимательно три изображения.

Заполните таблицу и укажите:


1. Названия произведений.

2. Авторы произведений, если они известны.

3. К какой стране, эпохе, стилю относятся произведения.


4. Время их создания.

1.


	Название произведения искусства	
	<u>Мадонна со овцой</u>	1
	Автор	
	<u>Рафаэль</u>	1
	К какой стране, эпохе, стилю относится	
<u>Италия, эпоха Возрождения,</u>	2	
	Время создания произведения	
<u>начало XVI</u>	2	

Школьный этап Всероссийской олимпиады школьников 2021 – 2022 учебный год
Искусство (МХК) 10 класс

2.

	Название произведения искусства <u>Петропавловский собор</u> 1
	Автор _____
	К какой стране, эпохе, стилю относится <u>Россия, Барокко</u> 2
	Время создания произведения <u>XVIII в.</u> 1

3.

	Название произведения искусства _____
	Автор <u>Донателло</u> 1
	К какой стране, эпохе, стилю относится <u>Италия, Возрождение</u> 2
	Время создания произведения <u>XV век</u> 1

Оценочные баллы: максимальный – 27 баллов; фактический – **14** баллов.

Подписи членов жюри: _____

Задание 3.

Рассмотрите репродукцию картины.

1. **Напишите** название картины.
2. **Напишите** полное имя художника – автора картины.
3. **Опишите** общую композицию картины.
4. **Назовите** наиболее значимые детали, их место и роль в композиции картины.
5. **Определите** общее настроение картины.
6. **Укажите** 3 известные картины этого же художника.



Школьный этап Всероссийской олимпиады школьников 2021 – 2022 учебный год
Искусство (МХК) 10 класс

1.	Тиаг Ярославна	2
2.	Терев	1
3.	В центре картины изображена Ярославна, героиня „Слова о полку Игореве“. Ее взгляд обращен к небу, она просит силы природы помочь ее мужу.	1
4.	Героиня смотрит в небо в отчаянной молитве, она сжимает руками свой наряд от тревоги за любимого, над городом кружат белые птицы, будто оберегают город, как и гасяками, устремлен- ные вверх.	5

Школьный этап Всероссийской олимпиады школьников 2021 – 2022 учебный год
Искусство (МХК) 10 класс

5.	Картина наполнена тревогой, надеждой, оптимизмом, 3
6.	„Портрет Достоевского“ „Таболов“ „Охотники на привале“ 6

Оценочные баллы: максимальный – 31 балл; фактический – 18 баллов.

Подписи членов жюри: _____

Задание 4.

Дан ряд имен, связанных с искусством, и изображения деятелей искусства.

1. **Объедините** имена в группы, впишите в соответствующие строки таблицы и **укажите** принцип объединения.
2. **Соотнесите** изображения с фамилиями деятелей искусства и результат занесите в таблицу.




Школьный этап Всероссийской олимпиады школьников 2021 – 2022 учебный год
Искусство (МХК) 10 класс

1.

Шарден. Лист. Бернини. Гейнсборо. Бетховен. Гойя. Шуберт. Браманте.

Имена	принцип объединения
Шарден, Лист, Гейнсборо, Гойя	художники 2
Бернини, Браманте 2	архитекторы и скульпторы 2
Бетховен, Шуберт 2	композиторы 2

2.

		
№1 – Бетховен 2	№2 – 0	№3 – 0

Оценочные баллы: максимальный – 20 баллов; фактический – 15 баллов.

Подписи членов жюри: _____

Задание 5.

а) Определите произведение по описанию.

1. Напишите название произведения.
2. Укажите вид искусства, к которому оно принадлежит.
3. Напишите, к культуре какого народа произведение принадлежит.
4. Укажите автора произведения.
5. Укажите время создания произведения.

**Школьный этап Всероссийской олимпиады школьников 2021 – 2022 учебный год
Искусство (МХК) 10 класс**

6. Укажите место нахождения произведения.

Достоинство и красота и скорбь:
Над мрамором сим полно вам стенать!
Он мертв, но жив, – и снятого с креста
Остерегитесь песнями поднять,
Дабы до времени из мертвых не воззвать
Того, кто скорбь приял один
За всех, кто есть наш господин,
Тебе ж – отец, супруг и сын теперь,
О ты, единая жена и мать, и дочь!

Название произведения	Тьеста 2
Вид искусства	скульптура 2
Страна	Италия 2
Автор	Микеланжелло 1
Век или эпоха	Возрождение 2
Местонахождение	

б) составьте проект выставки, на которой будет демонстрироваться определённое Вами по описанию произведение искусства.

- 1. Дайте название выставке.**
- 2. Опишите содержание выставки.**

1.	„Творчество Микеланжелло: решительное направление“ 4 2
----	---

2.

На выставке будет представлена одна из знаменитых работ Микеланджело – „Пьета“. Экскурсоводы будут рассказывать историю создания этого произведения, композицию, идею создания: статуя создана из мрамора, представляет картину скорбящей матери, утратившей сына.

4

Общее кол-во баллов – 65 (46,43%)

Члены жюри:

Макеева С.И. - *С.И.*

Муртагметова А.Р. -

Тригорьева В.С. - *В.С.*

Исаева К.В. - *К.В.*

Абрамченко Е.И. - *Е.И.*

Председатель жюри: Бруило В.В. - *В.В.*

Оценочные баллы: максимальный – 53 балла; фактический – 15 баллов.

Подписи членов жюри: _____

Максимальная оценка за задания – 140 баллов