

Всероссийская олимпиада школьников по географии 2018 -2019. Школьный этап.

9 класс

Теоретический тур

335

Задание 1

Монгольские народы или монголы - группа родственных народов, говорящих на монгольских языках и тесно связанных общей многовековой историей, культурой, традициями и обычаями. Населяют север КНР, Монголию и регионы Российской Федерации. Один из этих народов живёт на востоке страны, а другой – в европейской части России. Назовите оба народа, религию.

05

КОЛИЧЕСТВО БАЛЛОВ - 5

Задание 2

Заполните свободные графы в таблице, в которой дана характеристика некоторых бассейнов или месторождений минерального сырья в России

№	Описание добываемого ресурса или месторождения добычи	Название месторождения (бассейна)	Вид добываемого ресурса	Субъекты РФ
1.	Крупнейшее в России и 7-е по размеру в мире месторождение	Самотлорское	Нефть	Нижегородская область, Ханты-Мансийский автономный округ
2.	Крупнейший по запасам этого сырья бассейн в мире. По разведанным запасам богатых руд уступает только перспективному Эль Мутуну (Боливия). История открытия связана с необычным поведением магнитной стрелки. Среди месторождений бассейна Стойленское, Михайловское и др.	Курская магнитная аномалия (КМА)	Железо	Курская область, Белгородская область, Орловская область
3.	Этот Центрально-Сибирский бассейн обладает наиболее значительными запасами данного энергетического ресурса, добываемого открытым способом.	Канско-Азизинский угольный бассейн	Уголь	Красноярск, Кемерово, Иркутск
4.	Это месторождение расположено в 30 километрах южнее железнодорожной станции Новая Чара на хребте, который дал название и месторождению. Крупнейшее в стране и третье в мире по запасам этого цветного металла (около 24,6 млн. т). Ведется подготовка к промышленному освоению	Удоканское медное месторождение	медь	Забайкальский край

КОЛИЧЕСТВО БАЛЛОВ - 8

85

Задание 3

В гавань заходят 5 кораблей. По описанию флагов определите, из каких они государств.



Австралия

Бразилия

Греция

Дания

Канада

55

КОЛИЧЕСТВО БАЛЛОВ - 5

Задание 4

В 1906 году вышла в свет книга Григория Де-Воллана, посвящённая этой стране. Прочтите некоторые отрывки из этой книги и определите, 1) о какой стране идёт речь. 2) Назовите её столицу. 3) Какие природные особенности этой страны Вам известны?

«...Архипелаг тянется, наподобие виноградной лозы, тремя красивыми фестонами вдоль берегов Сибири и северного Китая. Две трети поверхности заняты горами. Климат является отражением климатических условий соседнего материка, в котором преобладает жаркое влажное лето и холодная ясная зима. Эти условия умеряются морем..., так что мы получаем более прохладное лето и более мягкую зиму вместе с большей влажностью, чем на материке. Влажный климат способствует роскошному развитию природы, которая, рядом с субтропическими растениями, бамбуками, пальмами, лаврами, камелиями, даёт хвойные и лиственные породы крайнего севера. Обильные летом дожди также дают возможность земледельцу на юге собирать две жатвы. Среди земледельческих продуктов рис занимает первое место. Следующими источниками доходов являются чай, хлопок, шёлк, сахар и т.д. Рыбный промысел, наряду с земледелием, играет большую роль...».

1) Речь идет о Японии.

2) Токио.

3) • Умеренный и субтропический климат

• Внутреннюю часть суши защищают широкими ветвями ветрозащищенные леса

• На островах расположены небольшие залежи угля

• Япония является областью высокой плотности

75

КОЛИЧЕСТВО БАЛЛОВ - 10

Задание 5

4. Определить по описанию субъект РФ:

Регион входит в состав Северо-Западного федерального округа. Рельеф равнинный, холмистый, с ледниковыми формами (моренные гряды, озы, камы). Климат мягкий с обилием осадков, меняется от морского к умеренно-континентальному. Зима снежная, прохладная, но обычно без сильных морозов, если морозы наступают, то только на несколько дней. Лето непродолжительное и тёплое, с большим количеством осадков. В регионе имеется 175 месторождений 24-х видов полезных ископаемых. Активно добываются слюда, полевой шпат, кварц, облицовочный камень, а также разнообразные

строительные материалы - граниты, диабазы, мраморы. Встречаются золото, серебро, алмазы, редкоземельные металлы. Разрабатываются месторождения железной руды, титана, ванадия, молибдена. Разведаны месторождения урановых руд. Преобладают хвойные леса, к северу — сосновые, южнее — и сосновые, и еловые. Основные хвойные породы: сосна обыкновенная и ель обыкновенная.

Ответ: _____.

КОЛИЧЕСТВО БАЛЛОВ - 7

ВСЕГО ЗА ТЕОРЕТИЧЕСКИЙ ТУР – 35 БАЛЛОВ

Тестовый тур

Выберите правильный ответ

1. Какой полуостров изображён на космическом снимке?



Ответ: полуостров Индостан

2. Какая из перечисленных равнин имеет наибольшую площадь?

- А) Восточно-Европейская равнина
- Б) Западно-Сибирская низменность
- В) Амазонская низменность
- Г) Великие равнины

3. Примером рационального природопользования является?

- А) добыча полезных ископаемых открытым способом в зоне степей
- Б) сплав леса по рекам в таежной зоне
- В) распашка склонов в горных районах
- Г) создание поλεзащитных лесополос в зоне степей

4. Выберите строчку, где перечислены города России - центры льняной промышленности:

- А) Мурманск, Архангельск, Москва, Санкт-Петербург
- Б) Иваново, Шуя, Псков, Кострома
- В) Шуя, Вологда, Ярославль, Кострома
- Г) Псков, Вологда, Кострома, Великие луки

15

15

15

15

5. Продолжительность светового дня 23 сентября на Северном полярном круге составляет:

- А) 0 ч Б) 12 ч В) 24 ч Г) 6 ч

15

6. Расставьте по убыванию численности населения:

- 1 А) Калининград 2 Б) Черняховск 4 В) Гусев 3 Г) Советск

05

7. Для какого из перечисленных регионов характерны формы рельефа, созданные деятельностью ледника?

- А) Приморский край Б) Республика Татарстан
В) Новосибирская область Г) Республика Карелия

15




8. Выберите реку, впадающую в Каспийское море:

- А) Днепр; Б) Неман; В) Волга; Г) Печора.

15

9. Установите соответствие между изображением полуострова и типичными ландшафтами на фото. Подпишите названия полуостровов:

Ландшафты: тайга, пустыня, средиземноморские жестколистные леса и кустарники.

	Название полуострова: _____ Название типичных ландшафтов: _____
	Название полуострова: <u>Аравийский полуостров</u> Название типичных ландшафтов: <u>пустыня</u>
	Название полуострова: <u>Апеннинский полуостров</u> Название типичных ландшафтов: <u>пустыня</u>

15



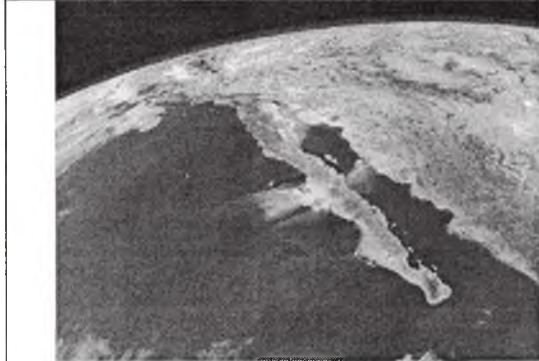
Название полуострова:

Пиренейский

Название типичных ландшафтов:

средиземноморские жестколистные леса и кустарники

0,2



Название полуострова:

Юкатан

Название типичных ландшафтов:

пустыни

10. На территории какого субъекта РФ находится крайняя южная точка РФ? С каким государством здесь проходит государственная граница РФ?

Ответ: Субъект: Гуахарек (0,5 б.)

Государство: Грузия (0,5 б.)

11. Выберите второй по численности этнос в России:

А) белорусы Б) украинцы В) татары Г) башкиры

15

12. На каком материке или в каком океане находится точка с координатами 40°с.ш. 100°з.д.?

А) Евразия Б) Тихий океан В) Северная Америка Г) Южная Америка

15

13. Этот ветер характерен для небольших районов, где не очень высокие горы расположены рядом с морем. Сильный, холодный, порывистый местный ветер, возникает когда поток холодного воздуха встречает на своём пути преграду в виде гор, преодолев которую, он с огромной силой обрушивается на побережье. Назовите этот ветер.

А) фён Б) сирокко В) бора Г) самум

15

14. Какая крайняя материковая точка России имеет западную долготу?

А) западная Б) восточная В) северная Г) южная

15

15. Выберите самый северный город-миллионер:

А) Берлин Б) Нью-Йорк В) Москва Г) Санкт-Петербург

15

ВСЕГО ЗА ТЕСТОВЫЙ ТУР – 15 БАЛЛОВ

ИТОГО 50 БАЛЛОВ

Председатель
Члены жюри

жюри: Сивилова И. И.
Тирекае Л. А.
Стаценко С. И.
Ласенко А. А.
Моржавина С. Ю.
Озер С. И.

И. И. Философ

335

Всероссийская олимпиада школьников по географии 2018 -2019. Школьный этап.

9 класс

335

Теоретический тур

Задание 1

Монгольские народы или монголы - группа родственных народов, говорящих на монгольских языках и тесно связанных общей многовековой историей, культурой, традициями и обычаями. Населяют север КНР, Монголию и регионы Российской Федерации. Один из этих народов живёт на востоке страны, а другой – в европейской части России. Назовите оба народа, религию.

05

КОЛИЧЕСТВО БАЛЛОВ - 5

Задание 2


Заполните свободные графы в таблице, в которой дана характеристика некоторых бассейнов или месторождений минерального сырья в России

№	Описание добываемого ресурса или месторождения добычи	Название месторождения (бассейна)	Вид добываемого ресурса	Субъекты РФ
1.	Крупнейшее в России и 7-е по размеру в мире нефтяное месторождение	Самотлорское	Нефть	Китневартовский район Ханты-Мансийского автономного округа
2.	Крупнейший по запасам этого сырья бассейн в мире. По разведанным запасам богатых руд уступает только перспективному Эль Мутуну (Боливия). История открытия связана с необычным поведением магнитной стрелки. Среди месторождений бассейна Стойленское, Михайловское и др.	Журская магнитная аномалия	Железо	Журская обл., Белгородская обл., Орловская обл.
3.	Этот Центрально-Сибирский бассейн обладает наиболее значительными запасами данного энергетического ресурса, добывающегося открытым способом.	Канско-Ачинский угольный бассейн.	Уголь	Красноярск, Кемерово, Иркутск.
4.	Это месторождение расположено в 30 километрах южнее железнодорожной станции Новая Чара на хребте, который дал название и месторождению. Крупнейшее в стране и третье в мире по запасам этого цветного металла (около 24,6 млн. т). Ведется подготовка к промышленному освоению	Урканское медное месторождение	медь	Забайкальский край.

КОЛИЧЕСТВО БАЛЛОВ - 8

Задание 3

В гавань заходят 5 кораблей. По описанию флагов определите, из каких они государств.



Австралия

Бразилия

Греция

Дания

Канада

58

КОЛИЧЕСТВО БАЛЛОВ - 5

Задание 4

В 1906 году вышла в свет книга Григория Де-Воллана, посвящённая этой стране. Прочтите некоторые отрывки из этой книги и определите, 1) о какой стране идёт речь. 2) Назовите её столицу. 3) Какие природные особенности этой страны Вам известны?

«...Архипелаг тянется, наподобие виноградной лозы, тремя красивыми фестонами вдоль берегов Сибири и северного Китая. Две трети поверхности заняты горами. Климат является отражением климатических условий соседнего материка, в котором преобладает жаркое влажное лето и холодная ясная зима. Эти условия умеряются морем..., так что мы получаем более прохладное лето и более мягкую зиму вместе с большей влажностью, чем на материке. Влажный климат способствует роскошному развитию природы, которая, рядом с субтропическими растениями, бамбуками, пальмами, лаврами, камелиями, даёт хвойные и лиственные породы крайнего севера. Обильные летом дожди также дают возможность земледельцу на юге собирать две жатвы. Среди земледельческих продуктов рис занимает первое место. Следующими источниками доходов являются чай, хлопок, шёлк, сахар и т.д. Рыбный промысел, наряду с земледелием, играет большую роль...».

1) Япония

2) Токио

3) Страна характеризуется умеренным и субтропическим климатом. Наибольшую часть суши занимают широколиственные и хвойные леса. Десять процентов мировой вулканической активности в 1990-х зарегистрировано в Японии. До 1000 землетрясений каждой год магнитудой от 4 до 6 не являются тем-то исключением.

КОЛИЧЕСТВО БАЛЛОВ - 10

Задание 5

4. Определить по описанию субъект РФ:

Регион входит в состав Северо-Западного федерального округа. Рельеф равнинный, холмистый, с ледниковыми формами (моренные гряды, озы, камы). Климат мягкий с обилием осадков, меняется от морского к умеренно-континентальному. Зима снежная, прохладная, но обычно без сильных морозов, если морозы наступают, то только на несколько дней. Лето непродолжительное и тёплое, с большим количеством осадков. В регионе имеется 175 месторождений 24-х видов полезных ископаемых. Активно добываются слюда, полевой шпат, кварц, облицовочный камень, а также разнообразные

75

строительные материалы - граниты, диабазы, мраморы. Встречаются золото, серебро, алмазы, редкоземельные металлы. Разрабатываются месторождения железной руды, титана, ванадия, молибдена. Разведаны месторождения урановых руд. Преобладают хвойные леса, к северу — сосновые, южнее — и сосновые, и еловые. Основные хвойные породы: сосна обыкновенная и ель обыкновенная.

Ответ: _____.

КОЛИЧЕСТВО БАЛЛОВ - 7

ВСЕГО ЗА ТЕОРЕТИЧЕСКИЙ ТУР – 35 БАЛЛОВ

Тестовый тур

Выберите правильный ответ

1. Какой полуостров изображён на космическом снимке?



Ответ: Полуостров Индия

2. Какая из перечисленных равнин имеет наибольшую площадь?

- А) Восточно-Европейская равнина
- Б) Западно-Сибирская низменность
- В) Амазонская низменность
- Г) Великие равнины

3. Примером рационального природопользования является?

- А) добыча полезных ископаемых открытым способом в зоне степей
- Б) сплав леса по рекам в таежной зоне
- В) распашка склонов в горных районах
- Г) создание защитных лесополос в зоне степей

4. Выберите строчку, где перечислены города России - центры льняной промышленности:

- А) Мурманск, Архангельск, Москва, Санкт-Петербург
- Б) Иваново, Шуя, Псков, Кострома
- В) Шуя, Вологда, Ярославль, Кострома
- Г) Псков, Вологда, Кострома, Великие Луки

15

15

15

15

5. Продолжительность светового дня 23 сентября на Северном полярном круге составляет:

- А) 0 ч Б) 12 ч В) 24 ч Г) 6 ч

15

6. Расставьте по убыванию численности населения:

- 1 А) Калининград 2 Б) Черняховск 3 В) Гусев 4 Г) Советск

05

7. Для какого из перечисленных регионов характерны формы рельефа, созданные деятельностью ледника?

- А) Приморский край Б) Республика Татарстан
В) Новосибирская область Г) Республика Карелия

15

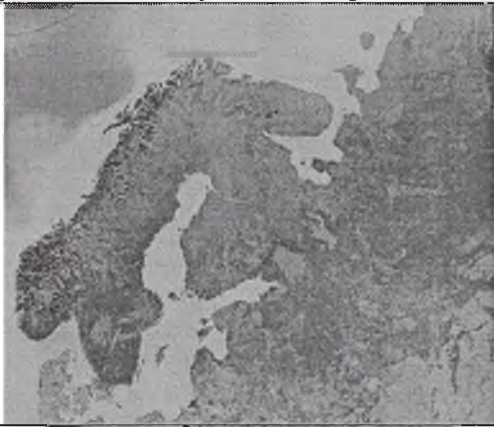


8. Выберите реку, впадающую в Каспийское море:

- А) Днепр; Б) Неман; В) Волга; Г) Печора.

15

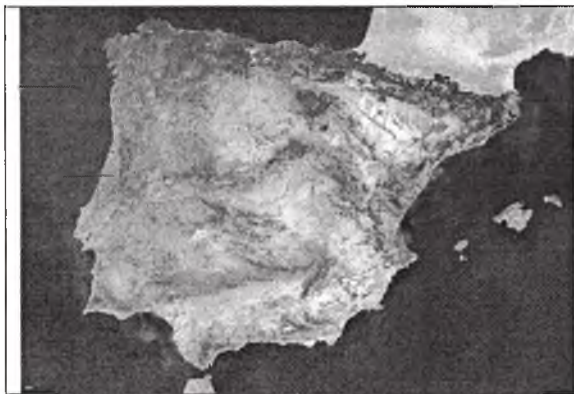
9. Установите соответствие между изображением полуострова и типичными ландшафтами на фото. Подпишите названия полуостровов:

Ландшафты: тайга, пустыня, средиземноморские жестколистные леса и кустарники.

	Название полуострова: _____ Название типичных ландшафтов: _____
	Название полуострова: <u>Аравийский</u> Название типичных ландшафтов: <u>Пустыня, кустарники.</u>
	Название полуострова: <u>Апеннинский полуостров</u> Название типичных ландшафтов: <u>Средиземноморские жестколистные леса и кустарники</u>

025

025




Название полуострова:

Пиренейский полуостров

Название типичных ландшафтов:

Средиземноморские жестко-
лиственные леса 0,2
кустарники.



Название полуострова:

Юкатан

Название типичных ландшафтов:

Пустыня

10. На территории какого субъекта РФ находится крайняя южная точка РФ? С каким государством здесь проходит государственная граница РФ?

Ответ: Субъект: Гуаделупа (0,5 б.)

Государство: Грузия (0,5 б.)

11. Выберите второй по численности этнос в России:

А) белорусы Б) украинцы В) татары Г) башкиры 15

12. На каком материке или в каком океане находится точка с координатами 40°с.ш. 100°з.д.?

А) Евразия Б) Тихий океан В) Северная Америка Г) Южная Америка 15

13. Этот ветер характерен для небольших районов, где не очень высокие горы расположены рядом с морем. Сильный, холодный, порывистый местный ветер, возникает когда поток холодного воздуха встречает на своём пути преграду в виде гор, преодолев которую, он с огромной силой обрушивается на побережье. Назовите этот ветер.

А) фён Б) сирокко В) бора Г) самум 15

14. Какая крайняя материковая точка России имеет западную долготу?

А) западная В) восточная Б) северная Г) южная 15

15. Выберите самый северный город-миллионер:

А) Берлин Б) Нью-Йорк В) Москва Г) Санкт-Петербург 15

ВСЕГО ЗА ТЕСТОВЫЙ ТУР – 15 БАЛЛОВ

ИТОГО 50 БАЛЛОВ

Председатель
Члены жюри

жюри: Сименкина Т. И.
Тирекае Л. А.
Стаценко Л. А.
Лавина А. А.
Коржавина С. Б.
Осипов О. М.

Федос

335

СР

Всероссийская олимпиада школьников по географии 2018 -2019. Школьный этап.

9 класс

315

Теоретический тур

Задание 1

Монгольские народы или монголы - группа родственных народов, говорящих на монгольских языках и тесно связанных общей многовековой историей, культурой, традициями и обычаями. Населяют север КНР, Монголию и регионы Российской Федерации. Один из этих народов живёт на востоке страны, а другой – в европейской части России. Назовите оба народа, религию.

05

КОЛИЧЕСТВО БАЛЛОВ - 5

Задание 2

Заполните свободные графы в таблице, в которой дана характеристика некоторых бассейнов или месторождений минерального сырья в России

№	Описание добываемого ресурса или месторождения добычи	Название месторождения (бассейна)	Вид добываемого ресурса	Субъекты РФ
1.	Крупнейшее в России и 7-е по размеру в мире нефтяное месторождение. 0,55	Самотлорское	нефть 0,55	Нииневартовском районе Ханты-Мансийского автономного округа Югра 0,55
2.	Крупнейший по запасам этого сырья бассейн в мире. По разведанным запасам богатых руд уступает только перспективному Эль Мутуну (Боливия). История открытия связана с необычным поведением магнитной стрелки. Среди месторождений бассейна Стойленское, Михайловское и др.	Курская магнитная аномалия 0,55	Менезо 0,55	Курская обл., Белгородская обл., Орловская обл. 2,55 1,55
3.	Этот Центрально-Сибирский бассейн обладает наиболее значительными запасами данного энергетического ресурса, добывающегося открытым способом.	Канско-Ачинский угольный бассейн 0,55	Уголь 0,55	Красноярск, Кемерово, Иркутск. 1,55 2,55
4.	Это месторождение расположено в 30 километрах южнее железнодорожной станции Новая Чара на хребте, который дал название и месторождению. Крупнейшее в стране и третье в мире по запасам этого цветного металла (около 24,6 млн. т). Ведется подготовка к промышленному освоению	Уроманское медное месторождение 0,5	медь	Забайкальский край 0,5 15

КОЛИЧЕСТВО БАЛЛОВ - 8

7,55

Задание 3

В гавань заходят 5 кораблей. По описанию флагов определите, из каких они государств.



Австралия

Бразилия

Греция

Дания

Канада

58

КОЛИЧЕСТВО БАЛЛОВ - 5

Задание 4

В 1906 году вышла в свет книга Григория Де-Воллана, посвящённая этой стране. Прочтите некоторые отрывки из этой книги и определите, 1) о какой стране идёт речь. 2) Назовите её столицу. 3) Какие природные особенности этой страны Вам известны?

«...Архипелаг тянется, наподобие виноградной лозы, тремя красивыми фестонами вдоль берегов Сибири и северного Китая. Две трети поверхности заняты горами. Климат является отражением климатических условий соседнего материка, в котором преобладает жаркое влажное лето и холодная ясная зима. Эти условия умеряются морем..., так что мы получаем более прохладное лето и более мягкую зиму вместе с большей влажностью, чем на материке. Влажный климат способствует роскошному развитию природы, которая, рядом с субтропическими растениями, бамбуками, пальмами, лаврами, камелиями, даёт хвойные и лиственные породы крайнего севера. Обильные летом дожди также дают возможность земледельцу на юге собирать две жатвы. Среди земледельческих продуктов рис занимает первое место. Следующими источниками доходов являются чай, хлопок, шёлк, сахар и т.д. Рыбный промысел, наряду с земледелием, играет большую роль...».

1) Япония

2) Токио

3) Страна характеризуется умеренным и субтропическим климатом.

1) Визуительную часть суши занимают широколиственные вечнозеленые леса. Десятки вулканов мировой вулканической активности.

1) В 1990-х было зарегистрировано в Японии. По 1500 землетрясений.

1) Каждый год посетовою от 4 до 6 не являются чем-то необычным.

78

КОЛИЧЕСТВО БАЛЛОВ - 10

Задание 5

4. Определить по описанию субъект РФ:

Регион входит в состав Северо-Западного федерального округа. Рельеф равнинный, холмистый, с ледниковыми формами (моренные гряды, озы, камы). Климат мягкий с обилием осадков, меняется от морского к умеренно-континентальному. Зима снежная, прохладная, но обычно без сильных морозов, если морозы наступают, то только на несколько дней. Лето непродолжительное и тёплое, с большим количеством осадков. В регионе имеется 175 месторождений 24-х видов полезных ископаемых. Активно добываются слюда, полевой шпат, кварц, облицовочный камень, а также разнообразные

строительные материалы - граниты, диабазы, мраморы. Встречаются золото, серебро, алмазы, редкоземельные металлы. Разрабатываются месторождения железной руды, титана, ванадия, молибдена. Разведаны месторождения урановых руд. Преобладают хвойные леса, к северу — сосновые, южнее — и сосновые, и еловые. Основные хвойные породы: сосна обыкновенная и ель обыкновенная.

Ответ: _____.

08

КОЛИЧЕСТВО БАЛЛОВ - 7

ВСЕГО ЗА ТЕОРЕТИЧЕСКИЙ ТУР – 35 БАЛЛОВ

Тестовый тур

Выберите правильный ответ

1. Какой полуостров изображён на космическом снимке?



Ответ: Полуостров Индостан

15

2. Какая из перечисленных равнин имеет наибольшую площадь?

- А) Восточно-Европейская равнина
- Б) Западно-Сибирская низменность
- В) Амазонская низменность
- Г) Великие равнины

15

3. Примером рационального природопользования является?

- А) добыча полезных ископаемых открытым способом в зоне степей
- Б) сплав леса по рекам в таежной зоне
- В) распашка склонов в горных районах
- Г) создание поλεзащитных лесополос в зоне степей

15

4. Выберите строчку, где перечислены города России - центры льняной промышленности:

- А) Мурманск, Архангельск, Москва, Санкт-Петербург
- Б) Иваново, Шуя, Псков, Кострома
- В) Шуя, Вологда, Ярославль, Кострома
- Г) Псков, Вологда, Кострома, Великие луки

15

5. Продолжительность светового дня 23 сентября на Северном полярном круге составляет:

- А) 0 ч Б) 12 ч В) 24 ч Г) 6 ч

15

6. Расставьте по убыванию численности населения:

- { А) Калининград 2 Б) Черняховск 4 В) Гусев ← 73 Г) Советск

05

7. Для какого из перечисленных регионов характерны формы рельефа, созданные деятельностью ледника?

15

- А) Приморский край Б) Республика Татарстан
В) Новосибирская область Г) Республика Карелия



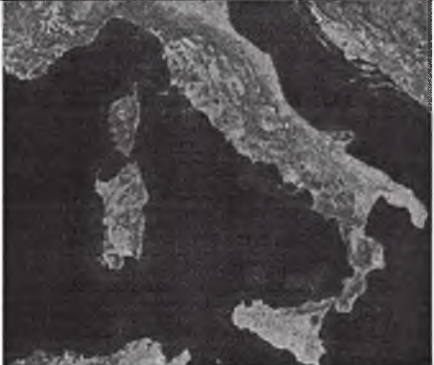
15

8. Выберите реку, впадающую в Каспийское море:

- А) Днепр; Б) Неман; В) Волга; Г) Печора.

9. Установите соответствие между изображением полуострова и типичными ландшафтами на фото. Подпишите названия полуостровов:

Ландшафты: тайга, пустыня, средиземноморские жестколистные леса и кустарники.

	Название полуострова: _____ Название типичных ландшафтов: _____
	Название полуострова: _____ Название типичных ландшафтов: _____
	Название полуострова: _____ Название типичных ландшафтов: _____



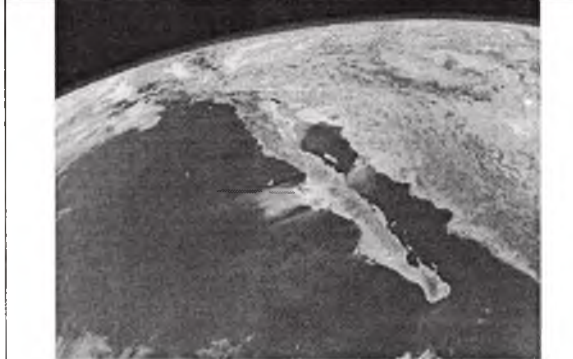
Название полуострова:

Иберийский

Название типичных ландшафтов:

Средиземноморские степно-ливневые леса

0,2



Название полуострова:

Название типичных ландшафтов:

10. На территории какого субъекта РФ находится крайняя южная точка РФ? С каким государством здесь проходит государственная граница РФ?

Ответ: Субъект: Гуахарск (0,5 б.)

Государство: Австрия (0,5 б.)

0,5

11. Выберите второй по численности этнос в России:

- А) белорусы Б) украинцы В) татары Г) башкиры

1,5

12. На каком материке или в каком океане находится точка с координатами 40°с.ш. 100°з.д.?

- А) Евразия Б) Тихий океан В) Северная Америка Г) Южная Америка

1,5

13. Этот ветер характерен для небольших районов, где не очень высокие горы расположены рядом с морем. Сильный, холодный, порывистый местный ветер, возникает когда поток холодного воздуха встречает на своём пути преграду в виде гор, преодолев которую, он с огромной силой обрушивается на побережье. Назовите этот ветер.

- А) фён Б) сирокко В) бора Г) самум

1,5

14. Какая крайняя материковая точка России имеет западную долготу?

- А) западная Б) восточная В) северная Г) южная

15. Выберите самый северный город-миллионер:

- А) Берлин Б) Нью-Йорк В) Москва Д) Санкт-Петербург

1,5

ВСЕГО ЗА ТЕСТОВЫЙ ТУР – 15 БАЛЛОВ

ИТОГО 50 БАЛЛОВ

Председатель
Члены жюри:

жюри: Сивенькая Т.А.
Турочка Л.А.
Стаценко С.Ж.
Лавина А.А.
Коржавина С.Т.
Озер О.И.

Фрес

315

Всероссийская олимпиада школьников по географии 2018 -2019. Школьный этап.

9 класс

2,95

Теоретический тур

Задание 1

Монгольские народы или монголы - группа родственных народов, говорящих на монгольских языках и тесно связанных общей многовековой историей, культурой, традициями и обычаями. Населяют север КНР, Монголию и регионы Российской Федерации. Один из этих народов живёт на востоке страны, а другой – в европейской части России. Назовите оба народа, религию.

Тунгусо-маньчжурские народы, тюркские; религия - буддизм, православие, ислам, шаманизм. 2,5

КОЛИЧЕСТВО БАЛЛОВ - 5

Задание 2

Заполните свободные графы в таблице, в которой дана характеристика некоторых бассейнов или месторождений минерального сырья в России

№	Описание добываемого ресурса или месторождения добычи	Название месторождения (бассейна)	Вид добываемого ресурса	Субъекты РФ
1.		Самотлорское	Нефть 0,55	Ханто-Мангайский АО; Югра 1,55
2.	Крупнейший по запасам этого сырья бассейн в мире. По разведанным запасам богатых руд уступает только перспективному Эль Мутуну (Боливия). История открытия связана с необычным поведением магнитной стрелки. Среди месторождений бассейна Стойленское, Михайловское и др.	Курская магнитная аномалия (КМА) 0,55	железная руда 0,55	Центральный Черноземный экономический район 1,55
3.	Этот Центрально-Сибирский бассейн обладает наиболее значительными запасами данного энергетического ресурса, добывающегося открытым способом.	Центральная Сибирская Заповедника 0	дурый уголь 0,55	Красноярский край 0,55 1,55
4.	Это месторождение расположено в 30 километрах южнее железнодорожной станции Новая Чара на хребте, который дал название и месторождению. Крупнейшее в стране и третье в мире по запасам этого цветного металла (около 24,6 млн. т). Ведется подготовка к промышленному освоению	Удоканское 0,55	медь	0,55

КОЛИЧЕСТВО БАЛЛОВ - 8

4,55

Задание 3

В гавань заходят 5 кораблей. По описанию флагов определите, из каких они государств.



1. Австралия 2. Бразилия 3. Греция 4. Швеция 5. Канада

45

КОЛИЧЕСТВО БАЛЛОВ - 5

Задание 4

В 1906 году вышла в свет книга Григория Де-Воллана, посвящённая этой стране. Прочтите некоторые отрывки из этой книги и определите, 1) о какой стране идёт речь. 2) Назовите её столицу. 3) Какие природные особенности этой страны Вам известны?

«...Архипелаг тянется, наподобие виноградной лозы, тремя красивыми фестонами вдоль берегов Сибири и северного Китая. Две трети поверхности заняты горами. Климат является отражением климатических условий соседнего материка, в котором преобладает жаркое влажное лето и холодная ясная зима. Эти условия умеряются морем... так что мы получаем более прохладное лето и более мягкую зиму вместе с большей влажностью, чем на материке. Влажный климат способствует роскошному развитию природы, которая, рядом с субтропическими растениями, бамбуками, пальмами, лаврами, камелиями, даёт хвойные и лиственные породы крайнего севера. Обильные летом дожди также дают возможность земледельцу на юге собирать две жатвы. Среди земледельческих продуктов рис занимает первое место. Следующими источниками доходов являются чай, хлопок, шёлк, сахар и т.д. Рыбный промысел, наряду с земледелием, играет большую роль...».

1) Япония

2) Токио

3) Находится самая высокая гора Фудзи. Большую часть суши занимает горы; Фудзи является действующим вулканом

55

КОЛИЧЕСТВО БАЛЛОВ - 10

Задание 5

4. Определить по описанию субъект РФ:

Регион входит в состав Северо-Западного федерального округа. Рельеф равнинный, холмистый, с ледниковыми формами (моренные гряды, озы, камы). Климат мягкий с обилием осадков, меняется от морского к умеренно-континентальному. Зима снежная, прохладная, но обычно без сильных морозов, если морозы наступают, то только на несколько дней. Лето непродолжительное и тёплое, с большим количеством осадков. В регионе имеется 175 месторождений 24-х видов полезных ископаемых. Активно добываются слюда, полевой шпат, кварц, облицовочный камень, а также разнообразные

строительные материалы - граниты, диабазы, мраморы. Встречаются золото, серебро, алмазы, редкоземельные металлы. Разрабатываются месторождения железной руды, титана, ванадия, молибдена. Разведаны месторождения урановых руд. Преобладают хвойные леса, к северу — сосновые, южнее — и сосновые, и еловые. Основные хвойные породы: сосна обыкновенная и ель обыкновенная.

Ответ: Санкт-Петербург.

КОЛИЧЕСТВО БАЛЛОВ - 7

06

ВСЕГО ЗА ТЕОРЕТИЧЕСКИЙ ТУР – 35 БАЛЛОВ

Тестовый тур

Выберите правильный ответ

1. Какой полуостров изображён на космическом снимке?



Ответ: Иберский

15

2. Какая из перечисленных равнин имеет наибольшую площадь?

- А) Восточно-Европейская равнина
- Б) Западно-Сибирская низменность
- В) Амазонская низменность
- Г) Великие равнины

15

3. Примером рационального природопользования является?

- А) добыча полезных ископаемых открытым способом в зоне степей
- Б) сплав леса по рекам в таежной зоне
- В) распашка склонов в горных районах
- Г) создание защитных лесополос в зоне степей

15

4. Выберите строчку, где перечислены города России - центры льняной промышленности:

- А) Мурманск, Архангельск, Москва, Санкт-Петербург
- Б) Иваново, Шуя, Псков, Кострома
- В) Шуя, Вологда, Ярославль, Кострома
- Г) Псков, Вологда, Кострома, Великие луки

15

5. Продолжительность светового дня 23 сентября на Северном полярном круге составляет:

- А) 0 ч Б) 12 ч В) 24 ч Г) 6 ч

15

6. Расставьте по убыванию численности населения:

- 1 А) Калининград 3 Б) Черняховск 4 В) Гусев 2 Г) Советск

15

7. Для какого из перечисленных регионов характерны формы рельефа, созданные деятельностью ледника?

- А) Приморский край Б) Республика Татарстан
В) Новосибирская область Г) Республика Карелия

15

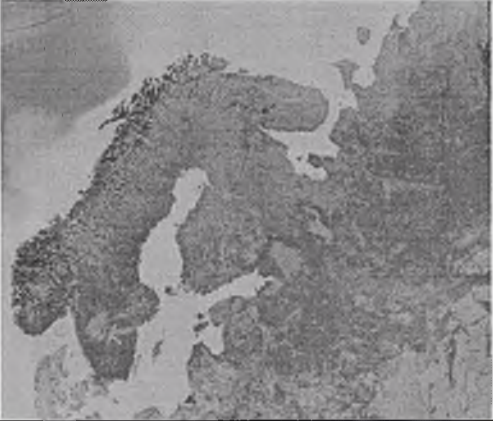

8. Выберите реку, впадающую в Каспийское море:

- А) Днепр; Б) Неман; В) Волга; Г) Печора.

15

9. Установите соответствие между изображением полуострова и типичными ландшафтами на фото. Подпишите названия полуостровов:

Ландшафты: тайга, пустыня, средиземноморские жестколистные леса и кустарники.

	Название полуострова: <u>Скандинавский</u>
	Название полуострова: <u>Аравийский</u>
	Название полуострова: <u>Апеннинский</u>

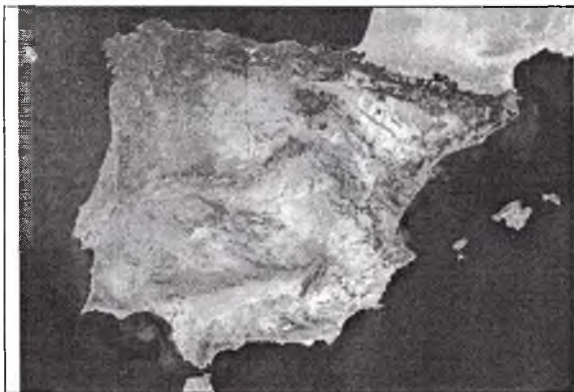
Название типичных ландшафтов:
кустарники

Название типичных ландшафтов:
пустыня

Название типичных ландшафтов:
средиземноморские жестколистные леса

0,2

0,2

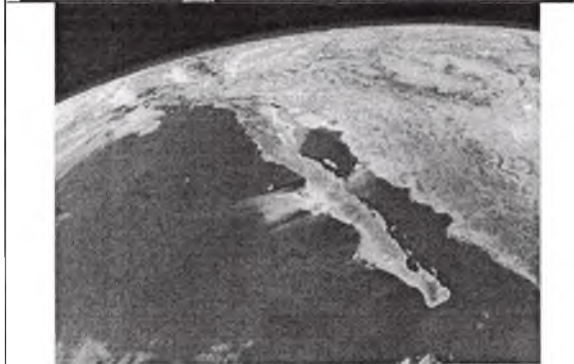


Название полуострова:

Пиренейский

Название типичных ландшафтов:

таёга



Название полуострова:

Юкатан

Название типичных ландшафтов:

таёга

10. На территории какого субъекта РФ находится крайняя южная точка РФ? С каким государством здесь проходит государственная граница РФ?

Ответ: Субъект: Дагестан (0,5 б.)

Государство: Азербайджан (0,5 б.)

15

11. Выберите второй по численности этнос в России:

А) белорусы Б) украинцы В) татары Г) башкиры

15

12. На каком материке или в каком океане находится точка с координатами 40°с.ш. 100°з.д.?

А) Евразия Б) Тихий океан В) Северная Америка Г) Южная Америка

15

13. Этот ветер характерен для небольших районов, где не очень высокие горы расположены рядом с морем. Сильный, холодный, порывистый местный ветер, возникает когда поток холодного воздуха встречает на своём пути преграду в виде гор, преодолев которую, он с огромной силой обрушивается на побережье. Назовите этот ветер.

А) фён Б) сирокко В) бора Г) самум

15

14. Какая крайняя материковая точка России имеет западную долготу?

А) западная Б) восточная В) северная Г) южная

15

15. Выберите самый северный город-миллионер:

А) Берлин Б) Нью-Йорк В) Москва Г) Санкт-Петербург

ВСЕГО ЗА ТЕСТОВЫЙ ТУР – 15 БАЛЛОВ

ИТОГО 50 БАЛЛОВ

Председатель жюри Сивельская Т.И.
Члены жюри Турская Л.А.
Смаженко С.И.
Лавин А.А.
Коржавина С.Т.
Смирн А.М.

295

Всероссийская олимпиада школьников по географии 2018 -2019. Школьный этап.

9 класс

285

Теоретический тур

Задание 1

Монгольские народы или монголы - группа родственных народов, говорящих на монгольских языках и тесно связанных общей многовековой историей, культурой, традициями и обычаями. Населяют север КНР, Монголию и регионы Российской Федерации. Один из этих народов живёт на востоке страны, а другой – в европейской части России. Назовите оба народа, религию.

Тунгусо-маньчжурские народы, тюркские народы. Буддизм, шаманизм, ислам, католицизм, православие.

КОЛИЧЕСТВО БАЛЛОВ - 5 25

Задание 2

Заполните свободные графы в таблице, в которой дана характеристика некоторых бассейнов или месторождений минерального сырья в России

№	Описание добываемого ресурса или месторождения добычи	Название месторождения (бассейна)	Вид добываемого ресурса	Субъекты РФ
1.		Самотлорское	нефть 0,50	Ханты-Мансийский АО-Югра 0,50
2.	Крупнейший по запасам этого сырья бассейн в мире. По разведанным запасам богатых руд уступает только перспективному Эль Мутуну (Боливия). История открытия связана с необычным поведением магнитной стрелки. Среди месторождений бассейна Стойленское, Михайловское и др.	Курская магнитная аномалия (КМА) 0,50	железная руда 0,50	Центрально-Чернозёмный экономический район 0,50
3.	Этот Центрально-Сибирский бассейн обладает наиболее значительными запасами данного энергетического ресурса, добывающегося открытым способом.	Центрально-Сибирский бассейн запобеднин 0,50	Бурый уголь 0,50	Красноярский край 0,50
4.	Это месторождение расположено в 30 километрах южнее железнодорожной станции Новая Чара на хребте, который дал название и месторождению. Крупнейшее в стране и третье в мире по запасам этого цветного металла (около 24,6 млн. т). Ведется подготовка к промышленному освоению	Удоканское 0,50	медь	

КОЛИЧЕСТВО БАЛЛОВ - 8

48

Задание 3

В гавань заходят 5 кораблей. По описанию флагов определите, из каких они государств.



Австралия

Бразилия

Греция

Швеция

Канада

48

КОЛИЧЕСТВО БАЛЛОВ - 5

Задание 4

В 1906 году вышла в свет книга Григория Де-Воллана, посвящённая этой стране. Прочтите некоторые отрывки из этой книги и определите, 1) о какой стране идёт речь. 2) Назовите её столицу. 3) Какие природные особенности этой страны Вам известны?

«...Архипелаг тянется, наподобие виноградной лозы, тремя красивыми фестонами вдоль берегов Сибири и северного Китая. Две трети поверхности заняты горами. Климат является отражением климатических условий соседнего материка, в котором преобладает жаркое влажное лето и холодная ясная зима. Эти условия умеряются морем..., так что мы получаем более прохладное лето и более мягкую зиму вместе с большей влажностью, чем на материке. Влажный климат способствует роскошному развитию природы, которая, рядом с субтропическими растениями, бамбуками, пальмами, лаврами, камелиями, даёт хвойные и лиственные породы крайнего севера. Обильные летом дожди также дают возможность земледельцу на юге собирать две жатвы. Среди земледельческих продуктов рис занимает первое место. Следующими источниками доходов являются чай, хлопок, шёлк, сахар и т.д. Рыбный промысел, наряду с земледелием, играет большую роль...».

1) Япония 2

2) Токио 1

3) Находится самая высокая гора Японии - Фудзи. Фудзи

1 является действующим вулканом. Большинство суши 1 (80%) находится в Японии занимают горы.

58

КОЛИЧЕСТВО БАЛЛОВ - 10

Задание 5

4. Определить по описанию субъект РФ:

Регион входит в состав Северо-Западного федерального округа. Рельеф равнинный, холмистый, с ледниковыми формами (моренные гряды, озы, камы). Климат мягкий с обилием осадков, меняется от морского к умеренно-континентальному. Зима снежная, прохладная, но обычно без сильных морозов, если морозы наступают, то только на несколько дней. Лето непродолжительное и тёплое, с большим количеством осадков. В регионе имеется 175 месторождений 24-х видов полезных ископаемых. Активно добываются слюда, полевой шпат, кварц, облицовочный камень, а также разнообразные

строительные материалы - граниты, диабазы, мраморы. Встречаются золото, серебро, алмазы, редкоземельные металлы. Разрабатываются месторождения железной руды, титана, ванадия, молибдена. Разведаны месторождения урановых руд. Преобладают хвойные леса, к северу — сосновые, южнее — и сосновые, и еловые. Основные хвойные породы: сосна обыкновенная и ель обыкновенная.

Ответ: Санкт-Петербург.

КОЛИЧЕСТВО БАЛЛОВ - 7

ВСЕГО ЗА ТЕОРЕТИЧЕСКИЙ ТУР – 35 БАЛЛОВ

Тестовый тур

Выберите правильный ответ

1. Какой полуостров изображён на космическом снимке?



Ответ: Индостан

2. Какая из перечисленных равнин имеет наибольшую площадь?

- А) Восточно-Европейская равнина
- Б) Западно-Сибирская низменность
- В) Амазонская низменность
- Г) Великие равнины

3. Примером рационального природопользования является?

- А) добыча полезных ископаемых открытым способом в зоне степей
- Б) сплав леса по рекам в таежной зоне
- В) распашка склонов в горных районах
- Г) создание защитных лесополос в зоне степей

4. Выберите строчку, где перечислены города России - центры льняной промышленности:

- А) Мурманск, Архангельск, Москва, Санкт-Петербург
- Б) Иваново, Шуя, Псков, Кострома
- В) Шуя, Вологда, Ярославль, Кострома
- Г) Псков, Вологда, Кострома, Великие луки

15

15

15

15

5. Продолжительность светового дня 23 сентября на Северном полярном круге составляет:

- А) 0 ч Б) 12 ч В) 24 ч Г) 6 ч

15

6. Расставьте по убыванию численности населения:

- 1 А) Калининград 3 Б) Черняховск 4 В) Гусев 2 Г) Советск

15

7. Для какого из перечисленных регионов характерны формы рельефа, созданные деятельностью ледника?

- А) Приморский край Б) Республика Татарстан
В) Новосибирская область Г) Республика Карелия

15




8. Выберите реку, впадающую в Каспийское море:

- А) Днепр; Б) Неман; В) Волга; Г) Печора.

15

9. Установите соответствие между изображением полуострова и типичными ландшафтами на фото. Подпишите названия полуостровов:

Ландшафты: тайга, пустыня, средиземноморские жестколистные леса и кустарники.

	Название полуострова: <u>Скандинавский</u>
	Название полуострова: <u>Аравийский п-в</u>
	Название полуострова: <u>Апеннинский</u>


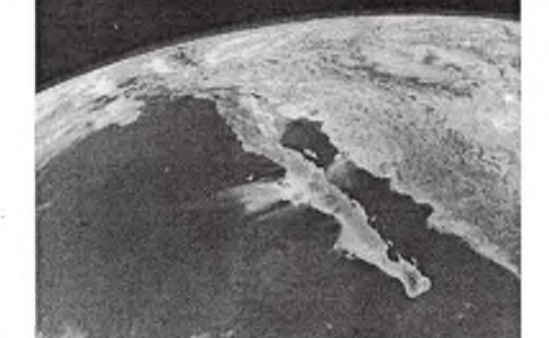
Название типичных ландшафтов:
кустарники

Название типичных ландшафтов:
пустыня

Название типичных ландшафтов:
средиземноморские жестколистные леса

0,25

0,25

	<p>Название полуострова: <u>Пиренейский</u></p> <p>Название типичных ландшафтов: <u>майна</u></p>
	<p>Название полуострова: <u>Юкатан</u></p> <p>Название типичных ландшафтов: <u>мау майя</u></p>

10. На территории какого субъекта РФ находится крайняя южная точка РФ? С каким государством здесь проходит государственная граница РФ?

Ответ: Субъект: _____ (0,5 б.)

Государство: Азербайджан (0,5 б.)

0,55

11. Выберите второй по численности этнос в России:

- А) белорусы Б) украинцы В) татары Г) башкиры

15

12. На каком материке или в каком океане находится точка с координатами 40°с.ш. 100°з.д.?

- А) Евразия Б) Тихий океан В) Северная Америка Г) Южная Америка

15

13. Этот ветер характерен для небольших районов, где не очень высокие горы расположены рядом с морем. Сильный, холодный, порывистый местный ветер, возникает когда поток холодного воздуха встречает на своём пути преграду в виде гор, преодолев которую, он с огромной силой обрушивается на побережье. Назовите этот ветер.

- А) фён Б) сирокко В) бора Г) самум

15

14. Какая крайняя материковая точка России имеет западную долготу?

- А) западная Б) восточная В) северная Г) южная

15

15. Выберите самый северный город-миллионер:

- А) Берлин Б) Нью-Йорк В) Москва Г) Санкт-Петербург

15

ВСЕГО ЗА ТЕСТОВЫЙ ТУР – 15 БАЛЛОВ

ИТОГО 50 БАЛЛОВ

Председатель жюри: Сидельская Т.Н.
 Члены жюри: Турская Л.А.
 Стаценко С.И.
 Ласинько А.А.
 Юржакина С.Т.
 Озер С.И.

285

Теоретический тур

2,65

Задание 1

Монгольские народы или монголы - группа родственных народов, говорящих на монгольских языках и тесно связанных общей многовековой историей, культурой, традициями и обычаями. Населяют север КНР, Монголию и регионы Российской Федерации. Один из этих народов живёт на востоке страны, а другой – в европейской части России. Назовите оба народа, религию.

Тунгусо-маньчжурские народы; Тюркские народы. Буддизм, шаманизм, православие, ислам, католицизм, и.

2,5

КОЛИЧЕСТВО БАЛЛОВ - 5

Задание 2

Заполните свободные графы в таблице, в которой дана характеристика некоторых бассейнов или месторождений минерального сырья в России

№	Описание добываемого ресурса или месторождения добычи	Название месторождения (бассейна)	Вид добываемого ресурса	Субъекты РФ
1.		Самотлорское	нефть 0,5	Ханты-Мансийский АО-Югра. 0,5
2.	Крупнейший по запасам этого сырья бассейн в мире. По разведанным запасам богатых руд уступает только перспективному Эль Мутуну (Боливия). История открытия связана с необычным поведением магнитной стрелки. Среди месторождений бассейна Стойленское, Михайловское и др.	Курская магнетитовая аномалия (КМА) 0,5	железные руды 0,5	Центрально-Чернозёмный экономический район 0,5
3.	Этот Центрально-Сибирский бассейн обладает наиболее значительными запасами данного энергетического ресурса, добывающегося открытым способом.	Центрально-Сибирский заповедник	Бурий уголь 0,5	Красноярский край 0,5
4.	Это месторождение расположено в 30 километрах южнее железнодорожной станции Новая Чара на хребте, который дал название и месторождению. Крупнейшее в стране и третье в мире по запасам этого цветного металла (около 24,6 млн. т). Ведется подготовка к промышленному освоению	Удгаланское 0,5	медь	

1,5

1,55

1,5

0,55

КОЛИЧЕСТВО БАЛЛОВ - 8

4,5

Задание 3

В гавань заходят 5 кораблей. По описанию флагов определите, из каких они государств.



Австралия; Бразилия; Пруссия; Швеция; Канада

4/5

КОЛИЧЕСТВО БАЛЛОВ - 5

Задание 4

В 1906 году вышла в свет книга Григория Де-Воллана, посвящённая этой стране. Прочтите некоторые отрывки из этой книги и определите, 1) о какой стране идёт речь. 2) Назовите её столицу. 3) Какие природные особенности этой страны Вам известны?

«...Архипелаг тянется, наподобие виноградной лозы, тремя красивыми фестонами вдоль берегов Сибири и северного Китая. Две трети поверхности заняты горами. Климат является отражением климатических условий соседнего материка, в котором преобладает жаркое влажное лето и холодная ясная зима. Эти условия умеряются морем., так что мы получаем более прохладное лето и более мягкую зиму вместе с большей влажностью, чем на материке. Влажный климат способствует роскошному развитию природы, которая, рядом с субтропическими растениями, бамбуками, пальмами, лаврами, камелиями, даёт хвойные и лиственные породы крайнего севера. Обильные летом дожди также дают возможность земледельцу на юге собирать две жатвы. Среди земледельческих продуктов рис занимает первое место. Следующими источниками доходов являются чай, хлопок, шёлк, сахар и т.д. Рыбный промысел, наряду с земледелием, играет большую роль...».

- 1) Япония
- 2) Токио
- 3) Находится самая высокая гора - Фудзи Яма

4/5

КОЛИЧЕСТВО БАЛЛОВ - 10

Задание 5

4. Определить по описанию субъект РФ:

Регион входит в состав Северо-Западного федерального округа. Рельеф равнинный, холмистый, с ледниковыми формами (моренные гряды, озы, камы). Климат мягкий с обилием осадков, меняется от морского к умеренно-континентальному. Зима снежная, прохладная, но обычно без сильных морозов, если морозы наступают, то только на несколько дней. Лето непродолжительное и тёплое, с большим количеством осадков. В регионе имеется 175 месторождений 24-х видов полезных ископаемых. Активно добываются слюда, полевой шпат, кварц, облицовочный камень, а также разнообразные

строительные материалы - граниты, диабазы, мраморы. Встречаются золото, серебро, алмазы, редкоземельные металлы. Разрабатываются месторождения железной руды, титана, ванадия, молибдена. Разведаны месторождения урановых руд. Преобладают хвойные леса, к северу — сосновые, южнее — и сосновые, и еловые. Основные хвойные породы: сосна обыкновенная и ель обыкновенная.

Ответ: Санкт-Петербург.

КОЛИЧЕСТВО БАЛЛОВ - 7

ВСЕГО ЗА ТЕОРЕТИЧЕСКИЙ ТУР – 35 БАЛЛОВ

Тестовый тур

Выберите правильный ответ

1. Какой полуостров изображён на космическом снимке?



Ответ: Индостан

2. Какая из перечисленных равнин имеет наибольшую площадь?

- А) Восточно-Европейская равнина
- Б) Западно-Сибирская низменность
- В) Амазонская низменность
- Г) Великие равнины

3. Примером рационального природопользования является?

- А) добыча полезных ископаемых открытым способом в зоне степей
- Б) сплав леса по рекам в таежной зоне
- В) распашка склонов в горных районах
- Г) создание поλεзащитных лесополос в зоне степей

4. Выберите строчку, где перечислены города России - центры льняной промышленности:

- А) Мурманск, Архангельск, Москва, Санкт-Петербург
- Б) Иваново, Шуя, Псков, Кострома
- В) Шуя, Вологда, Ярославль, Кострома
- Г) Псков, Вологда, Кострома, Великие луки

15

15

15

15

5. Продолжительность светового дня 23 сентября на Северном полярном круге составляет:

- А) 0 ч **Б) 12 ч** В) 24 ч Г) 6 ч

15

6. Расставьте по убыванию численности населения:

- 1 А) Калининград 3 Б) Черняховск 4 В) Гусев 2 Г) Советск

0,5

7. Для какого из перечисленных регионов характерны формы рельефа, созданные деятельностью ледника?

- А) Приморский край Б) Республика Татарстан
В) Новосибирская область **Г) Республика Карелия**

15

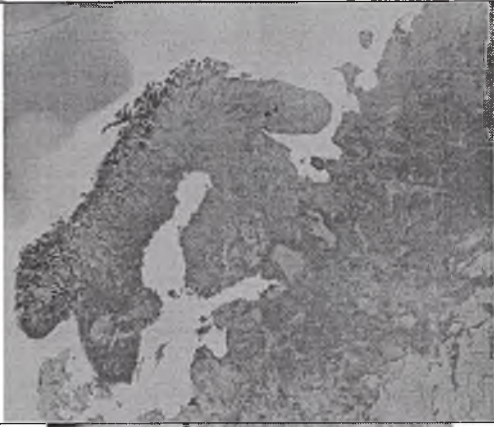


8. Выберите реку, впадающую в Каспийское море:

- А) Днепр; Б) Неман; **В) Волга;** Г) Печора.

15


9. Установите соответствие между изображением полуострова и типичными ландшафтами на фото. Подпишите названия полуостровов:

Ландшафты: тайга, пустыня, средиземноморские жестколистные леса и кустарники.

	Название полуострова: <u>Скандинавский</u>
	Название типичных ландшафтов: <u>кустарники</u>
	Название полуострова: <u>Аравийский п-ов</u>
	Название типичных ландшафтов: <u>пустыня</u>
	Название полуострова: <u>Апеннинский</u>
	Название типичных ландшафтов: <u>средиземноморские жестколистные леса и кустарники</u>

0,25

0,25

	Название полуострова: <u>Пиренейский</u> Название типичных ландшафтов: <u>таёга</u>
	Название полуострова: <u>Аравийский</u> Название типичных ландшафтов:

10. На территории какого субъекта РФ находится крайняя южная точка РФ? С каким государством здесь проходит государственная граница РФ?

Ответ: Субъект: _____ (0,5 б.)

Государство: Азербайджан (0,5 б.)

11. Выберите второй по численности этнос в России:

А) белорусы Б) украинцы В) татары Г) башкиры

12. На каком материке или в каком океане находится точка с координатами 40°с.ш. 100°з.д.?

А) Евразия Б) Тихий океан В) Северная Америка Г) Южная Америка

13. Этот ветер характерен для небольших районов, где не очень высокие горы расположены рядом с морем. Сильный, холодный, порывистый местный ветер, возникает когда поток холодного воздуха встречает на своём пути преграду в виде гор, преодолев которую, он с огромной силой обрушивается на побережье. Назовите этот ветер.

А) фён Б) сирокко В) бора Г) самум

14. Какая крайняя материковая точка России имеет западную долготу?

А) западная Б) восточная В) северная Г) южная

15. Выберите самый северный город-миллионер:

А) Берлин Б) Нью-Йорк В) Москва Г) Санкт-Петербург

ВСЕГО ЗА ТЕСТОВЫЙ ТУР – 15 БАЛЛОВ

ИТОГО 50 БАЛЛОВ

Председатель жюри: Сидельская Т.А.
 Члены жюри: Турская А.А.
 Стаценко С.А.
 Лаева А.А.
 Коржавина С.Т.
 Озер О.М.

Фирсов
 265

Теоретический тур

Задание 1

Монгольские народы или монголы - группа родственных народов, говорящих на монгольских языках и тесно связанных общей многовековой историей, культурой, традициями и обычаями. Населяют север КНР, Монголию и регионы Российской Федерации. Один из этих народов живёт на востоке страны, а другой – в европейской части России. Назовите оба народа, религию.

~~Тунгусы - маньчжурские народы, тюркские народы, буддизм~~
 Тунгусы - маньчжурские народы, тюркские народы. Буддизм. 2

КОЛИЧЕСТВО БАЛЛОВ - 5

Задание 2

Заполните свободные графы в таблице, в которой дана характеристика некоторых бассейнов или месторождений минерального сырья в России

№	Описание добываемого ресурса или месторождения добычи	Название месторождения (бассейна)	Вид добываемого ресурса	Субъекты РФ
1.		Самотлорское	нефть 0,50	Ханты-Мансийск АО - Югра 0,50
2.	Крупнейший по запасам этого сырья бассейн в мире. По разведанным запасам богатых руд уступает только перспективному Эль Мутуну (Боливия). История открытия связана с необычным поведением магнитной стрелки. Среди месторождений бассейна Стойленское, Михайловское и др.	Курская железные массалие (КМА) 0,50	железная руда 0,50	Центрально-Чернозёмный экономический район 0,50
3.	Этот Центрально-Сибирский бассейн обладает наиболее значительными запасами данного энергетического ресурса, добывающегося открытым способом.	Центрально-Сибирский газобензин 0,50	бура уголь 0,50	Красноярский край 0,50
4.	Это месторождение расположено в 30 километрах южнее железнодорожной станции Новая Чара на хребте, который дал название и месторождению. Крупнейшее в стране и третье в мире по запасам этого цветного металла (около 24,6 млн. т). Ведется подготовка к промышленному освоению	Удвинское 0,50	медь	

КОЛИЧЕСТВО БАЛЛОВ - 8

Задание 3

В гавань заходят 5 кораблей. По описанию флагов определите, из каких они государств.



Австралия ; Бразилия ; Греция ; Швеция ; Канада.

45

КОЛИЧЕСТВО БАЛЛОВ - 5

Задание 4

В 1906 году вышла в свет книга Григория Де-Воллана, посвящённая этой стране. Прочтите некоторые отрывки из этой книги и определите, 1) о какой стране идёт речь. 2) Назовите её столицу. 3) Какие природные особенности этой страны Вам известны?

«...Архипелаг тянется, наподобие виноградной лозы, тремя красивыми фестонами вдоль берегов Сибири и северного Китая. Две трети поверхности заняты горами. Климат является отражением климатических условий соседнего материка, в котором преобладает жаркое влажное лето и холодная ясная зима. Эти условия умеряются морем..., так что мы получаем более прохладное лето и более мягкую зиму вместе с большей влажностью, чем на материке. Влажный климат способствует роскошному развитию природы, которая, рядом с субтропическими растениями, бамбуками, пальмами, лаврами, камелиями, даёт хвойные и лиственные породы крайнего севера. Обильные летом дожди также дают возможность земледельцу на юге собирать две жатвы. Среди земледельческих продуктов рис занимает первое место. Следующими источниками доходов являются чай, хлопок, шёлк, сахар и т.д. Рыбный промысел, наряду с земледелием, играет большую роль...».

05

КОЛИЧЕСТВО БАЛЛОВ - 10

Задание 5

4. Определить по описанию субъект РФ:

Регион входит в состав Северо-Западного федерального округа. Рельеф равнинный, холмистый, с ледниковыми формами (моренные гряды, озы, камы). Климат мягкий с обилием осадков, меняется от морского к умеренно-континентальному. Зима снежная, прохладная, но обычно без сильных морозов, если морозы наступают, то только на несколько дней. Лето непродолжительное и тёплое, с большим количеством осадков. В регионе имеется 175 месторождений 24-х видов полезных ископаемых. Активно добываются слюда, полевой шпат, кварц, облицовочный камень, а также разнообразные

строительные материалы - граниты, диабазы, мраморы. Встречаются золото, серебро, алмазы, редкоземельные металлы. Разрабатываются месторождения железной руды, титана, ванадия, молибдена. Разведаны месторождения урановых руд. Преобладают хвойные леса, к северу — сосновые, южнее — и сосновые, и еловые. Основные хвойные породы: сосна обыкновенная и ель обыкновенная.

Ответ: _____

05

КОЛИЧЕСТВО БАЛЛОВ - 7

ВСЕГО ЗА ТЕОРЕТИЧЕСКИЙ ТУР – 35 БАЛЛОВ

Тестовый тур

Выберите правильный ответ

1. Какой полуостров изображён на космическом снимке?



Ответ: Корея - Корея

05

2. Какая из перечисленных равнин имеет наибольшую площадь?

- А) Восточно-Европейская равнина
- Б) Западно-Сибирская низменность
- В) Амазонская низменность
- Г) Великие равнины

15

3. Примером рационального природопользования является?

- А) добыча полезных ископаемых открытым способом в зоне степей
- Б) сплав леса по рекам в таежной зоне
- В) распашка склонов в горных районах
- Г) создание пологосащитных лесополос в зоне степей

15

4. Выберите строчку, где перечислены города России - центры льняной промышленности:

- А) Мурманск, Архангельск, Москва, Санкт-Петербург
- Б) Иваново, Шуя, Псков, Кострома
- В) Шуя, Вологда, Ярославль, Кострома
- Г) Псков, Вологда, Кострома, Великие луки

15

5. Продолжительность светового дня 23 сентября на Северном полярном круге составляет:

- А) 0 ч Б) 12 ч В) 24 ч Г) 6 ч

15

6. Расставьте по убыванию численности населения:

- 1 А) Калининград 2 Б) Черняховск 4 В) Гусев 3 Г) Советск

05

7. Для какого из перечисленных регионов характерны формы рельефа, созданные деятельностью ледника?

- А) Приморский край Б) Республика Татарстан
В) Новосибирская область Г) Республика Карелия

15



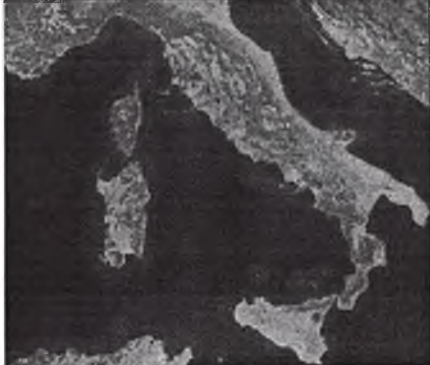
8. Выберите реку, впадающую в Каспийское море:



- А) Днепр; Б) Неман; В) Волга; Г) Печора.

15

9. Установите соответствие между изображением полуострова и типичными ландшафтами на фото. Подпишите названия полуостровов:

Ландшафты: тайга, пустыня, средиземноморские жестколистные леса и кустарники.

	Название полуострова: <u>Скандинавский полуостров</u>
	Название полуострова: _____
	Название полуострова: <u>Итальянский полуостров</u>

	Название полуострова: <u>Иберийский полуостров</u> Название типичных ландшафтов: <hr/>
	Название полуострова: <hr/> Название типичных ландшафтов: <hr/>

10. На территории какого субъекта РФ находится крайняя южная точка РФ? С каким государством здесь проходит государственная граница РФ?

Ответ: Субъект: Чукотский и-о (0,5 б.)

Государство: США (0,5 б.)

11. Выберите второй по численности этнос в России:

А) белорусы Б) украинцы В) татары Г) башкиры

12. На каком материке или в каком океане находится точка с координатами 40°с.ш. 100°з.д.?

А) Евразия Б) Тихий океан В) Северная Америка Г) Южная Америка

13. Этот ветер характерен для небольших районов, где не очень высокие горы расположены рядом с морем. Сильный, холодный, порывистый местный ветер, возникает когда поток холодного воздуха встречает на своём пути преграду в виде гор, преодолев которую, он с огромной силой обрушивается на побережье. Назовите этот ветер.

А) фён Б) сирокко В) бора Г) самум

14. Какая крайняя материковая точка России имеет западную долготу?

А) западная Б) восточная В) северная Г) южная

15. Выберите самый северный город-миллионер:

А) Берлин Б) Нью-Йорк В) Москва Г) Санкт-Петербург

ВСЕГО ЗА ТЕСТОВЫЙ ТУР – 15 БАЛЛОВ

ИТОГО 50 БАЛЛОВ

Тридцатисеве
 Члены жюри: Смирнова Е.Н. [подпись]
 Туркина Л.А. [подпись]
 Стаценко С.Н. [подпись]
 Лапина А.А. [подпись]
 Горюхино С.Т. [подпись]
 Озер О.И. [подпись]

Теоретический тур

Задание 1

Монгольские народы или монголы - группа родственных народов, говорящих на монгольских языках и тесно связанных общей многовековой историей, культурой, традициями и обычаями. Населяют север КНР, Монголию и регионы Российской Федерации. Один из этих народов живёт на востоке страны, а другой – в европейской части России. Назовите оба народа, религию.

05

КОЛИЧЕСТВО БАЛЛОВ - 5

Задание 2

Заполните свободные графы в таблице, в которой дана характеристика некоторых бассейнов или месторождений минерального сырья в России


№	Описание добываемого ресурса или месторождения добычи	Название месторождения (бассейна)	Вид добываемого ресурса	Субъекты РФ
1.		Самотлорское	Нефть	
2.	Крупнейший по запасам этого сырья бассейн в мире. По разведанным запасам богатых руд уступает только перспективному Эль Мутуну (Боливия). История открытия связана с необычным поведением магнитной стрелки. Среди месторождений бассейна Стойленское, Михайловское и др.			
3.	Этот Центрально-Сибирский бассейн обладает наиболее значительными запасами данного энергетического ресурса, добываемого открытым способом.			
4.	Это месторождение расположено в 30 километрах южнее железнодорожной станции Новая Чара на хребте, который дал название и месторождению. Крупнейшее в стране и третье в мире по запасам этого цветного металла (около 24,6 млн. т). Ведется подготовка к промышленному освоению		медь	

0,50

КОЛИЧЕСТВО БАЛЛОВ - 8

Задание 3

В гавань заходят 5 кораблей. По описанию флагов определите, из каких они государств.



Австралия

Бразилия

Греция

Швеция

Канада

45

КОЛИЧЕСТВО БАЛЛОВ - 5

Задание 4

В 1906 году вышла в свет книга Григория Де-Воллана, посвящённая этой стране. Прочтите некоторые отрывки из этой книги и определите, 1) о какой стране идёт речь. 2) Назовите её столицу. 3) Какие природные особенности этой страны Вам известны?

«...Архипелаг тянется, наподобие виноградной лозы, тремя красивыми фестонами вдоль берегов Сибири и северного Китая. Две трети поверхности заняты горами. Климат является отражением климатических условий соседнего материка, в котором преобладает жаркое влажное лето и холодная ясная зима. Эти условия умеряются морем., так что мы получаем более прохладное лето и более мягкую зиму вместе с большей влажностью, чем на материке. Влажный климат способствует роскошному развитию природы, которая, рядом с субтропическими растениями, бамбуками, пальмами, лаврами, камелиями, даёт хвойные и лиственные породы крайнего севера. Обильные летом дожди также дают возможность земледельцу на юге собирать две жатвы. Среди земледельческих продуктов рис занимает первое место. Следующими источниками доходов являются чай, хлопок, шёлк, сахар и т.д. Рыбный промысел, наряду с земледелием, играет большую роль...».

1) Япония

2) Токио

35

КОЛИЧЕСТВО БАЛЛОВ - 10

Задание 5

4. Определить по описанию субъект РФ:

Регион входит в состав Северо-Западного федерального округа. Рельеф равнинный, холмистый, с ледниковыми формами (моренные гряды, озы, камы). Климат мягкий с обилием осадков, меняется от морского к умеренно-континентальному. Зима снежная, прохладная, но обычно без сильных морозов, если морозы наступают, то только на несколько дней. Лето непродолжительное и тёплое, с большим количеством осадков. В регионе имеется 175 месторождений 24-х видов полезных ископаемых. Активно добываются слюда, полевой шпат, кварц, облицовочный камень, а также разнообразные

строительные материалы - граниты, диабазы, мраморы. Встречаются золото, серебро, алмазы, редкоземельные металлы. Разрабатываются месторождения железной руды, титана, ванадия, молибдена. Разведаны месторождения урановых руд. Преобладают хвойные леса, к северу — сосновые, южнее — и сосновые, и еловые. Основные хвойные породы: сосна обыкновенная и ель обыкновенная.

Ответ: _____.

КОЛИЧЕСТВО БАЛЛОВ - 7

ВСЕГО ЗА ТЕОРЕТИЧЕСКИЙ ТУР – 35 БАЛЛОВ

Тестовый тур

Выберите правильный ответ

1. Какой полуостров изображён на космическом снимке?



Ответ: Индустан

2. Какая из перечисленных равнин имеет наибольшую площадь?

- А) Восточно-Европейская равнина
- Б) Западно-Сибирская низменность
- В) Амазонская низменность
- Г) Великие равнины

15

3. Примером рационального природопользования является?

- А) добыча полезных ископаемых открытым способом в зоне степей
- Б) сплавление леса по рекам в таежной зоне
- В) распашка склонов в горных районах
- Г) создание защитных лесополос в зоне степей

15

15

4. Выберите строчку, где перечислены города России - центры льняной промышленности:

- А) Мурманск, Архангельск, Москва, Санкт-Петербург
- Б) Иваново, Шуя, Псков, Кострома
- В) Шуя, Вологда, Ярославль, Кострома
- Г) Псков, Вологда, Кострома, Великие Луки

15

5. Продолжительность светового дня 23 сентября на Северном полярном круге составляет:

- А) 0 ч Б) 12 ч В) 24 ч Г) 6 ч

6. Расставьте по убыванию численности населения: А), Б), В), Г)

- 1 А) Калининград 2 Б) Черняховск 4 В) Гусев 3 Г) Советск

7. Для какого из перечисленных регионов характерны формы рельефа, созданные деятельностью ледника?

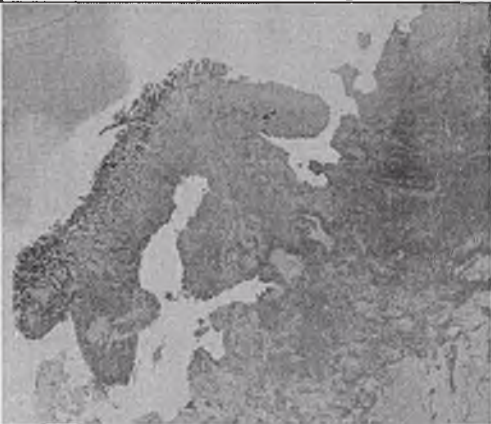

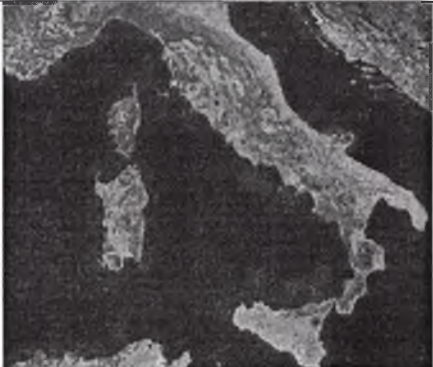
- А) Приморский край Б) Республика Татарстан
В) Новосибирская область Г) Республика Карелия

8. Выберите реку, впадающую в Каспийское море:

- А) Днепр; Б) Неман; В) Волга; Г) Печора.

9. Установите соответствие между изображением полуострова и типичными ландшафтами на фото. Подпишите названия полуостровов:

Ландшафты: тайга, пустыня, средиземноморские жестколистные леса и кустарники.

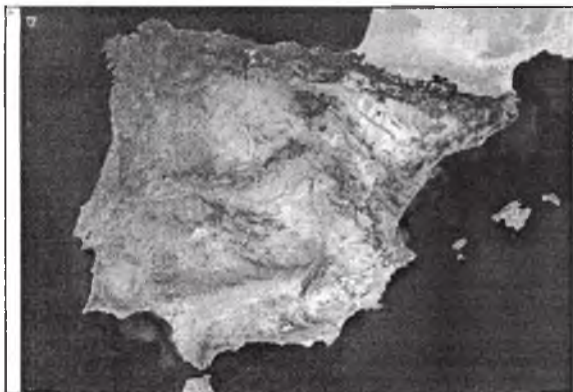
	Название полуострова: _____ Название типичных ландшафтов: _____
	Название полуострова: _____ Название типичных ландшафтов: _____
	Название полуострова: _____ Название типичных ландшафтов: _____

15

05

15

15



Название полуострова:

Название типичных ландшафтов:



Название полуострова:

Название типичных ландшафтов:

10. На территории какого субъекта РФ находится крайняя южная точка РФ? С каким государством здесь проходит государственная граница РФ?

Ответ: Субъект: Башкортостан (0,5 б.)

Государство: Казахстан (0,5 б.)

11. Выберите второй по численности этнос в России:

А) белорусы Б) украинцы В) татары Г) башкиры

12. На каком материке или в каком океане находится точка с координатами 40°с.ш. 100°з.д.?

А) Евразия Б) Тихий океан В) Северная Америка Г) Южная Америка

13. Этот ветер характерен для небольших районов, где не очень высокие горы расположены рядом с морем. Сильный, холодный, порывистый местный ветер, возникает когда поток холодного воздуха встречает на своём пути преграду в виде гор, преодолев которую, он с огромной силой обрушивается на побережье. Назовите этот ветер.

А) фён Б) сирокко В) бора Г) самум

14. Какая крайняя материковая точка России имеет западную долготу?

А) западная Б) восточная В) северная Г) южная

15. Выберите самый северный город-миллионер:

А) Берлин Б) Нью-Йорк В) Москва Г) Санкт-Петербург

ВСЕГО ЗА ТЕСТОВЫЙ ТУР – 15 БАЛЛОВ

ИТОГО 50 БАЛЛОВ

Председатель жюри: Ситенькая И.И. *Ситенькая*

Члены жюри: Турская Л.А. *Турская*
Стаценко С.И. *Стаценко*
Лаевко А.А. *Лаевко*
Коржавина С.Т. *Коржавина*
Озер С.И. *Озер*

215