

Всероссийская олимпиада школьников по географии 2021 -2022.

Школьный этап. 10-11 класс

Теоретический тур

Задание 1

Запасы этого минерального природного ресурса в Калининградской области оцениваются более чем в 3 млрд. тонн, разведано 281 месторождения. Этот минеральный ресурс может служить и как топливо, и как минеральное удобрение. Добыча его ведётся в основном в Нестеровском и Полесском районах области. Иногда его теплотворная способность достигает 5000 кКал, хотя с 1982 г. использование его как топлива запрещено законом. Этот ресурс поставляется во многие страны Европы. О каком ресурсе идёт речь? Какие проблемы его добычи и использования вы знаете?

Газ. Проблемы вред природе из-за добычи более эффективен в качестве топлива. 2,5

КОЛИЧЕСТВО БАЛЛОВ – 6

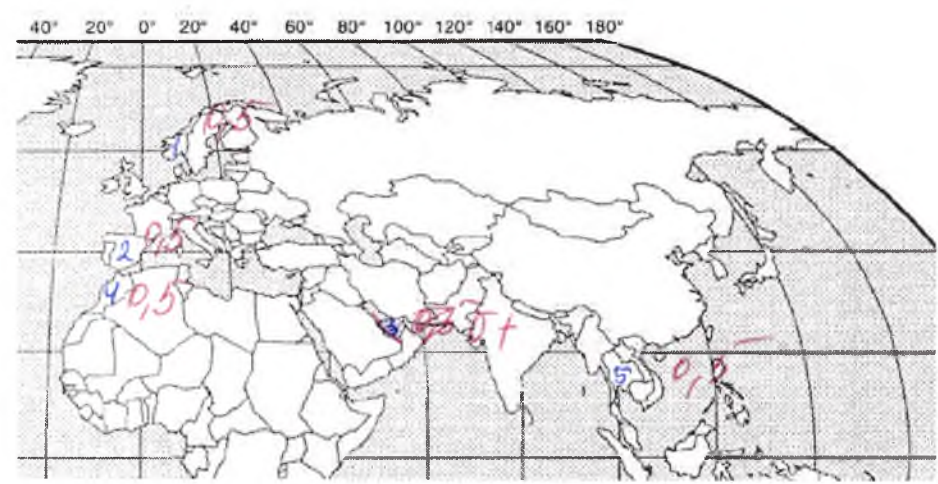
Задание 2

Из представленных государств выберите те, которые являются монархиями, и ответьте на вопросы. Испания, Германия, Италия, Норвегия, Китай, ОАЭ, Франция, Марокко, Египет, Таиланд, Вьетнам.

1. Нанесите выбранные страны на контурную карту.
2. Назовите столицы выбранных государств.
3. Назовите официальные языки выбранных стран.
4. Укажите валюту выбранных государств.
5. В каких из выбранных государств монархия является абсолютной?

Государство	Столица	Официальный язык	Валюта
1 Норвегия 0,4	Осло 0,4	Норвежский 0,4	норвежская крона 0,4
2 Испания 0,4	Мадрид 0,4	испанский 0,4	Евро 0,4
3 ОАЭ 0,4	Абу-Дави 0,4	Арабский 0,4	
4 Марокко 0,4		Арабский 0,4	
5 Таиланд 0,4	Бангкок 0,4	Тайский 0,4	

Абсолютная монархия ОАЭ 0,5



6,45  
3,5  
9,45

КОЛИЧЕСТВО БАЛЛОВ – 11

### Задание 3

На рисунках вы видите 4 сельскохозяйственные культуры, отличающиеся по условиям произрастания, сбора и использованию. Определите эти культуры и заполните таблицу.



№ фото	Культура	Страна – мировой лидер по сбору культуры	Использование культуры
1	хлопок 0,5	Мексика 0,5	лёгкая текстильная промышленность 0,5
2	чай 0,5	Китай 0,5	растительный чай - травяной 0,5
3	шелк 0,5	Китай 0,5	лесная шелководство 0,5

КОЛИЧЕСТВО БАЛЛОВ – 6

### Задание 4

В 1906 году вышла в свет книга Григория Де-Воллана, посвящённая этой стране. Прочтите некоторые отрывки из этой книги и определите, о какой стране идёт речь. Назовите её столицу. «...Архипелаг тянется, наподобие виноградной лозы, тремя красивыми фестонами вдоль берегов Сибири и северного Китая. Две трети поверхности заняты горами. Климат является отражением климатических условий соседнего материка, в котором преобладает жаркое влажное лето и холодная ясная зима. Эти условия умеряются морем..., так что мы получаем более прохладное лето и более мягкую зиму вместе с большей влажностью, чем на материке. Влажный климат способствует роскошному развитию природы, которая, рядом с субтропическими растениями, бамбуками, пальмами, лаврами, камелиями, даёт хвойные и лиственные породы крайнего севера. Обильные летом дожди также дают возможность земледельцу на юге собирать две жатвы. Среди земледельческих продуктов рис занимает первое место. Следующими источниками доходов являются чай, хлопок, шёлк, сахар и т.д. Рыбный промысел, наряду с земледелием, играет большую роль...».

Каковы особенности современного хозяйства этой страны?

Япония - Япония 0,5  
 Страна из самых передовых стран мира, основное  
 отрасли - электроника, автомобилестроение 1,0

3,5

Какие традиции, специфические черты национальной культуры этой страны Вы можете назвать?

Самодельность культуры, иерархичность общества, муромские пословицы.

0,5

Какие причины обусловили формирование и сохранение культурного феномена этой страны?

Традиционность, изоляция, традиции митичности, культурная близость с Китаем.

10

2,50

КОЛИЧЕСТВО БАЛЛОВ – 5

### Задание 5

Ниже представлены фотографии достопримечательностей России. Определите эти достопримечательности. Заполните таблицу, указав № фотографии, местоположение достопримечательности




1



2



3



4



5



6



7

№ фото	Название	Особенность	Местоположение
2	Эльбрус 0,5	Самая высокая вершина России	Субъект РФ: 05 Горная система: Кавказ
		Комплекс из семи столбов выветривания высотой от 30 до 42 м	Субъект РФ: Калужская область 05 Заповедник:
1	Долина гейзеров Камчатка 0,5	Основа драматичных панорам заповедника - пышущие гейзеры, бурлящие и взрывающиеся сокрушительными потоками воды и пара.	Субъект РФ: Камчатский край 05 Заповедник:
3	Байкал 0,5	Озеро тектонического происхождения, самое глубокое на планете	Субъект РФ: Иркутская обл. 05
6	Кул-Шариф 0,5	Главная соборная джума-мечеть республики и города, одна из главных достопримечательностей.	Субъект РФ: Татарстан Город: Казань 0,5
5		древнейшая часть, ядро города, по данным археологов, существующее с X века. Расположен в излучине реки Каменки, в южной части города	Субъект РФ: Город: 05
4		Один из крупнейших в России и один из самых значительных в	Субъект РФ: Московская область

7	Балльный максимум 0,5	мире театров оперы и балета. Это объект культурного наследия народов России федерального значения.	Город: Косиха 0,5
---	--------------------------	--	----------------------

3,50

КОЛИЧЕСТВО БАЛЛОВ – 7  
ВСЕГО ЗА ТЕОРЕТИЧЕСКИЙ ТУР – 35 БАЛЛОВ

### Тестовый тур

Выберите правильный ответ, в ответе на вопрос 6 запишите буквы ответов в указанном порядке

1. В пустынях редкая растительность, потому что:

- А) они расположены около экватора;
- Б) в этих районах выпадает очень мало осадков;
- В) эти районы расположены внутри материков;
- Г) рельеф местности имеет много неровностей;

2. Какая из перечисленных равнин имеет наибольшую площадь?

- А) Восточно-Европейская равнина
- Б) Западно-Сибирская низменность
- В) Амазонская низменность
- Г) Великие равнины

3. Расположите объекты по их географическому положению с запада на восток:

- а) пустыня Сахара
- б) Атлантический океан
- в) г. Анды
- г) о. Новая Зеландия

4. Выберите строчку, где перечислены города России - центры льняной промышленности:

- А) Мурманск, Архангельск, Москва, Санкт-Петербург
- Б) Иваново, Шуя, Псков, Кострома
- В) Шуя, Вологда, Ярославль, Кострома
- Г) Псков, Вологда, Кострома, Великие луки

5. Продолжительность светового дня 23 сентября на Северном полярном круге составляет:

- А) 0 ч
- Б) 12 ч
- В) 24 ч
- Г) 6 ч

6. Расположите страны, в порядке увеличения длины их береговой линии:

- А) Норвегия
- Б) Россия
- В) Япония
- Г) Канада

7. В какой из перечисленных стран есть приливные электростанции?

- А) Болгария
- Б) Франция
- В) Италия
- Г) Испания

8. Определить город, чье описание и фотографии приведены в тексте:



Город был заложен в 1583 г. по указу Ивана Грозного на правом берегу Северной Двины. Это первый крупный морской порт Русского государства. В конце XIX – начале XX веков крупный лесопромышленный и лесоэкспортный центр России. Город играл большую роль в освоении Арктики и Северного морского пути. В настоящее время в этом населенном пункте сосредоточены предприятия лесопромышленной, целлюлозно-бумажной, рыбной промышленности и машиностроения. Это областной центр с населением около 350 тыс. человек.

Ответ: Косиха

9. Выберите страну – крупнейшего производителя стали в мире:

- А) Россия      Б) США      В) Китай      Г) Япония

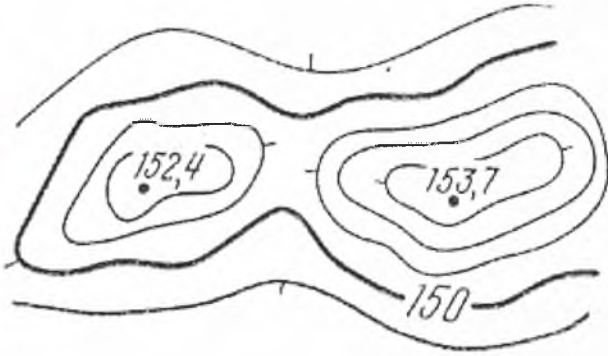
10. В каком субъекте РФ ведется добыча калийных солей?

- А) Мурманская область      Б) Пермский край  
В) Челябинская область      Г) Астраханская область

11. Выберите второй по численности этнос в России:

- А) белорусы      Б) украинцы      В) татары      Г) башкиры

12. Какая форма рельефа изображена?



- А) Котловина      Б) Овраг      В) Седловина  
Г) Вершина      Д) Хребет      Е) Лощина

13. Что является главной чертой географического положения Северо-Западного района (указать правильный ответ):

- А) Положение в пределах Русской равнины      Б) Приморское положение  
В) Бывшее столичное положение      Г) Окраинное положение

14. Политически независимыми государствами называются (выбрать правильный ответ):

- А) колонии;      Б) метрополии;      В) суверенные;      Г) «ключевые страны»

15. Международная организация МАГАТЭ занимается вопросами (выбрать правильное утверждение):

- А) развития атомной энергетики;      Б) экспорта нефти;  
В) развития чёрной и цветной металлургии;      Г) рыбной промышленности.

ВСЕГО ЗА ТЕСТОВЫЙ ТУР – 15 БАЛЛОВ

ИТОГО 50 БАЛЛОВ

60

Председатель: Семеновский П.И.  
Члены жюри: Пирсеев И.А.  
Лавинко И.А.  
Овчинников О.В.  
Коржавин С.В.  
Степанов С.В.

Список

240

**Всероссийская олимпиада школьников по географии 2021 -2022.**  
**Школьный этап. 10-11 класс**  
**Теоретический тур**

**Задание 1**

Запасы этого минерального природного ресурса в Калининградской области оцениваются более чем в 3 млрд. тонн, разведано 281 месторождения. Этот минеральный ресурс может служить и как топливо, и как минеральное удобрение. Добыча его ведётся в основном в Нестеровском и Полесском районах области. Иногда его теплотворная способность достигает 5000 кКал, хотя с 1982 г. использование его как топлива запрещено законом. Этот ресурс поставляется во многие страны Европы. О каком ресурсе идёт речь? Какие проблемы его добычи и использования вы знаете?

Торф.

2,5

**КОЛИЧЕСТВО БАЛЛОВ – 6**

**Задание 2**

Из представленных государств выберите те, которые являются монархиями, и ответьте на вопросы. Испания, Германия, Италия, Норвегия, Китай, ОАЭ, Франция, Марокко, Египет, Таиланд, Вьетнам.

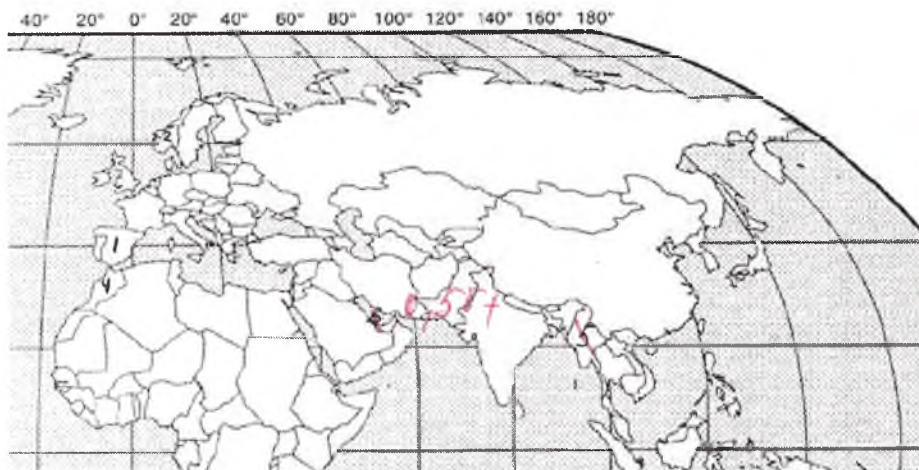
1. Нанесите выбранные страны на контурную карту.
2. Назовите столицы выбранных государств.
3. Назовите официальные языки выбранных стран.
4. Укажите валюту выбранных государств.
5. В каких из выбранных государств монархия является абсолютной?

Государство	Столица	Официальный язык	Валюта
1 Испания 0,4	Мадрид 0,4	испанский 0,4	Евро
2 Норвегия 0,4	Осло 0,4	Норвежский 0,4	
3 ОАЭ 0,4	Абу-Даби 0,4	Арабский 0,4	
4 Марокко 0,4		Арабский 0,4	
5 Таиланд 0,4	Банкок 0,4	Тайский 0,4	

5,6

Абсолютная монархия ОАЭ

0,5



0,5  
0,5  
0,5  
0,5

2,5

8,1

**КОЛИЧЕСТВО БАЛЛОВ – 11**

### Задание 3

На рисунках вы видите 4 сельскохозяйственные культуры, отличающиеся по условиям произрастания, сбора и использованию. Определите эти культуры и заполните таблицу.



№ фото	Культура	Страна – мировой лидер по сбору культуры	Использование культуры
1	хлопок 0,5	Индия	чёрная ткань и крафт 0,5
2	чай 0,5	Китай 0,5	заготовка
3	горох	Канада	заготовка 0
4			

20

КОЛИЧЕСТВО БАЛЛОВ – 6

### Задание 4

В 1906 году вышла в свет книга Григория Де-Воллана, посвящённая этой стране. Прочтите некоторые отрывки из этой книги и определите, о какой стране идёт речь. Назовите её столицу. «...Архипелаг тянется, наподобие виноградной лозы, тремя красивыми фестонами вдоль берегов Сибири и северного Китая. Две трети поверхности заняты горами. Климат является отражением климатических условий соседнего материка, в котором преобладает жаркое влажное лето и холодная ясная зима. Эти условия умеряются морем..., так что мы получаем более прохладное лето и более мягкую зиму вместе с большей влажностью, чем на материке. Влажный климат способствует роскошному развитию природы, которая, рядом с субтропическими растениями, бамбуками, пальмами, лаврами, камелиями, даёт хвойные и лиственные породы крайнего севера. Обильные летом дожди также дают возможность земледельцу на юге собирать две жатвы. Среди сельскохозяйственных продуктов рис занимает первое место. Следующими источниками доходов являются чай, хлопок, шёлк, сахар и т.д. Рыбный промысел, наряду с земледелием, играет большую роль...».

Каковы особенности современного хозяйства этой страны?

Япония, электротехника, машиностроение 10  
0,5



Какие традиции, специфические черты национальной культуры этой страны Вы можете назвать? самобытность традиций

00

Какие причины обусловили формирование и сохранение культурного феномена этой страны? соблюдение традиций  
передается из поколения в поколение

00

1,50

КОЛИЧЕСТВО БАЛЛОВ – 5

Задание 5

Ниже представлены фотографии достопримечательностей России. Определите эти достопримечательности. Заполните таблицу, указав № фотографии, местоположение достопримечательности




1



2



3



4



5



6



7

№ фото	Название	Особенность	Местоположение
2	Эльбрус <span style="color: red;">0,5</span>	Самая высокая вершина России	Субъект РФ: Горная система: Кавказ <span style="color: red;">0,5</span>
1	Долина гейзеров <span style="color: red;">0,5</span>	Комплекс из семи столбов выветривания высотой от 30 до 42 м	Субъект РФ: Камчатский край <span style="color: red;">0,5</span> Заповедник:
1	Долина гейзеров <span style="color: red;">0,5</span>	Основа драматичных панорам заповедника - пышущие гейзеры, бурлящие и взрывающиеся сокрушительными потоками воды и пара.	Субъект РФ: Камчатский край <span style="color: red;">0,5</span> Заповедник:
3	Байкал <span style="color: red;">0,5</span>	Озеро тектонического происхождения, самое глубокое на планете	Субъект РФ: Иркутская обл. <span style="color: red;">0,5</span>
6	Кул-Шариф <span style="color: red;">0,5</span>	Главная соборная джума-мечеть республики и города, одна из главных достопримечательностей.	Субъект РФ: Татарстан <span style="color: red;">0,5</span> Город: КАЗАНЬ <span style="color: red;">0,5</span>
5		древнейшая часть, ядро города, по данным археологов, существующее с X века. Расположен в излучине реки Каменки, в южной части города	Субъект РФ: Город: <span style="color: red;">0,5</span>
7	Большой театр <span style="color: red;">0,5</span>	Один из крупнейших в России и один из самых значительных в	Субъект РФ: Московская обл. <span style="color: red;">0,5</span>

	мире театров оперы и балета. Это объект культурного наследия народов России федерального значения.	Город: Москва
--	--	------------------

0,5

3,50

**КОЛИЧЕСТВО БАЛЛОВ – 7**  
ВСЕГО ЗА ТЕОРЕТИЧЕСКИЙ ТУР – 35 БАЛЛОВ

**Тестовый тур**

Выберите правильный ответ, в ответе на вопрос б запишите буквы ответов в указанном порядке

**1. В пустынях редкая растительность, потому что:**

- А) они расположены около экватора;
- Б) в этих районах выпадает очень мало осадков;
- В) эти районы расположены внутри материков;
- Г) рельеф местности имеет много неровностей;

**2. Какая из перечисленных равнин имеет наибольшую площадь?**

- А) Восточно-Европейская равнина
- Б) Западно-Сибирская низменность
- В) Амазонская низменность
- Г) Великие равнины

**3. Расположите объекты по их географическому положению с запада на восток:**

- а) пустыня Сахара      б) Атлантический океан      в) г. Анды      г) о. Новая Зеландия

**4. Выберите строчку, где перечислены города России - центры льняной промышленности:**

- А) Мурманск, Архангельск, Москва, Санкт-Петербург
- Б) Иваново, Шуя, Псков, Кострома
- В) Шуя, Вологда, Ярославль, Кострома
- Г) Псков, Вологда, Кострома, Великие луки

**5. Продолжительность светового дня 23 сентября на Северном полярном круге составляет:**

- А) 0 ч      Б) 12 ч      В) 24 ч      Г) 6 ч

**6. Расположите страны, в порядке увеличения длины их береговой линии:**

- А) Норвегия      Б) Россия      В) Япония      Г) Канада

**7. В какой из перечисленных стран есть приливные электростанции?**

- А) Болгария      Б) Франция      В) Италия      Г) Испания

**8. Определить город, чье описание и фотографии приведены в тексте:**



Город был заложен в 1583 г. по указу Ивана Грозного на правом берегу Северной Двины. Это первый крупный морской порт Русского государства. В конце XIX – начале XX веков крупный лесопромышленный и лесозэкспортный центр России. Город играл большую роль в освоении Арктики и Северного морского пути. В настоящее время в этом населенном пункте сосредоточены предприятия лесобработывающей, целлюлозно-бумажной, рыбной промышленности и машиностроения. Это областной центр с населением около 350 тыс. человек.

Ответ: Архангельск

9. Выберите страну – крупнейшего производителя стали в мире:

- А) Россия      Б) США       В) Китай      Г) Япония

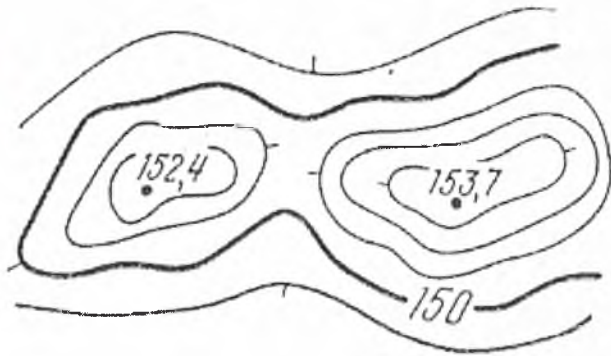
10. В каком субъекте РФ ведется добыча калийных солей?

- А) Мурманская область      Б) Пермский край  
В) Челябинская область       Г) Астраханская область

11. Выберите второй по численности этнос в России:

- А) белорусы      Б) украинцы       В) татары      Г) башкиры

12. Какая форма рельефа изображена?



- А) Котловина      Б) Овраг      В) Седловина  
Г) Вершина       Д) Хребет      Е) Лощина

13. Что является главной чертой географического положения Северо-Западного района (указать правильный ответ):

- А) Положение в пределах Русской равнины      Б) Приморское положение  
В) Бывшее столичное положение      Г) Окраинное положение

14. Политически независимыми государствами называются (выбрать правильный ответ):

- А) колонии;      Б) метрополии;       В) суверенные;      Г) «ключевые страны»

15. Международная организация МАГАТЭ занимается вопросами (выбрать правильное утверждение):

- А) развития атомной энергетики;      Б) экспорта нефти;  
В) развития чёрной и цветной металлургии;      Г) рыбной промышленности.

ВСЕГО ЗА ТЕСТОВЫЙ ТУР – 15 БАЛЛОВ

ИТОГО 50 БАЛЛОВ

Секретарь: Т.К. Гусева

95

Председатель:

Пирсеев А.А. А  
Лавренко А.А. А  
Коржавин С.Р. А  
Овчаров О.В. А  
Степанов С.Н. А

Члены жюри:

268