

Всероссийская олимпиада школьников по географии 2021 -2022.

Школьный этап. 10-11 класс

Теоретический тур

Задание 1

Запасы этого минерального природного ресурса в Калининградской области оцениваются более чем в 3 млрд. тонн, разведано 281 месторождения. Этот минеральный ресурс может служить и как топливо, и как минеральное удобрение. Добыча его ведётся в основном в Нестеровском и Полесском районах области. Иногда его теплотворная способность достигает 5000 кКал, хотя с 1982 г. использование его как топлива запрещено законом. Этот ресурс поставляется во многие страны Европы. О каком ресурсе идёт речь? Какие проблемы его добычи и использования вы знаете?

Идёт речь о газе. Проблемы при добыче и использовании:
 • Не полностью используемые месторождения
 • Проблемы с безопасностью при добыче и использовании
 • Проблемы с использованием
 • Проблемы с безопасностью при использовании
 • Проблемы с безопасностью при использовании

КОЛИЧЕСТВО БАЛЛОВ – 6

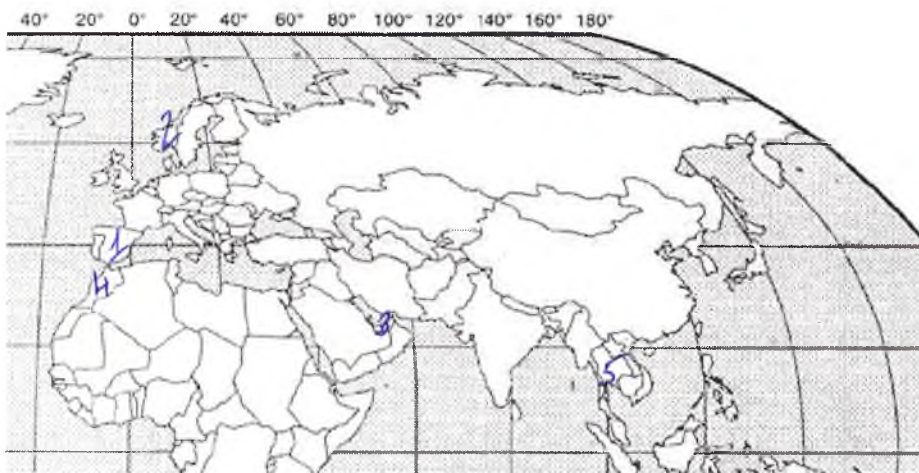
Задание 2

Из представленных государств выберите те, которые являются монархиями, и ответьте на вопросы. Испания, Германия, Италия, Норвегия, Китай, ОАЭ, Франция, Марокко, Египет, Таиланд, Вьетнам.

1. Нанесите выбранные страны на контурную карту.
2. Назовите столицы выбранных государств.
3. Назовите официальные языки выбранных стран.
4. Укажите валюту выбранных государств.
5. В каких из выбранных государств монархия является абсолютной?

Государство	Столица	Официальный язык	Валюта
1. Германия 0,4	Берлин 0,4	Немецкий 0,4	Евро 0,4
2. Норвегия 0,4	Осло 0,4	Норвежский 0,4	Норвежская крона 0,4
3. ОАЭ 0,4	Абу-Дави 0,4	Арабский 0,4	Дирхам ОАЭ 0,4
4. Марокко 0,4	Рабат 0,4	Арабский 0,4	Марокканский дирхам 0,4
5. Таиланд 0,4	Бангкок 0,4	Тайский 0,4	Тайский бат 0,4

Абсолютная монархия ОАЭ



0,5
0,5
0,5
0,5
0,5

КОЛИЧЕСТВО БАЛЛОВ – 11

Какие традиции, специфические черты национальной культуры этой страны Вы можете назвать?

Матрешка к японским традициям относятся: чайная церемония, самурайские мимими, особенно гостеприимство, ишикет и бьякока, похребельский огури,

0,5

Какие причины обусловили формирование и сохранение культурного феномена этой страны?

Из японцев формировались особенно сильные рыцарские устои, тогда как все население и особенно восточные и западные. Также развиты и другие традиции, такие как искусство чайной церемонии и др. Японцы и чувствуют себя гордыми отивляя себя в культуре. Японцы в Японии и в мире живут в культуре. Японцы очень ценят традиции, которые передаются из поколения в поколение.


1,55

15

КОЛИЧЕСТВО БАЛЛОВ – 5

Задание 5

Ниже представлены фотографии достопримечательностей России. Определите эти достопримечательности. Заполните таблицу, указав № фотографии, местоположение достопримечательности



1

2

3

4



5



6



7

№ фото	Название	Особенность	Местоположение
2	Эльбрус 0,5	Самая высокая вершина России	Субъект РФ: Кабардино-Балкария 0 Горная система: Большой Кавказ
4	Столбы выветривания 0	Комплекс из семи столбов выветривания высотой от 30 до 42 м	Субъект РФ: Свердловская область 0 Заповедник: Мамы-Куршумер
1	Долина гейзеров 0,5	Основа драматичных панорам заповедника - пышущие гейзеры, бурлящие и взрывающиеся сокрушительными потоками воды и пара.	Субъект РФ: Камчатская область Заповедник: Кроносский 0,5
3	Озеро Байкал 0,5	Озеро тектонического происхождения, самое глубокое на планете	Субъект РФ: Респ. Бурятия 0
6	Цитадель 0,5	Главная соборная джума-мечеть республики и города, одна из главных достопримечательностей.	Субъект РФ: Татарстан 0,5 Город: Казань
5	Султанская крепость 0,5	древнейшая часть, ядро города, по данным археологов, существующее с X века. Расположен в излучине реки Каменки, в южной части города	Субъект РФ: Султанская область 0,5 Город: Суздаль
7	Большая мечеть 0,5	Один из крупнейших в России и один из самых значительных в	Субъект РФ: Московская область 0,5

	мире театров оперы и балета. Это объект культурного наследия народов России федерального значения.	Город: <i>Москва</i>
--	--	-------------------------

105.

КОЛИЧЕСТВО БАЛЛОВ – 7
ВСЕГО ЗА ТЕОРЕТИЧЕСКИЙ ТУР – 35 БАЛЛОВ

Тестовый тур

Выберите правильный ответ, в ответе на вопрос б запишите буквы ответов в указанном порядке

1. В пустынях редкая растительность, потому что:

- А) они расположены около экватора;
- 1* Б) в этих районах выпадает очень мало осадков;
- В) эти районы расположены внутри материков;
- Г) рельеф местности имеет много неровностей;

2. Какая из перечисленных равнин имеет наибольшую площадь?

- А) Восточно-Европейская равнина
- Б) Западно-Сибирская низменность
- 1* В) Амазонская низменность
- Г) Великие равнины

3. Расположите объекты по их географическому положению с запада на восток:

- а) пустыня Сахара б) Атлантический океан в) г. Анды г) о. Новая Зеландия
- 0* **В А Б Г**

4. Выберите строчку, где перечислены города России - центры льняной промышленности:

- 0* А) Мурманск, Архангельск, Москва, Санкт-Петербург
- Б) Иваново, Шуя, Псков, Кострома
- Г) Псков, Вологда, Кострома, Великие луки

5. Продолжительность светового дня 23 сентября на Северном полярном круге составляет:

- 1* А) 0 ч Б) 12 ч В) 24 ч Г) 6 ч

6. Расположите страны, в порядке увеличения длины их береговой линии:

- 0* А) Норвегия Б) Россия В) Япония Г) Канада
- В А Г Б**

7. В какой из перечисленных стран есть приливные электростанции?

- 1* А) Болгария Б) Франция В) Италия Г) Испания

8. Определить город, чье описание и фотографии приведены в тексте:



1 Город был заложен в 1583 г. по указу Ивана Грозного на правом берегу Северной Двины. Это первый крупный морской порт Русского государства. В конце XIX – начале XX веков крупный лесопромышленный и лесоэкспортный центр России. Город играл большую роль в освоении Арктики и Северного морского пути. В настоящее время в этом населенном пункте сосредоточены предприятия лесобработывающей, целлюлозно-бумажной, рыбной промышленности и машиностроения. Это областной центр с населением около 350 тыс. человек.

Ответ: *Архангельск*

9. Выберите страну – крупнейшего производителя стали в мире:

- А) Россия Б) США В) Китай Г) Япония

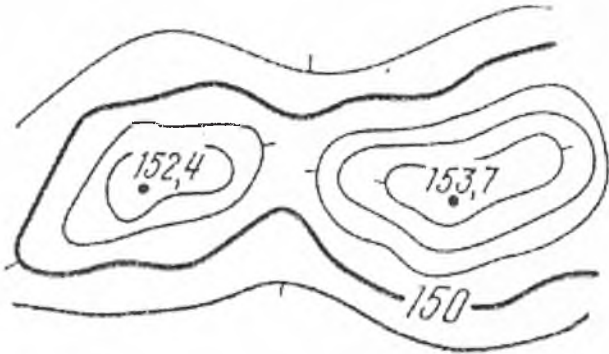
10. В каком субъекте РФ ведется добыча калийных солей?

- А) Мурманская область Б) Пермский край
В) Челябинская область Г) Астраханская область

11. Выберите второй по численности этнос в России:

- А) белорусы Б) украинцы В) татары Г) башкиры

12. Какая форма рельефа изображена?



- А) Котловина Б) Овраг В) Седловина
Г) Вершина Д) Хребет Е) Лощина

13. Что является главной чертой географического положения Северо-Западного района (указать правильный ответ):

- А) Положение в пределах Русской равнины Б) Приморское положение
В) Бывшее столичное положение Г) Окраинное положение

14. Политически независимыми государствами называются (выбрать правильный ответ):

- А) колонии; Б) метрополии; В) суверенные; Г) «ключевые страны»

15. Международная организация МАГАТЭ занимается вопросами (выбрать правильное утверждение):

- А) развития атомной энергетики; Б) экспорта нефти;
В) развития чёрной и цветной металлургии; Г) рыбной промышленности.

ВСЕГО ЗА ТЕСТОВЫЙ ТУР – 15 БАЛЛОВ
ИТОГО 50 БАЛЛОВ

120

Председатели: Смирнов Ю И
Члены жюри: Гирская И И
Лавров А А
Степанов С И
Овчинников О И
Коржавин С И

430

Всероссийская олимпиада школьников по географии 2021 -2022.

Школьный этап. 10-11 класс

Теоретический тур

Задание 1

Запасы этого минерального природного ресурса в Калининградской области оцениваются более чем в 3 млрд. тонн, разведано 281 месторождения. Этот минеральный ресурс может служить и как топливо, и как минеральное удобрение. Добыча его ведётся в основном в Нестеровском и Полесском районах области. Иногда его теплотворная способность достигает 5000 кКал, хотя с 1982 г. использование его как топлива запрещено законом. Этот ресурс поставляется во многие страны Европы. О каком ресурсе идёт речь? Какие проблемы его добычи и использования вы знаете?

Речь идёт о торфе. Проблемы добычи заключаются в нарушении балансов природных комплексов, нарушении зон, нарушении чистоты мест добычи. Проблемы использования заключаются в нечистоте торфа, более глубокой непереработке торфа.

КОЛИЧЕСТВО БАЛЛОВ – 6

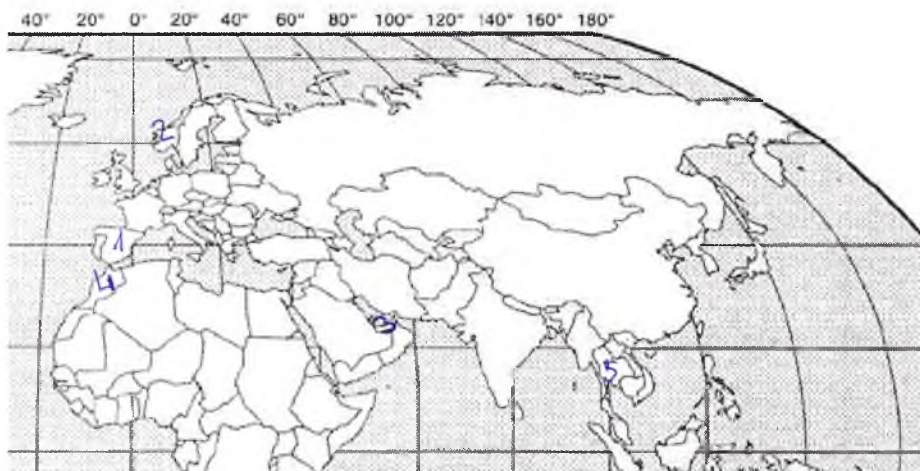
Задание 2

Из представленных государств выберите те, которые являются монархиями, и ответьте на вопросы. Испания, Германия, Италия, Норвегия, Китай, ОАЭ, Франция, Марокко, Египет, Таиланд, Вьетнам.

1. Нанесите выбранные страны на контурную карту.
2. Назовите столицы выбранных государств.
3. Назовите официальные языки выбранных стран.
4. Укажите валюту выбранных государств.
5. В каких из выбранных государств монархия является абсолютной?

Государство	Столица	Официальный язык	Валюта
1. Испания 0,4	Мадрид 0,4	испанский 0,4	евро 0,4
2. Норвегия 0,4	Осло 0,4	норвежский 0,4	норвежская крона 0,4
3. ОАЭ 0,4	Абу-Даби 0,4	арабский 0,4	дирхам ОАЭ 0,4
4. Марокко 0,4	Рабат 0,4	арабский 0,4	марокканский дирхам 0,4
5. Таиланд 0,4	Бангкок 0,4	тайский 0,4	тайский бат 0,4

Абсолютная монархия ОАЭ



0,5
0,5
0,5
0,5
0,5
1,5

КОЛИЧЕСТВО БАЛЛОВ – 11

Задание 3

На рисунках вы видите 4 сельскохозяйственные культуры, отличающиеся по условиям произрастания, сбора и использованию. Определите эти культуры и заполните таблицу.



№ фото	Культура	Страна – мировой лидер по сбору культуры	Использование культуры
1	хлопчатник 0,5	США 0,5	мало войл, целлюлоза, текстиль 0,5
2	зеленый чай 0,5	Япония 0,5	заваривание чая 0,5
3	соя 0,5	США 0,5	кормовые добавки, соевый соус, текстиль 0,5
4	хлопок 0,5	Россия 0,5	производство тканей 0,5

КОЛИЧЕСТВО БАЛЛОВ – 6

Задание 4

В 1906 году вышла в свет книга Григория Де-Воллана, посвящённая этой стране. Прочтите некоторые отрывки из этой книги и определите, о какой стране идёт речь. Назовите её столицу. «...Архипелаг тянется, наподобие виноградной лозы, тремя красивыми фестонами вдоль берегов Сибири и северного Китая. Две трети поверхности заняты горами. Климат является отражением климатических условий соседнего материка, в котором преобладает жаркое влажное лето и холодная ясная зима. Эти условия умеряются морем..., так что мы получаем более прохладное лето и более мягкую зиму вместе с большей влажностью, чем на материке. Влажный климат способствует роскошному развитию природы, которая, рядом с субтропическими растениями, бамбуками, пальмами, лаврами, камелиями, даёт хвойные и лиственные породы крайнего севера. Обильные летом дожди также дают возможность земледельцу на юге собирать две жатвы. Среди сельскохозяйственных продуктов рис занимает первое место. Следующими источниками доходов являются чай, хлопок, шёлк, сахар и т.д. Рыбный промысел, наряду с земледелием, играет большую роль...».

Каковы особенности современного хозяйства этой страны?

Страна Япония 0,5. Особенности: высокая плотность населения, высокая доля обрабатываемых земель, высокая доля обрабатываемых земель, высокая доля обрабатываемых земель, высокая доля обрабатываемых земель. Современное хозяйство: высокие технологии, высокие технологии, высокие технологии. Эта страна: Япония. Столица: Токио.

Какие традиции, специфические черты национальной культуры этой страны Вы можете назвать?

Чайная церемония, семейные ритуалы, особая роль гостеприимства, искусство, а также похлобы, бонсай, японские обряды.

0,50

Какие причины обусловили формирование и сохранение культурного феномена этой страны?

На формирование культуры Японии повлияли древние народы, географическое положение, особая природа. Японцы по культурным особенностям отличаются от других народов, привнося в жизнь новые образы. Японцы очень ценят традиции своей страны, поэтому традиции сохраняются до сих пор.

10 25

КОЛИЧЕСТВО БАЛЛОВ – 5

Задание 5

Ниже представлены фотографии достопримечательностей России. Определите эти достопримечательности. Заполните таблицу, указав № фотографии, местоположение достопримечательности



1



2



3



4



5



6



7

№ фото	Название	Особенность	Местоположение
2	Эльбрус 0,5	Самая высокая вершина России	Субъект РФ: Кавказ Горная система: Большой Кавказ 0
4	Столбы выветривания 0	Комплекс из семи столбов выветривания высотой от 30 до 42 м	Субъект РФ: Северный Урал 0 Заповедник: Магнитогорский
1	Долина гейзеров 0,5	Основа драматичных панорам заповедника - пышущие гейзеры, бурлящие и взрывающиеся сокрушительными потоками воды и пара.	Субъект РФ: Камчатский край Заповедник: Кроноцкий 0,5
3	Озеро Байкал 0,5	Озеро тектонического происхождения, самое глубокое на планете	Субъект РФ: Республика Бурятия 0
6	Куп-Шерип 0,5	Главная соборная джума-мечеть республики и города, одна из главных достопримечательностей.	Субъект РФ: Татарстан Город: Казань 0,5
5	Судздатский Кремль 0,5	древнейшая часть, ядро города, по данным археологов, существующее с X века. Расположен в излучине реки Каменки, в южной части города	Субъект РФ: Судздатская область Город: Судздат 0,5
7	Большой театр 0,5	Один из крупнейших в России и один из самых значительных в	Субъект РФ: Московская область 0,5

9. Выберите страну – крупнейшего производителя стали в мире:

- А) Россия Б) США В) Китай Г) Япония

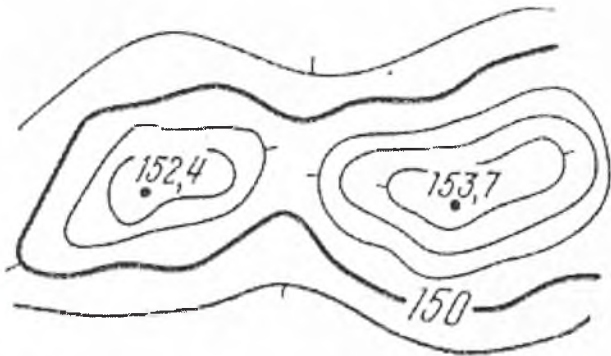
10. В каком субъекте РФ ведется добыча калийных солей?

- А) Мурманская область Б) Пермский край
В) Челябинская область Г) Астраханская область

11. Выберите второй по численности этнос в России:

- А) белорусы Б) украинцы В) татары Г) башкиры

12. Какая форма рельефа изображена?



- А) Котловина Б) Овраг В) Седловина
Г) Вершина Д) Хребет Е) Лощина

13. Что является главной чертой географического положения Северо-Западного района (указать правильный ответ):

- А) Положение в пределах Русской равнины Б) Приморское положение
В) Бывшее столичное положение Г) Окраинное положение

14. Политически независимыми государствами называются (выбрать правильный ответ):

- А) колонии; Б) метрополии; В) суверенные; Г) «ключевые страны»

15. Международная организация МАГАТЭ занимается вопросами (выбрать правильное утверждение):

- А) развития атомной энергетики; Б) экспорта нефти;
В) развития чёрной и цветной металлургии; Г) рыбной промышленности.

ВСЕГО ЗА ТЕСТОВЫЙ ТУР – 15 БАЛЛОВ
ИТОГО 50 БАЛЛОВ

120.

Председатели жюри: Сивилев ЮИ

Члены жюри: Пирская АН В
Станислав СК СФ
Лавинко АА ЮС
Коржавин СГ КОР
Внуков ОИ ОИ

38

Всероссийская олимпиада школьников по географии 2021 -2022.

Школьный этап. 10-11 класс

Теоретический тур

Задание 1

Запасы этого минерального природного ресурса в Калининградской области оцениваются более чем в 3 млрд. тонн, разведано 281 месторождения. Этот минеральный ресурс может служить и как топливо, и как минеральное удобрение. Добыча его ведётся в основном в Нестеровском и Полесском районах области. Иногда его теплотворная способность достигает 5000 кКал, хотя с 1982 г. использование его как топлива запрещено законом. Этот ресурс поставляется во многие страны Европы. О каком ресурсе идёт речь? Какие проблемы его добычи и использования вы знаете?

Газ. Территории, где он добывается часто являются старыми местами добычи калийных, марганцевых балансе природных комплексов; нарушение водозащитных зон и т.д.
В использовании. Несмотря на то, что это ископаемое может использоваться в качестве топлива, его большая ценность в с/х использовании

КОЛИЧЕСТВО БАЛЛОВ – 6

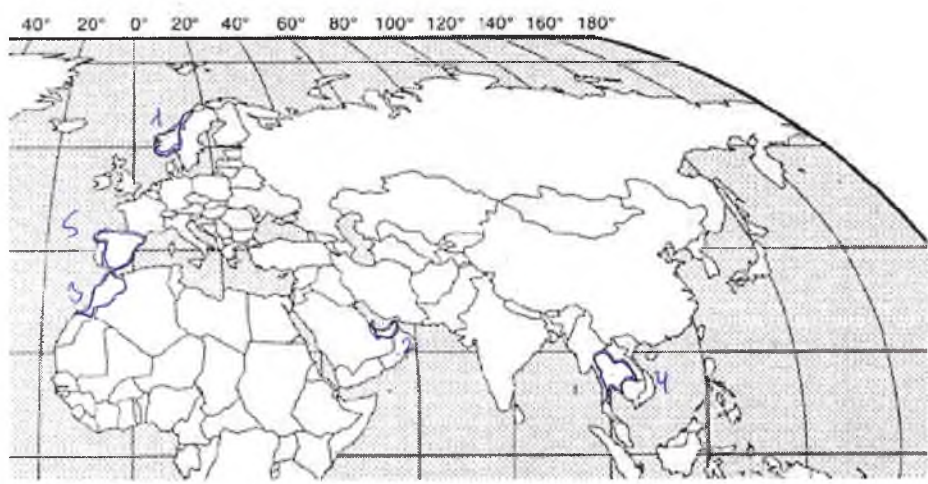
Задание 2

Из представленных государств выберите те, которые являются монархиями, и ответьте на вопросы. Испания, Германия, Италия, Норвегия, Китай, ОАЭ, Франция, Марокко, Египет, Таиланд, Вьетнам.

1. Нанесите выбранные страны на контурную карту.
2. Назовите столицы выбранных государств.
3. Назовите официальные языки выбранных стран.
4. Укажите валюту выбранных государств.
5. В каких из выбранных государств монархия является абсолютной?

Государство	Столица	Официальный язык	Валюта
1 Норвегия 0,4	Осло 0,4	Норвежский 0,4	Норвежская крона 0,4
2 ОАЭ 0,4	Абу-Даби 0,4	Арабский 0,4	Дирхам ОАЭ 0,4
3 Марокко 0,4	Рабат 0,4	Арабский 0,4	Марокканский дирхам 0,4
4 Таиланд 0,4	Бангкок 0,4	Тайский 0,4	Тайский бат 0,4
5 Испания 0,4	Мадрид 0,4	Испанский 0,4	Евро 0,4

Абсолютная монархия ОАЭ 0,5



0,5
0,5
0,5
0,5
0,5
3,5
8,5

КОЛИЧЕСТВО БАЛЛОВ – 11

Задание 3

На рисунках вы видите 4 сельскохозяйственные культуры, отличающиеся по условиям произрастания, сбора и использованию. Определите эти культуры и заполните таблицу.



№ фото	Культура	Страна – мировой лидер по сбору культуры	Использование культуры
1	хлопок 0,5	Индия	пищевые волокна 0,5
2	чай 0,5	Индия	продукт питания
3	горох	Китай	пищевые
4	Грешья 0,5	Россия 0,5	продукт питания 0,5

35

КОЛИЧЕСТВО БАЛЛОВ – 6

Задание 4

В 1906 году вышла в свет книга Григория Де-Воллана, посвящённая этой стране. Прочтите некоторые отрывки из этой книги и определите, о какой стране идёт речь. Назовите её столицу. «...Архипелаг тянется, наподобие виноградной лозы, тремя красивыми фестонами вдоль берегов Сибири и северного Китая. Две трети поверхности заняты горами. Климат является отражением климатических условий соседнего материка, в котором преобладает жаркое влажное лето и холодная ясная зима. Эти условия умеряются морем., так что мы получаем более прохладное лето и более мягкую зиму вместе с большей влажностью, чем на материке. Влажный климат способствует роскошному развитию природы, которая, рядом с субтропическими растениями, бамбуками, пальмами, лаврами, камелиями, даёт хвойные и лиственные породы крайнего севера. Обильные летом дожди также дают возможность земледельцу на юге собирать две жатвы. Среди земледельческих продуктов рис занимает первое место. Следующими источниками доходов являются чай, хлопок, шёлк, сахар и т.д. Рыбный промысел, наряду с земледелием, играет большую роль...».

Каковы особенности современного хозяйства этой страны?

Какие традиции, специфические черты национальной культуры этой страны Вы можете назвать? _____

Какие причины обусловили формирование и сохранение культурного феномена этой страны? _____

01

КОЛИЧЕСТВО БАЛЛОВ – 5

Задание 5

Ниже представлены фотографии достопримечательностей России. Определите эти достопримечательности. Заполните таблицу, указав № фотографии, местоположение достопримечательности



1



2



3



4



5



6



7

№ фото	Название	Особенность	Местоположение
2.	Эльбрус 0,5	Самая высокая вершина России	Субъект РФ: Кабардино-Балкария Горная система: Кавказские горы 0,5
4.	Маньпупунёр 0,5	Комплекс из семи столбов выветривания высотой от 30 до 42 м	Субъект РФ: Республика Коми 0,5 Заповедник: Петро-Ильинский
1.	Долина Гейзеров 0,5	Основа драматичных панорам заповедника - пышущие гейзеры, бурлящие и взрывающиеся сокрушительными потоками воды и пара.	Субъект РФ: Камчатский край 0,5 Заповедник: Кроноцкий государственный заповедник
3.	Байкал 0,5	Озеро тектонического происхождения, самое глубокое на планете	Субъект РФ: Иркутская область 0
6.	Центральная Джума-мечеть 0	Главная соборная джума-мечеть республики и города, одна из главных достопримечательностей.	Субъект РФ: Дагестан 0 Город: Магасканы
5.	Суздальский Кремль 0,5	древнейшая часть, ядро города, по данным археологов, существующее с X века. Расположен в излучине реки Каменки, в южной части города	Субъект РФ: Владимирская обл. 0,5 Город: Суздаль.
7.	Большой театр 0,5	Один из крупнейших в России и один из самых значительных в	Субъект РФ: Московская обл. 0,5

	мире театров оперы и балета. Это объект культурного наследия народов России федерального значения.	Город: <u>Москва.</u>
--	--	--------------------------

5,50

КОЛИЧЕСТВО БАЛЛОВ – 7
ВСЕГО ЗА ТЕОРЕТИЧЕСКИЙ ТУР – 35 БАЛЛОВ

Тестовый тур

Выберите правильный ответ, в ответе на вопрос б запишите буквы ответов в указанном порядке

1. В пустынях редкая растительность, потому что:

- А) они расположены около экватора;
- Б) в этих районах выпадает очень мало осадков;**
- В) эти районы расположены внутри материков;
- Г) рельеф местности имеет много неровностей;

2. Какая из перечисленных равнин имеет наибольшую площадь?

- А) Восточно-Европейская равнина
- Б) Западно-Сибирская низменность
- В) Амазонская низменность**
- Г) Великие равнины

3. Расположите объекты по их географическому положению с запада на восток:

- а) пустыня Сахара **2 б) Атлантический океан** 1 в) г. Анды **4 г) о. Новая Зеландия**

4. Выберите строчку, где перечислены города России - центры льняной промышленности:

- А) Мурманск, Архангельск, Москва, Санкт-Петербург
- Б) Иваново, Шуя, Псков, Кострома
- В) Шуя, Вологда, Ярославль, Кострома
- Г) Псков, Вологда, Кострома, Великие луки**

5. Продолжительность светового дня 23 сентября на Северном полярном круге составляет:

- А) 0 ч **Б) 12 ч** В) 24 ч Г) 6 ч

6. Расположите страны, в порядке увеличения длины их береговой линии:

- А) Норвегия **2 Б) Россия** **3 В) Япония** **4 Г) Канада**

7. В какой из перечисленных стран есть приливные электростанции?

- А) Болгария **Б) Франция** В) Италия Г) Испания

8. Определить город, чье описание и фотографии приведены в тексте:



Город был заложен в 1583 г. по указу Ивана Грозного на правом берегу Северной Двины. Это первый крупный морской порт Русского государства. В конце XIX – начале XX веков крупный лесопромышленный и лесозэкспортный центр России. Город играл большую роль в освоении Арктики и Северного морского пути. В настоящее время в этом населенном пункте сосредоточены предприятия лесобработывающей, целлюлозно-бумажной, рыбной промышленности и машиностроения. Это областной центр с населением около 350 тыс. человек.

Ответ: Архангельск

9. Выберите страну – крупнейшего производителя стали в мире:

- А) Россия Б) США В) Китай Г) Япония

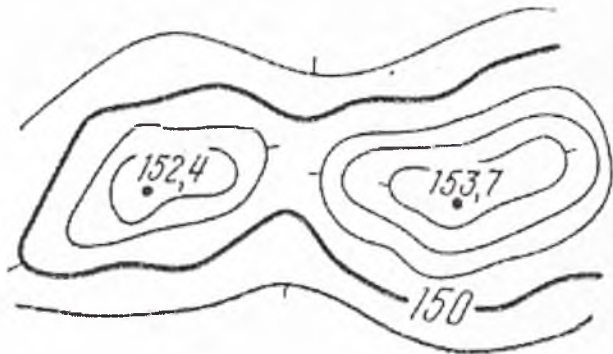
10. В каком субъекте РФ ведется добыча калийных солей?

- А) Мурманская область Б) Пермский край
В) Челябинская область Г) Астраханская область

11. Выберите второй по численности этнос в России:

- А) белорусы Б) украинцы В) татары Г) башкиры

12. Какая форма рельефа изображена?



- А) Котловина Б) Овраг В) Седловина
Г) Вершина Д) Хребет Е) Лощина

13. Что является главной чертой географического положения Северо-Западного района (указать правильный ответ):

- А) Положение в пределах Русской равнины Б) Приморское положение
В) Бывшее столичное положение Г) Окраинное положение

14. Политически независимыми государствами называются (выбрать правильный ответ):

- А) колонии; Б) метрополии; В) суверенные; Г) «ключевые страны»

15. Международная организация МАГАТЭ занимается вопросами (выбрать правильное утверждение):

- А) развития атомной энергетики; Б) экспорта нефти;
В) развития чёрной и цветной металлургии; Г) рыбной промышленности.

ВСЕГО ЗА ТЕСТОВЫЙ ТУР – 15 БАЛЛОВ
ИТОГО 50 БАЛЛОВ

130

Присутители: Семенов ТН

Ученики: Пирсина АА
Кертавина СТ
Лаврова АА
Степанова СК
Кертавина СТ
Овчарова ОО

Всероссийская олимпиада школьников по географии 2021 -2022.
Школьный этап. 10-11 класс
Теоретический тур

Задание 1

Запасы этого минерального природного ресурса в Калининградской области оцениваются более чем в 3 млрд. тонн, разведано 281 месторождения. Этот минеральный ресурс может служить и как топливо, и как минеральное удобрение. Добыча его ведётся в основном в Нестеровском и Полесском районах области. Иногда его теплотворная способность достигает 5000 кКал, хотя с 1982 г. использование его как топлива запрещено законом. Этот ресурс поставляется во многие страны Европы. О каком ресурсе идёт речь? Какие проблемы его добычи и использования вы знаете?

Газ

25

КОЛИЧЕСТВО БАЛЛОВ – 6

Задание 2

Из представленных государств выберите те, которые являются монархиями, и ответьте на вопросы. Испания, Германия, Италия, Норвегия, Китай, ОАЭ, Франция, Марокко, Египет, Таиланд, Вьетнам.

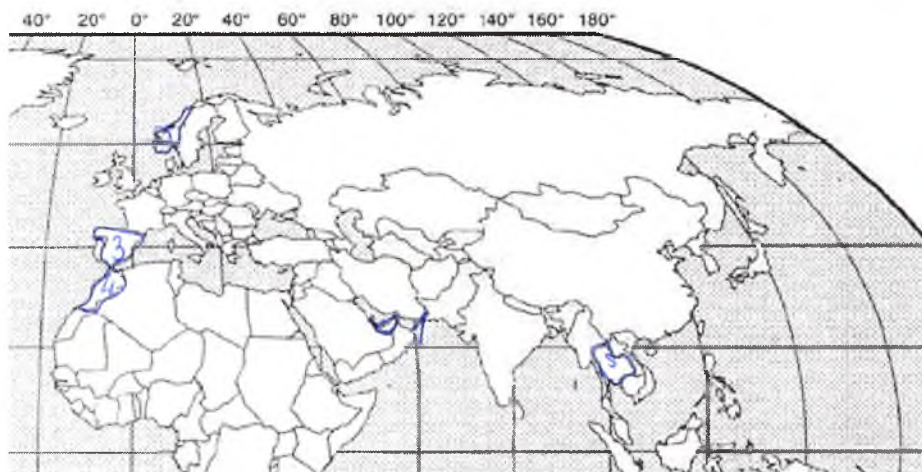
1. Нанесите выбранные страны на контурную карту.
2. Назовите столицы выбранных государств.
3. Назовите официальные языки выбранных стран.
4. Укажите валюту выбранных государств.
5. В каких из выбранных государств монархия является абсолютной?

Государство	Столица	Официальный язык	Валюта
2 Норвегия 0,4	Осло 0,4	Норвежский 0,4	Норвежская крона 0,4
1 ОАЭ 0,4	Абу-Даби 0,4	Арабский 0,4	Дирхам ОАЭ 0,4
4 Марокко 0,4	Рабат 0,4	Арабский 0,4	Марокканский дирхам 0,4
5 Таиланд 0,4	Бангкок 0,4	Тайский 0,4	Тайский бат 0,4
3 Испания 0,4	Мадрид 0,4	Испанский 0,4	Евро 0,4

Абсолютная монархия ОАЭ

0,5

25



0,5
0,5
0,5
0,5
0,5

110

КОЛИЧЕСТВО БАЛЛОВ – 11

Задание 3

На рисунках вы видите 4 сельскохозяйственные культуры, отличающиеся по условиям произрастания, сбора и использованию. Определите эти культуры и заполните таблицу.



№ фото	Культура	Страна – мировой лидер по сбору культуры	Использование культуры
1	Хлопок 0,5	Индия	ткань, нитки одежды 0,5
2	Чай 0,5	Индия	продукт питания
3	Соя	Китай	продукция питания
4	Гришак 0,5	Россия 0,5	продукция питания 0,5

КОЛИЧЕСТВО БАЛЛОВ – 6

Задание 4

В 1906 году вышла в свет книга Григория Де-Воллана, посвящённая этой стране. Прочтите некоторые отрывки из этой книги и определите, о какой стране идёт речь. Назовите её столицу. «...Архипелаг тянется, наподобие виноградной лозы, тремя красивыми фестонами вдоль берегов Сибири и северного Китая. Две трети поверхности заняты горами. Климат является отражением климатических условий соседнего материка, в котором преобладает жаркое влажное лето и холодная ясная зима. Эти условия умеряются морем., так что мы получаем более прохладное лето и более мягкую зиму вместе с большей влажностью, чем на материке. Влажный климат способствует роскошному развитию природы, которая, рядом с субтропическими растениями, бамбуками, пальмами, лаврами, камелиями, даёт хвойные и лиственные породы крайнего севера. Обильные летом дожди также дают возможность земледельцу на юге собирать две жатвы. Среди сельскохозяйственных продуктов рис занимает первое место. Следующими источниками доходов являются чай, хлопок, шёлк, сахар и т.д. Рыбный промысел, наряду с земледелием, играет большую роль...».

Каковы особенности современного хозяйства этой страны?

Какие традиции, специфические черты национальной культуры этой страны Вы можете назвать? _____

Какие причины обусловили формирование и сохранение культурного феномена этой страны? _____

08

КОЛИЧЕСТВО БАЛЛОВ – 5

Задание 5

Ниже представлены фотографии достопримечательностей России. Определите эти достопримечательности. Заполните таблицу, указав № фотографии, местоположение достопримечательности



1



2



3



4



5



6



7

№ фото	Название	Особенность	Местоположение
2	Эльбрус 0,5	Самая высокая вершина России	Субъект РФ: Кавказско-Балкарский Горная система: Кавказские горы 0,5
4	Мамонтунёр 0,5	Комплекс из семи столбов выветривания высотой от 30 до 42 м	Субъект РФ: Республика Коми Заповедник: Железно-Ижмский 0,5
1	Дашта Гейзеров 0,5	Основа драматичных панорам заповедника - пышущие гейзеры, бурлящие и взрывающиеся сокрушительными потоками воды и пара.	Субъект РФ: Камчатка 0,5 Заповедник: Кронцикий Водосветовский
3	Байкал 0,5	Озеро тектонического происхождения, самое глубокое на планете	Субъект РФ: Иркутская область 0
6	Центральная мечеть - минарет 0,5	Главная соборная джума-мечеть республики и города, одна из главных достопримечательностей.	Субъект РФ: Татарстан 0 Город: Казань
5	Судзальский - Кремль 0,5	древнейшая часть, ядро города, по данным археологов, существующее с X века. Расположен в излучине реки Каменки, в южной части города	Субъект РФ: Владимирская область Город: Судзаль 0,5
8	Благовещенский собор 0,5	Один из крупнейших в России и один из самых значительных в	Субъект РФ: Московская область 0,5

7	Большой театр	мире театров оперы и балета. Это объект культурного наследия народов России федерального значения.	Город: Москва
---	---------------	--	------------------

5,50

КОЛИЧЕСТВО БАЛЛОВ – 7
ВСЕГО ЗА ТЕОРЕТИЧЕСКИЙ ТУР – 35 БАЛЛОВ

Тестовый тур

Выберите правильный ответ, в ответе на вопрос б запишите буквы ответов в указанном порядке

1. В пустынях редкая растительность, потому что:

- А) они расположены около экватора;
- Б) в этих районах выпадает очень мало осадков;
- В) эти районы расположены внутри материков;
- Г) рельеф местности имеет много неровностей;

2. Какая из перечисленных равнин имеет наибольшую площадь?

- А) Восточно-Европейская равнина
- Б) Западно-Сибирская низменность
- В) Амазонская низменность
- Г) Великие равнины

3. Расположите объекты по их географическому положению с запада на восток:

- а) пустыня Сахара б) Атлантический океан в) г. Анды г) о. Новая Зеландия

4. Выберите строчку, где перечислены города России - центры льняной промышленности:

- А) Мурманск, Архангельск, Москва, Санкт-Петербург
- Б) Иваново, Шуя, Псков, Кострома
- В) Шуя, Вологда, Ярославль, Кострома
- Г) Псков, Вологда, Кострома, Великие луки

5. Продолжительность светового дня 23 сентября на Северном полярном круге составляет:

- А) 0 ч Б) 12 ч В) 24 ч Г) 6 ч

6. Расположите страны, в порядке увеличения длины их береговой линии:

- А) Норвегия Б) Россия В) Япония Г) Канада

7. В какой из перечисленных стран есть приливные электростанции?

- А) Болгария Б) Франция В) Италия Г) Испания

8. Определить город, чье описание и фотографии приведены в тексте:



Город был заложен в 1583 г. по указу Ивана Грозного на правом берегу Северной Двины. Это первый крупный морской порт Русского государства. В конце XIX – начале XX веков крупный лесопромышленный и лесозэкспортный центр России. Город играл большую роль в освоении Арктики и Северного морского пути. В настоящее время в этом населенном пункте сосредоточены предприятия лесобработывающей, целлюлозно-бумажной, рыбной промышленности и машиностроения. Это областной центр с населением около 350 тыс. человек.

Ответ: Архангельск

9. Выберите страну – крупнейшего производителя стали в мире:

- 1 А) Россия Б) США В) Китай Г) Япония

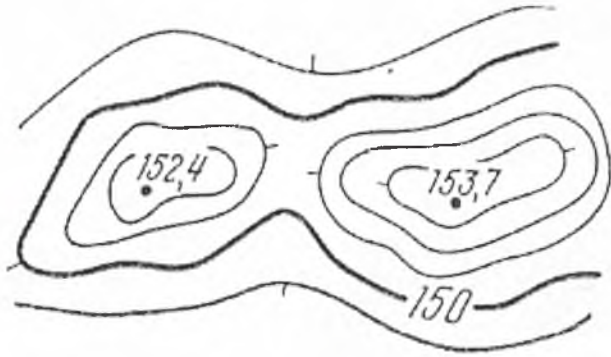
10. В каком субъекте РФ ведется добыча калийных солей?

- 1 А) Мурманская область В) Пермский край
Б) Челябинская область Г) Астраханская область

11. Выберите второй по численности этнос в России:

- 1 А) белорусы Б) украинцы В) татары Г) башкиры

12. Какая форма рельефа изображена?



- А) Котловина Б) Овраг В) Седловина
Г) Вершина Д) Хребет Е) Лощина

13. Что является главной чертой географического положения Северо-Западного района (указать правильный ответ):

- 1 А) Положение в пределах Русской равнины В) Бывшее столичное положение
Б) Приморское положение Г) Окраинное положение

14. Политически независимыми государствами называются (выбрать правильный ответ):

- 1 А) колонии; Б) метрополии; В) суверенные; Г) «ключевые страны»

15. Международная организация МАГАТЭ занимается вопросами (выбрать правильное утверждение):

- 1 А) развития атомной энергетики; Б) экспорта нефти;
В) развития чёрной и цветной металлургии; Г) рыбной промышленности.

ВСЕГО ЗА ТЕСТОВЫЙ ТУР – 15 БАЛЛОВ

ИТОГО 50 БАЛЛОВ

130

Председатели: Сивилев ТН
Члены: Шифер: Пирский АА Ш
Лавин АА Ло
Коржавин СГ Вор
Овчут О.В. О.
Савченко СМ СР

350